

## دخترچه سوالات و پاسخ تشریحی مرحله اول

### بیست و چهارمین دوره المپیاد فیزیک سال ۱۳۸۹

مدت آزمون (دقیقه)	تعداد سوالات	
	مسأله‌های تشریحی	سوالات چند گزینه‌ای
۱۸۰	۵	۳۰

استفاده از ماشین حساب ممنوع است.

توضیحات مهم

#### تذکرات آزمون:

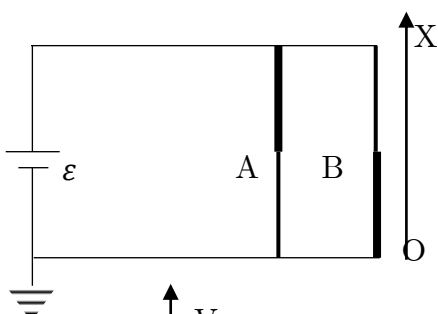
- ضمن آرزوی موفقیت برای شما دانش‌پژوه گرامی، خواهشمند است قبل از پاسخ به سؤالات آزمون به موارد زیر توجه کنید:
- این آزمون شامل **۳۰ سوال تستی و ۵ مسأله‌ی تشریحی** و وقت آن **۱۸۰ دقیقه** است.
- نمره‌ی هر سوال در ابتدای آن نوشته شده است.
- استفاده از ماشین حساب در این آزمون مجاز است.
- همراه داشتن تلفن همراه (حتی خاموش) در طول زمان آزمون مجاز نیست.
- فقط داوطلبانی می‌توانند دفترچه‌ی سؤالات را با خود ببرند که تا پایان آزمون در جلسه حضور داشته باشند.
- آماده‌سازی پاسخنامه‌ی این آزمون توسط **ایرانفو، مرجع المپیاد فیزیک ایران** انجام شده است.
- جمع‌آوری و آماده‌سازی دفترچه‌ی سؤالات این آزمون توسط **کمیته‌ی علمی ماخ** انجام شده است.

# ایرانفو

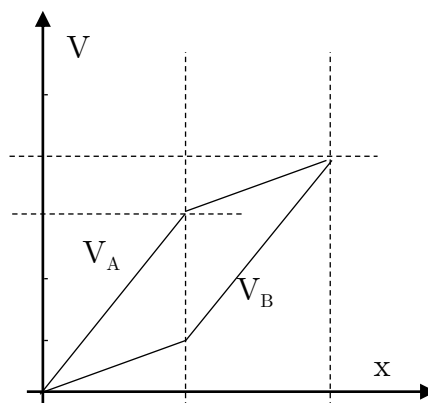
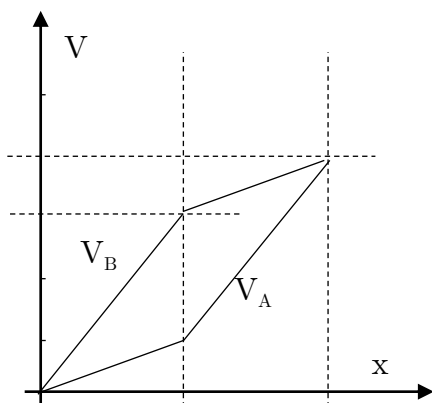
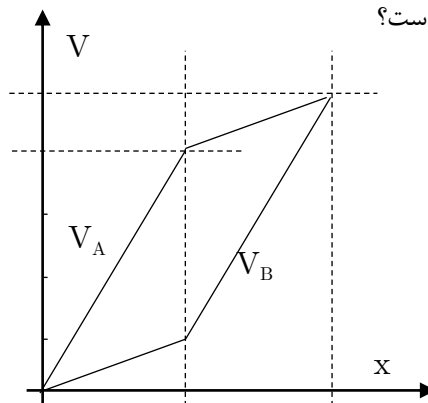
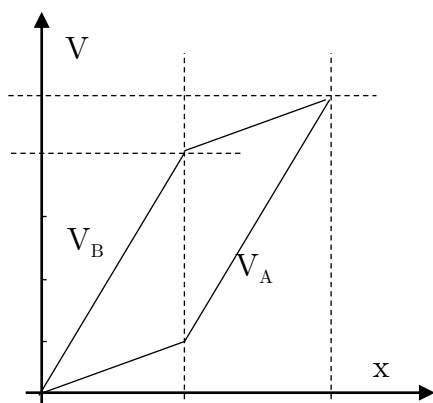
مرجع المپیاد فیزیک ایران  
سازمان آموزش عالی و پژوهش

کلیه حقوق این سوالات برای ماخ محفوظ است.

۱- در مداری که در شکل نشان داده شده شاخه‌های  $A$  و  $B$  از دو سیم با جنس یکسان و طول‌های یکسان ساخته شده است. قطر سیم در قسمت کلفت‌تر در هر شاخه دو برابر قسمت نازک‌تر است. محور  $x$  به موازت سیم‌ها است و مبدأ آن نقطه‌ی  $O$  است. پتانسیل نقطه‌ای به مختصات  $x$  در شاخه‌ی  $A$ ،  $V_A(x)$  و در شاخه‌ی  $B$ ،  $V_B(x)$  است.



کدام نمودار درست است؟



۲- کابل مقاومت‌دار یکنواختی به طول  $\ell$  با غلاف نارسانا از زیرزمین عبور کرده و در نقاط  $A$  و  $B$  در دسترس است. در زیرزمین و در فاصله‌ای نامعلوم  $x$  از سر  $A$ ، غلاف نارسانا ساییده شده و جریان الکتریکی از این نقطه وارد زمین می‌شود. زمین را رسانایی با پتانسیل صفر می‌گیریم. فرض می‌کنیم در محل ساییدگی، کابل با مقاومت الکتریکی  $R$  به زمین وصل است. می‌خواهیم  $x$  را بیابیم. برای این کار ابتدا سر  $A$  را به پتانسیل  $V_A$  نسبت به زمین وصل می‌کنیم و پتانسیل سر آزاد  $B$  را نسبت به زمین می‌سنجیم. فرض کنید ابتدا پتانسیل  $V$  باشد. بار دیگر، سر  $B$  را به پتانسیل قابل تنظیمی وصل می‌کنیم و پتانسیل آن نسبت به زمین،  $V_B$  را چنان تنظیم می‌کنیم که پتانسیل سر آزاد  $A$  نسبت به زمین  $V$  شود. فاصله‌ی مجهول  $x$  از کدام رابطه به دست می‌آید؟

الف)  $\frac{\ell}{x} = 1 + \frac{V_B - V}{V_A - V}$       ب)  $\frac{x}{\ell} = 1 - \frac{V_A - V}{V_B + V_A}$       ج)  $\frac{\ell}{x} = 1 + \frac{V_A - V}{V_B - V}$       د)  $\frac{x}{\ell} = 1 - \frac{V_B - V}{V_B + V_A}$

۳- سیم  $\cap$  شکل فلزی که مقاومت الکتریکی آن ناچیز است، در صفحه‌ای قائم نگه داشته شده است. میله‌ی افقی  $AD$  به طول  $l$  و جرم  $m$  و مقاومت الکتریکی  $R$  می‌تواند آزادانه بر روی بازوهای قائم سیم  $\cap$  شکل بلغزد. میدان مغناطیسی یکنواخت  $B$  بر صفحه‌ی سیم  $\cap$  شکل عمود است. میله‌ی افقی را رها می‌کنیم تا به اندازه‌ی  $h$  سقوط کند. شتاب گرانش  $g$  است. اگر میله در این فاصله تقریباً به سرعت ثابتی، که به آن سرعت حد می‌گویند، رسیده باشد، کل گرمای تولید شده، در این فاصله‌ی زمانی چه قدر است؟

(الف)  $\frac{m^2 g^2 R^2}{2 \ell^4 B^4}$

(ب)  $m g h$

(ج)  $m g h + \frac{m^2 g^2 R^2}{2 \ell^4 B^4}$

(د)  $m g h - \frac{m^2 g^2 R^2}{2 \ell^4 B^4}$

۴- گلوله‌ی کوچکی به جرم  $m$  به انتهای نخ‌ی به طول  $l$  در نقطه‌ی  $O$  بسته شده و مجموعه مانند آونگ ساده‌ای در صفحه‌ای عمودی نوسان می‌کند. دوره‌ی نوسان این آونگ در این حالت  $T$  است. اگر در نقطه‌ی  $O'$  که به فاصله‌ی  $\frac{l}{n}$  از نقطه‌ی  $O$  و درست در زیر آن است. میخی قرار دهیم به طوری که نخ آونگ در هنگام حرکت به آن برخورد کند. دوره‌ی نوسان آونگ در این حالت  $T'$  می‌شود. در هر حال دامنه‌ی نوسان کوچک است. نسبت  $\frac{T'}{T}$  کدام است؟

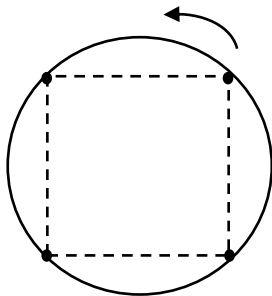
(الف) ۱

(ب)  $\frac{1}{2} + \sqrt{\frac{n-1}{4n}}$

(ج)  $\frac{1}{2} + \sqrt{\frac{n-1}{4(n+1)}}$

(د)  $\sqrt{\frac{n-1}{n}}$

۵- چهار جرم مشابه  $m$  که مطابق شکل روی رأس‌های مربعی به ضلع  $a$  قرار دارند، بر اثر نیروی گرانش بین خودشان روی دایره‌ای با سرعت زاویه‌ی  $\omega$  می‌گردند. کدام گزینه درست است؟



(الف)  $\omega = \sqrt{\frac{Gm}{a^3} \left( \frac{1}{2} + \sqrt{2} \right)}$

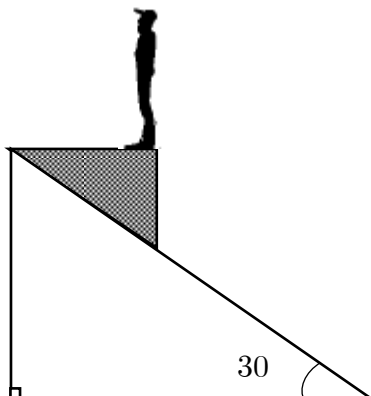
(ب)  $\omega = \sqrt{\frac{Gm}{a^3} \left( \frac{\sqrt{2}}{2} + 2 \right)}$

(ج)  $\omega = \sqrt{\frac{Gm}{a^3} \left( \frac{1}{2\sqrt{2}} + \sqrt{2} \right)}$

(د)  $\omega = \sqrt{\frac{Gm}{a^3} \left( \frac{-1}{2} + \sqrt{2} \right)}$

۶- شخصی روی سکوی متحرکی مطابق شکل ایستاده است. این سکو روی سطح شیب‌داری است که با افق زاویه‌ی  $30^\circ$  می‌سازد. در حالی که سکو به پایین می‌لغزد، نیروی قائمی که سکو به شخص وارد می‌کند  $\frac{15}{16}$  وزن شخص است. ضریب اصطکاک بین سکو و

سطح شیب‌دار چقدر است؟



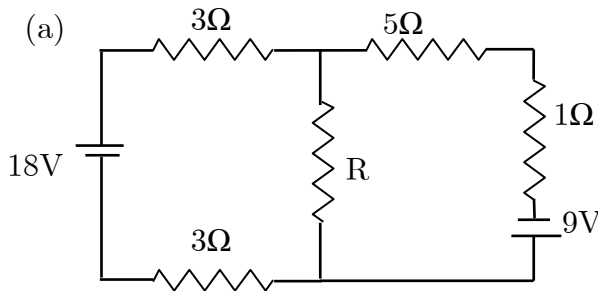
(الف)  $\frac{\sqrt{3}}{2}$

(ب)  $\frac{\sqrt{3}}{4}$

(ج)  $\frac{\sqrt{3}}{3}$

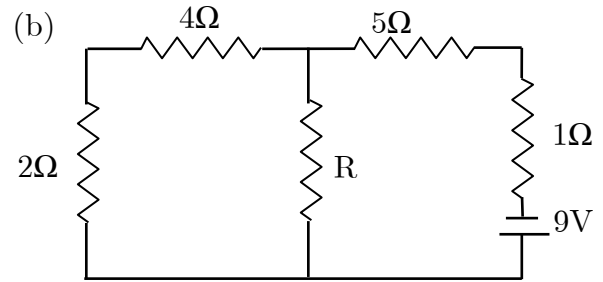
(د)  $\frac{2}{3}$

۷- در مدارهای (a) و (b) شکل زیر، مقاومت  $R$  یکسان است. نسبت توان مصرفی در مقاومت  $R$  در مدار (a) به توان مصرفی در این مقاومت در مدار (b) چقدر است؟



(د)  $\frac{9}{4}$

(ج) ۱



(ب)  $\frac{1}{4}$

(الف) ۴

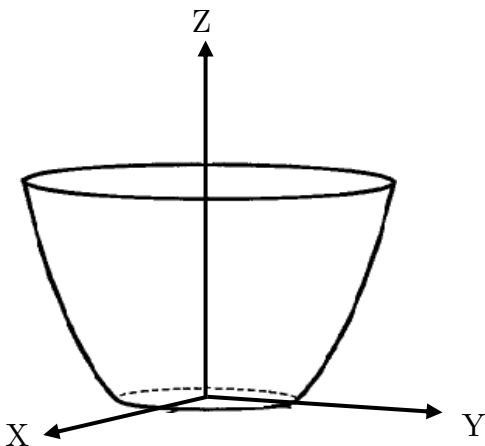
۸- پرتابه‌ای را با سرعت اولیه‌ی  $v$  و زاویه‌ی  $\alpha$  نسبت به افق پرتاب می‌کنیم.  $v$  چقدر باشد تا پس از زمان  $T$  پرتابه در حین پایین آمدن در نصف ارتفاع نقطه‌ی اوج خود باشد؟

(د)  $\frac{gT(2 - \sqrt{2})}{\sin \alpha}$

(ج)  $\frac{gT \cos \alpha}{2 + \sqrt{2}}$

(ب)  $\frac{gT(\sqrt{2} - 1)}{\sin \alpha}$

(الف)  $\frac{2gT}{(2 - \sqrt{2}) \sin \alpha}$



۹- فنجان‌ی مطابق شکل در نظر بگیرید. فرض کنید این فنجان از چرخاندن سهمی  $z = ax^2 - h$  در صفحه‌ی  $xz$  حول محور  $z$  ایجاد شده است، به

طوری که بخش  $z < 0$  سهمی بریده شده و صفحه‌ی تختی کف آن چسبانده شده است.  $a$  و  $h$  مقادیر ثابت و مثبت هستند. ارتفاع فنجان  $H$  است. فنجان را با مایعی به چگالی  $\rho$  پر می‌کنیم. جرم مایع  $M$  و فشار هوای بیرون  $P_0$  است. اندازه‌ی نیرویی که مایع به دیواره‌ی جانبی فنجان وارد می‌کند چقدر است؟

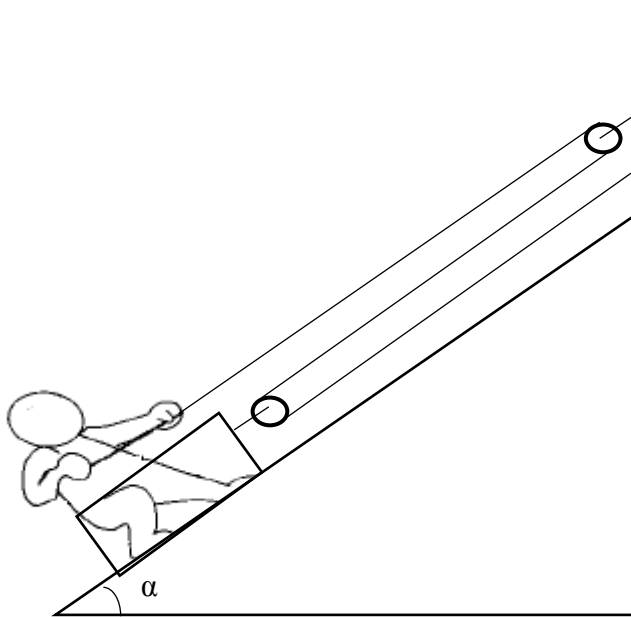
(الف)  $Mg - \frac{\pi h H \rho g - P_0 \pi (H + h)}{\alpha}$

(ب)  $Mg - \frac{\pi h (H + h) \rho g - P_0 \pi (H + h)}{\alpha}$

(ج)  $Mg - \frac{\pi h H \rho g - P_0 \pi H}{\alpha}$

(د)  $Mg - \frac{\pi h (H + h) \rho g + P_0 \pi h}{\alpha}$

۱۰- شخصی به جرم  $m$  درون جعبه‌ای به جرم  $m'$  ایستاده است. جعبه روی سطح شیب‌دار بدون اصطکاک است که با افق زاویه‌ای  $\alpha$  می‌سازد. شخص طنابی را که در شکل مشخص شده با نیروی ثابت  $F$  به موازات سطح شیب‌دار می‌کشد، و به این ترتیب شخص و جعبه روی سطح شیب‌دار بالا می‌روند. جرم قرقه‌ها و نخ ناچیز است. اگر مجموعه از حالت سکون شروع به حرکت کند، پس از زمان  $t$  چه طولی از طناب از داخل دستان شخص رد می‌شود؟



(الف)  $(\frac{3F}{m'} - g \sin \alpha)t^2$

(ب)  $(\frac{3F}{m + m'} - g \sin \alpha)t^2$

(ج)  $\frac{3}{2}(\frac{3F}{m'} - g \sin \alpha)t^2$

(د)  $\frac{3}{2}(\frac{3F}{m + m'} - g \sin \alpha)t^2$

۱۱- برای رنگ‌آمیزی یک مجسمه‌ی برنجی توپ‌بزرگ، ۱۰۰ قوطی رنگ لازم است. این مجسمه را ذوب می‌کنیم و با آن ۱۰۰۰ مجسمه‌ی برنجی توپ‌کوچک هم‌اندازه، که همگی متشابه مجسمه‌ی اصلی‌اند، می‌سازیم. برای رنگ‌آمیزی این ۱۰۰۰ مجسمه چند قوطی رنگ لازم است؟ ضخامت لایه‌ی رنگ در هر دو حالت یکسان است.

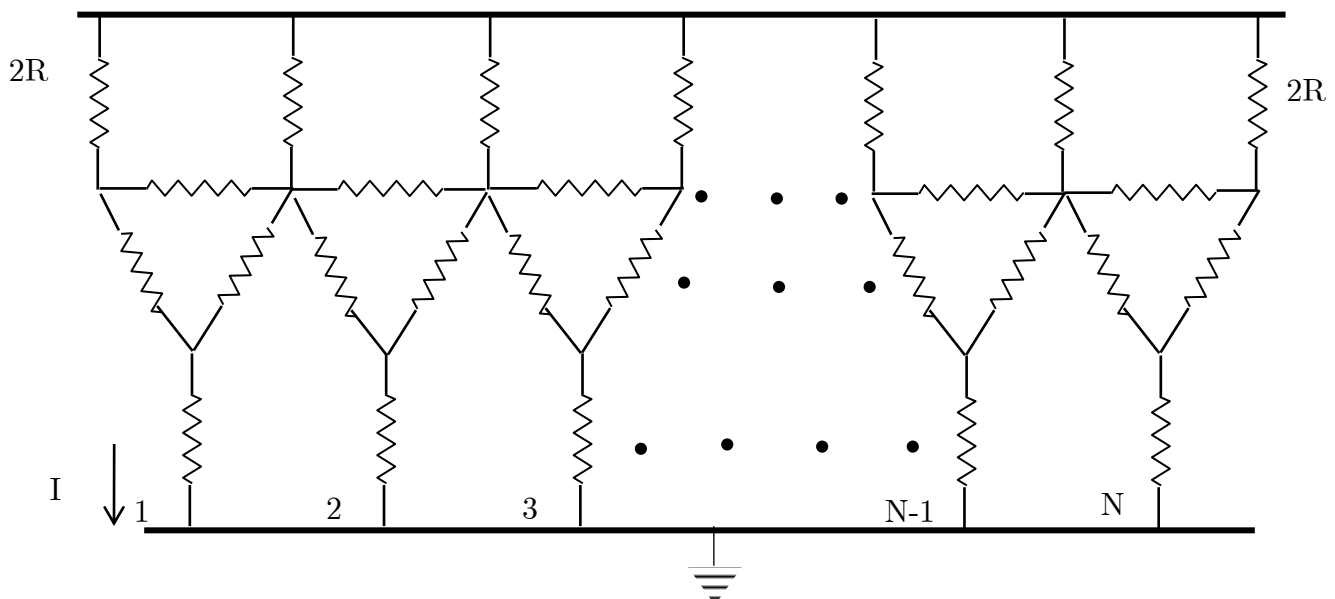
(الف) ۱۰

(ب) ۱۰۰

(ج) ۱۰۰۰

(د) ۱۰۰۰۰

۱۲- در مدار شکل، در ردیف پایین  $N$  مقاومت مشابه  $R$  قرار دارد. مقاومت‌های انتهایی ردیف بالا  $2R$  و بقیه‌ی مقاومت‌ها، همگی  $R$  هستند. اگر انتهای مقاومت‌های ردیف بالا به پتانسیل  $V_0$  وصل شده باشد، جریان  $I$  در شکل چقدر است؟



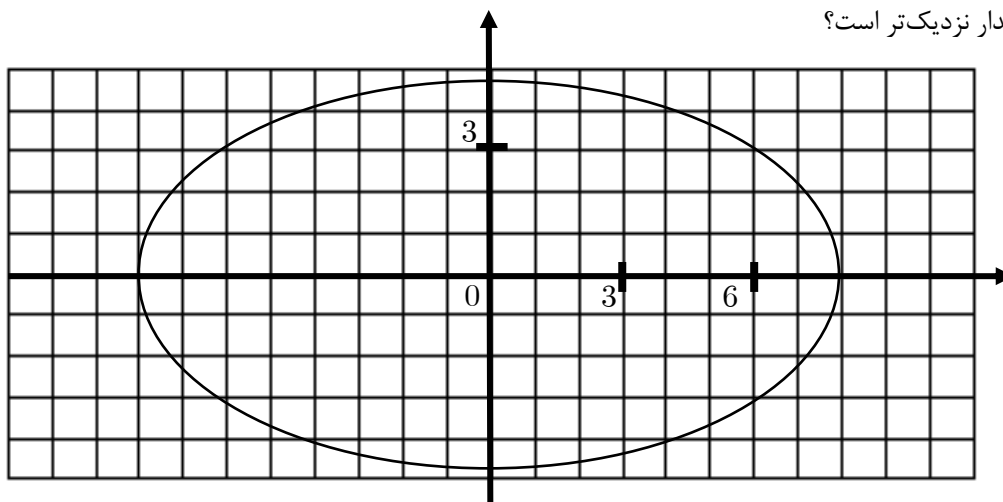
(الف)  $\frac{2V_0(N+1)}{R(5N+3)}$

(ب)  $\frac{2V_0(N+1)}{R(5N+2)}$

(ج)  $\frac{V_0}{2R}$

(د)  $\frac{2V_0}{5R}$

۱۳- منحنی سرعت - مکان ذره‌ای مطابق شکل است. هنگامی که سرعت ذره  $6 \frac{m}{s}$  و مکان آن  $3m$  است، اندازه‌ی شتاب ذره به کدام مقدار نزدیک‌تر است؟



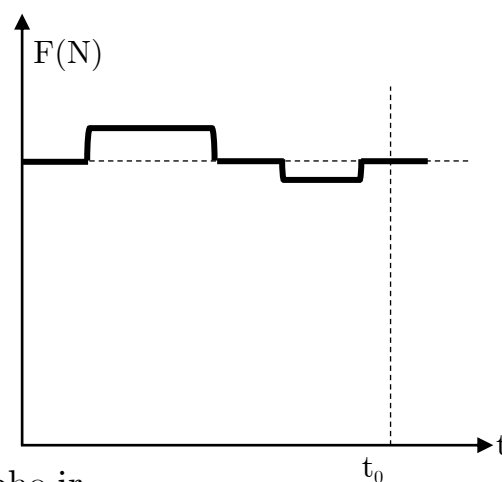
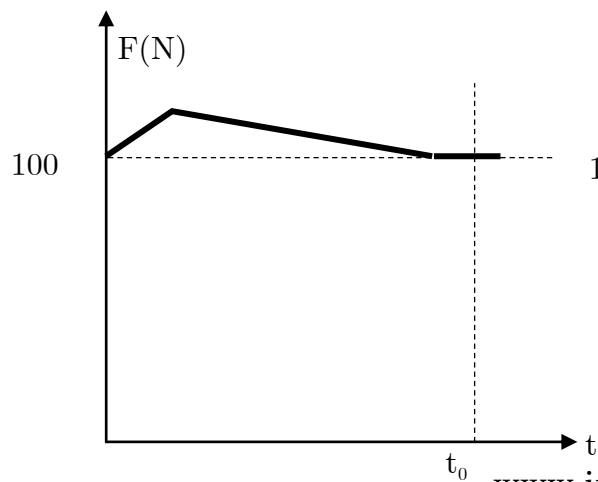
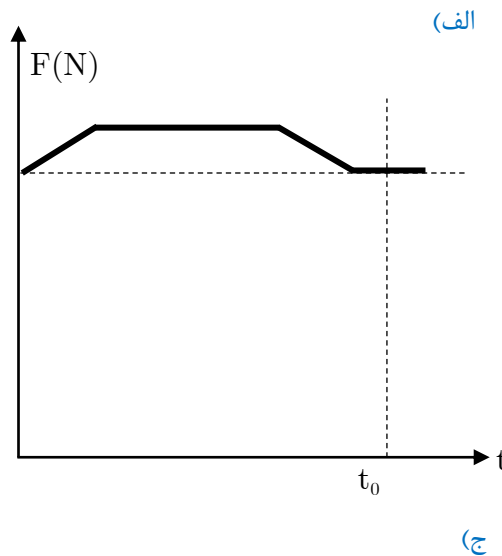
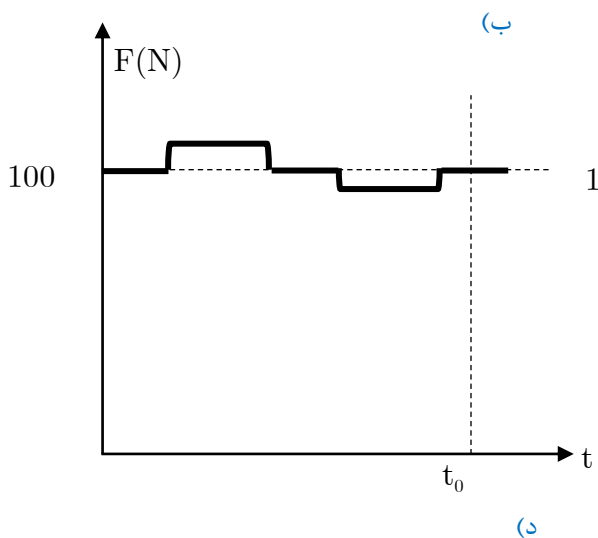
(د)  $\alpha = 16 \frac{m}{s^2}$

(ج)  $\alpha = 8 \frac{m}{s^2}$

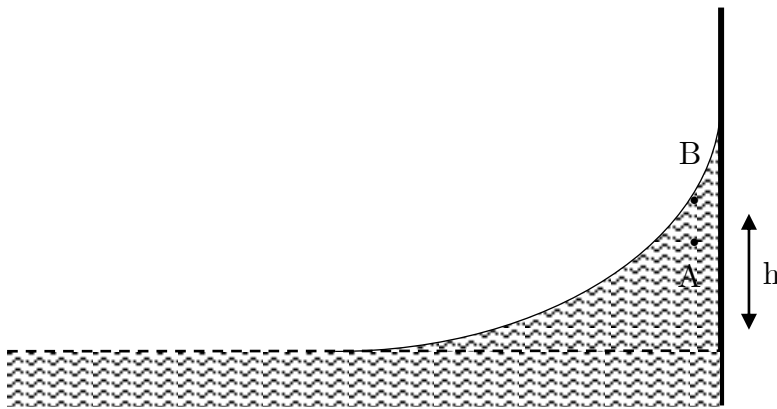
(ب)  $\alpha = 4 \frac{m}{s^2}$

(الف)  $\alpha = 2 \frac{m}{s^2}$

۱۴- جسمی به جرم  $10kg$  کف یک آسانسور قرار دارد. آسانسور از حال سکون به طرف بالا به راه می‌افتد و پس از مدت  $t_0$  در ارتفاع معینی می‌ایستد کدام نمودار می‌تواند نشان‌دهنده‌ی بستگی زمانی نیرویی باشد که کف آسانسور به جسم وارد می‌کند؟

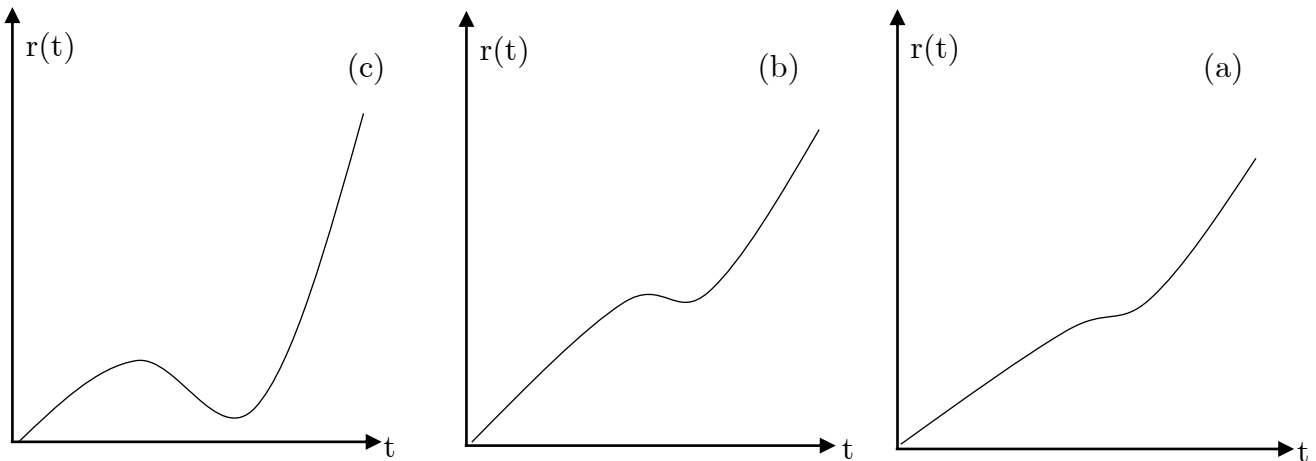


۱۵- مایعی به چگالی  $\rho$  کنار یک دیوار، به علت چسبندگی، کمی از آن بالا می‌رود. مطابق شکل نقطه‌ی  $A$  نقطه‌ای درون مایع درست زیر سطح مایع است، طوری که ارتفاع آن از سطح مایع در فاصله‌ی دور از دیوار،  $h$  است. نقطه‌ی  $B$  در نزدیکی  $A$  و درست بالای سطح مایع است. شتاب گرانش  $g$  است. اختلاف فشار این دو نقطه،  $P_A - P_B$  تقریباً برابر است با:



- الف)  $0$
- ب)  $\rho g h$
- ج)  $-\rho g h$

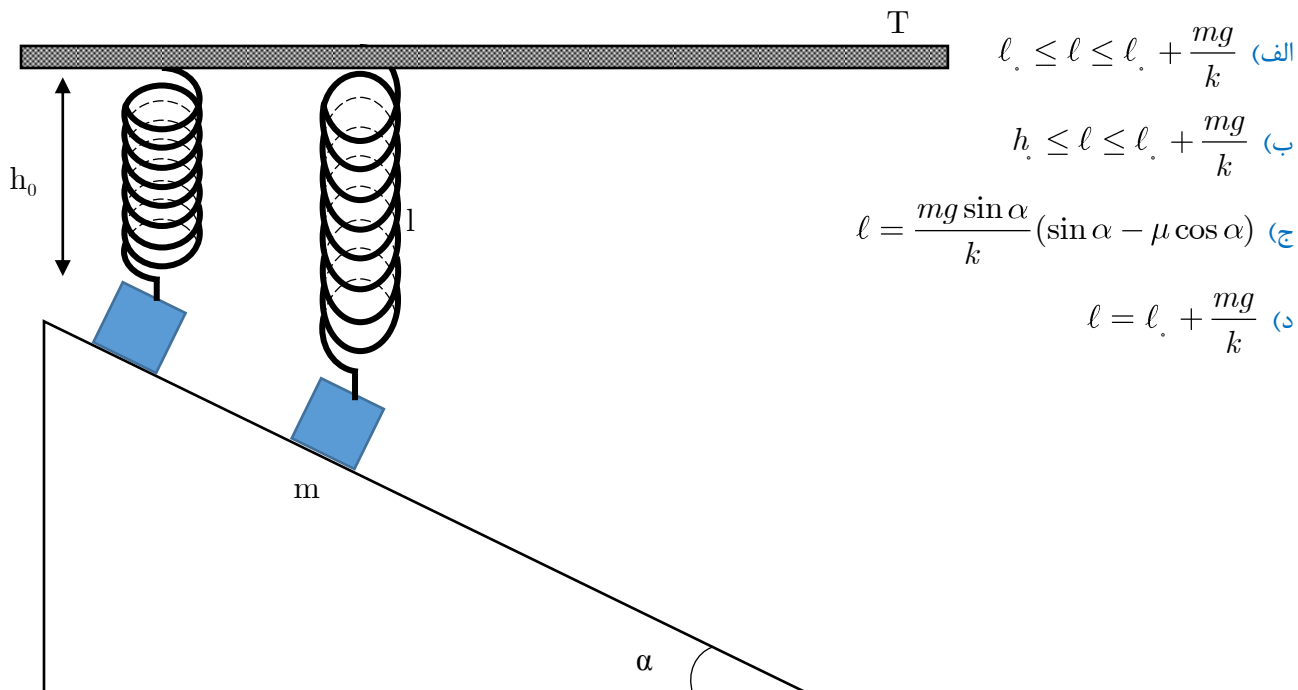
۱۶- پرتابه‌ای با سرعت اولیه‌ی  $V_0$  و با زاویه‌ی اولیه‌ی  $\theta_0 < \theta < \frac{\pi}{4}$  نسبت به افق، و بالای آن، از مبداء مختصات پرتاب می‌شود، و پس از رسیدن به سطح افق نقطه‌ی پرتاب به حرکت خود ادامه می‌دهد. فاصله‌ی پرتابه تا مبداء برحسب زمان  $r(t)$  است. سه حالت  $a$  و  $b$  و  $c$  را در نظر بگیرید.



کدام گزینه درست است؟

- الف) به ازای مقادیری از  $v_0$  که کوچکتر از یک مقدار بحرانی  $v_c$  است حالت  $a$  رخ می‌دهد. به ازای  $v_0 = v_c$  حالت  $b$  رخ می‌دهد، و با بزرگ شدن  $v_0$  بالاخره حالت  $c$  رخ می‌دهد.
- ب) به ازای مقادیری از  $v_0$  که کوچکتر از یک مقدار بحرانی  $v_c$  است، حالت  $c$  رخ می‌دهد. به ازای  $v_0 = v_c$  حالت  $b$  رخ می‌دهد، و با بزرگ شدن  $v_0$  بالاخره حالت  $a$  رخ می‌دهد.
- ج) به ازای مقادیری از  $\theta_0$  که کوچکتر از یک مقدار بحرانی  $\theta_c$  است حالت  $a$  رخ می‌دهد. به ازای  $\theta_0 = \theta_c$  حالت  $b$  رخ می‌دهد، و با بزرگ شدن  $\theta_0$  بالاخره حالت  $c$  رخ می‌دهد.
- د) به ازای مقادیری از  $\theta_0$  که کوچکتر از یک مقدار بحرانی  $\theta_c$  است حالت  $c$  رخ می‌دهد. به ازای  $\theta_0 = \theta_c$  حالت  $b$  رخ می‌دهد، و با بزرگ شدن  $\theta_0$  بالاخره حالت  $a$  رخ می‌دهد.

۱۷- مطابق شکل جسم  $m$  با فنری به ضریب  $k$  و طول عادی  $\ell_0$  به میله‌ی افقی ثابت  $T$  وصل است. این جسم روی سطح شیب‌داری به زاویه‌ی شیب  $\alpha$  و ضریب اصطکاک  $\mu$  ساکن است و در این حالت طول فنر  $\ell$  است. حلقه‌ی اتصال فنر به میله‌ی  $T$  بدون اصطکاک است. اگر جسم  $m$  در بالاترین نقطه‌ی سطح شیب‌دار باشد طول فنر  $h_0$  است و  $h_0 < \ell_0$  کلی‌ترین مقادیر ممکن  $\ell$  که جسم روی سطح شیب‌دار ساکن بماند کدام است؟

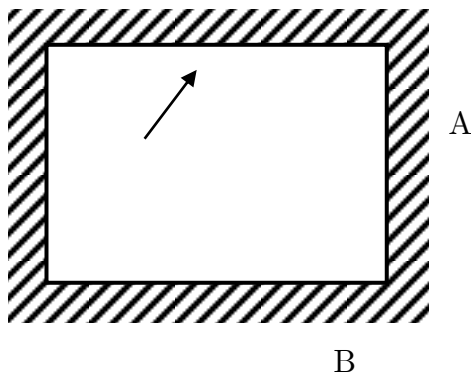


۱۸- آب از آبخاری به ارتفاع  $100m$  به زمین فرو می‌ریزد. فرض کنید ضمن فرو ریختن آب ۱٪ آن تبخیر می‌شود، که همگی گرمای لازم برای تبخیر آب از آب گرفته می‌شود. گرمای نهان تبخیر آب را  $2 \times 10^6 \frac{J}{kg}$ ، گرمای ویژه‌ی آب را  $4 \times 10^3 \frac{J}{(kg^\circ C)}$  و

شتاب گرانش را  $10 \frac{m}{s^2}$  بگیرید. تغییر دمای آب به کدام گزینه نزدیک‌تر است؟

- الف)  $5^\circ C$     ب)  $-5^\circ C$     ج)  $10^\circ C$     د)  $-10^\circ C$

۱۹- شکل زیر مقطع چهار آینه‌ی تخت را نشان می‌دهد که مستطیلی به ابعاد  $A$  و  $B$  است. مسیر یک پرتوی نور بین آینه‌ها مستطیلی به ابعاد  $a$  و  $b$  است. نسبت  $\frac{A}{B}$  چیست؟



- الف)  $\frac{a}{b}$
- ب)  $\frac{ab}{a^2 + b^2}$
- ج) ۱
- د)  $\frac{a}{\sqrt{a^2 + b^2}}$

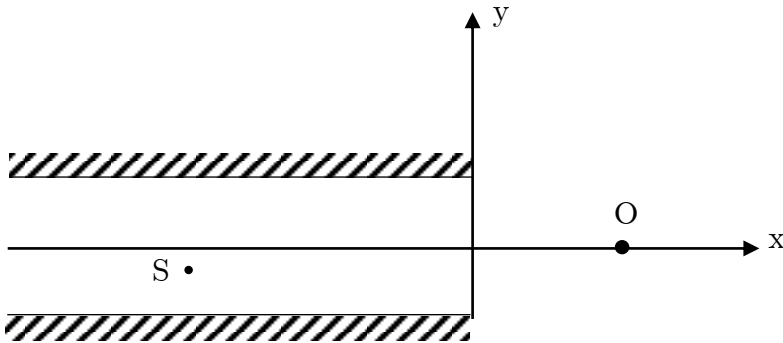


۲۰- دو آینه‌ی تخت موازی به فاصله‌ی  $3/0\text{ m}$  از یکدیگر قرار دارند. مطابق شکل محور  $x$  موازی آینه‌ها و به یک فاصله از هر دو است، و محور  $y$  عمود بر آینه‌هاست. و از لبه‌های آن‌ها می‌گذرد. چشمه‌ی نقطه‌ی  $S$  و ناظر  $O$  هر دو در صفحه‌ی  $xy$  هستند و مختصات آن‌ها چنین است:

$$x_S = -0/4\text{ cm} \quad x_O = 0/2\text{ cm}$$

$$y_S = -0/5\text{ cm} \quad y_O = 0/0$$

ناظر  $O$  چند تصویر از چشمه‌ی  $S$  در آینه‌ها می‌بیند؟

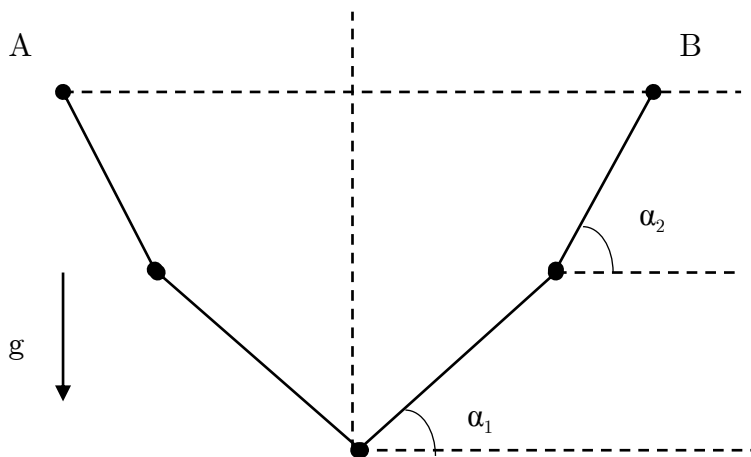


- الف) ۲
- ب) ۳
- ج) ۴
- د) ۵
- ه)  $\infty$

۲۱- قطره‌های باران تحت اثر بادی که با سرعت افقی  $u_w$  می‌وزد قرار دارند و شتاب گرانش  $g$  است. فرض کنید نیروی مقاومت هوا از دید ناظری که نسبت به هوا ساکن است  $-b\bar{v}$  است، که  $\bar{v}$  سرعت قطره‌ی باران نسبت به این ناظر و  $b$  یک ضریب ثابت و مثبت است. پس از مدتی، قطرات باران از دید ناظر زمین با سرعت حدی ثابتی که نسبت به امتداد قائم زاویه‌ی  $\alpha$  می‌سازد، سقوط می‌کنند. کدام گزینه درست است؟

الف)  $\sin \alpha = \frac{bv_w}{mg}$       ب)  $\cos \alpha = \frac{bv_w}{mg}$       ج)  $\tan \alpha = \frac{bv_w}{mg}$       د)  $\cot \alpha = \frac{bv_w}{mg}$

۲۲- مطابق شکل سه گلوله‌ی متشابه با چهار ریسمان سبک به طول‌های مساوی، بین نقاط هم ارتفاع  $A$  و  $B$  آویخته شده‌اند. امتداد نخ‌ها با افق زاویه‌های  $a_1$  و  $a_2$  می‌سازند. نسبت  $\frac{\tan a_1}{\tan a_2}$  چیست؟

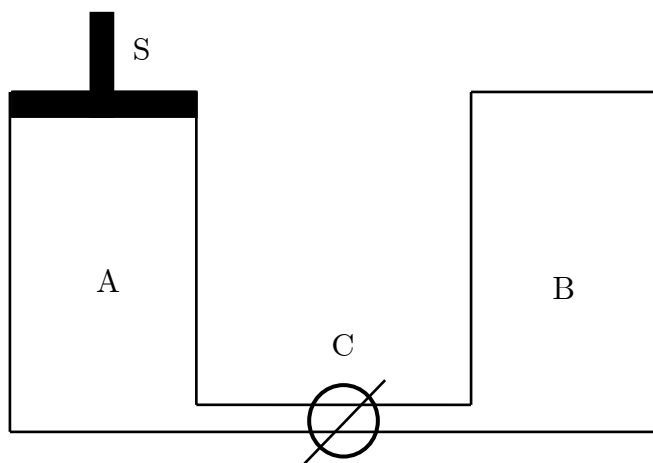


- الف)  $\frac{2}{3}$
- ب)  $\frac{1}{\sqrt{3}}$
- ج)  $\frac{1}{3}$
- د)  $\frac{1}{2}$

۲۳- دو محفظه‌ی عایق استوانه‌ای یکسان  $A$  و  $B$  به حجم  $V$  و ظرفیت گرمایی ناچیز، مطابق شکل، توسط شیر  $C$  به هم متصل‌اند. ابتدا استوانه‌ی  $A$  حاوی  $n$  مول گاز کامل تک اتمی در دمای  $T$  و ظرفیت گرمایی مولی در حجم ثابت  $\frac{3}{2}R$  است.

انتهایی بالایی محفظه‌ی  $A$  توسط پیستون  $S$ ، که می‌تواند آزادانه درون استوانه حرکت کند، کاملاً بسته شده است. استوانه‌ی در بسته و درون آن کاملاً خلاء است. شیر  $C$  به گونه‌ای باز می‌شود که بر اثر ورود گاز به استوانه‌ی  $B$  پیستون به طریقی به پایین بلغزد که فشار در  $A$  ثابت بماند. پس از آن که گاز تمامی حجم ظرف  $B$  و بخشی از حجم ظرف  $A$  را پر کرد، پیستون ساکن می‌شود. اگر  $T'$  دمای

مطلق گاز در پایان این فرآیند باشد، نسبت  $\frac{T'}{T}$  چقدر است؟



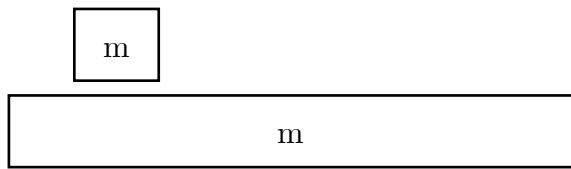
الف)  $\frac{8}{6}$

ب)  $\frac{6}{5}$

ج)  $\frac{7}{5}$

د)  $\frac{9}{7}$

۲۴- جعبه‌ای به جرم  $m$  روی جعبه‌ی دراز دیگری به جرم  $m$  قرار دارد. اصطکاک جعبه‌ی زیر با زمین ناچیز است، اما دو جعبه با هم اصطکاک دارند. در لحظه‌ی  $t = 0$  جعبه‌ی زیری ساکن است و جعبه‌ی رویی با سرعت  $v_0$  نسبت به زمین حرکت می‌کند. کل کار نیروی اصطکاک روی جعبه‌ی بالایی از دید ناظر زمینی چقدر است؟ فرض کنید جعبه‌ی پایینی آن قد دراز است که جعبه‌ی بالایی از روی آن نمی‌افتد.



ب)  $-\frac{1}{2}mv_0^2$

د)  $-\frac{3}{4}mv_0^2$

الف)  $-\frac{3}{8}mv_0^2$

ج)  $-\frac{1}{4}mv_0^2$

۲۵- در فاصله‌ی  $d$  از یک دیوار، یک عدسی همگرا با فاصله‌ی کانونی  $f > d$  به موازات دیوار قرار دارد. از سمت مقابل دیوار یک باریکه‌ی لیزر با سطح مقطع دایره‌ای، که محور آن همان محور عدسی است، به عدسی می‌تابد. شدت باریکه  $I_0$  است. پس از عبور این باریکه از عدسی یک قرص روشن روی دیوار تشکیل می‌شود. شدت این قرص روشن،  $I$ ، چیست؟

د)  $I = I_0 \frac{f^2}{(f-d)d}$

ج)  $I = I_0 \left(\frac{f}{f-d}\right)^2$

ب)  $I = I_0 \frac{f}{f-d}$

الف)  $I = I_0$

۲۶- گلوله‌ی کوچکی به جرم  $m$  دارای بار الکتریکی مثبت  $Q$  از نخ‌ی با جرم ناچیز به طول  $\ell$  آویخته شده است. گلوله‌ی مشابه دیگری با همان بار الکتریکی را به آرامی به گلوله‌ی آویخته نزدیک می‌کنیم و در جای قبلی گلوله‌ی اول نگه می‌داریم. راستای نخ به اندازه‌ی  $\theta$  از راستای قائم منحرف می‌شود. کشش نخ در این وضعیت چقدر است؟ شتاب گرانش  $g$  و ثابت قانون کولن  $k$  است.

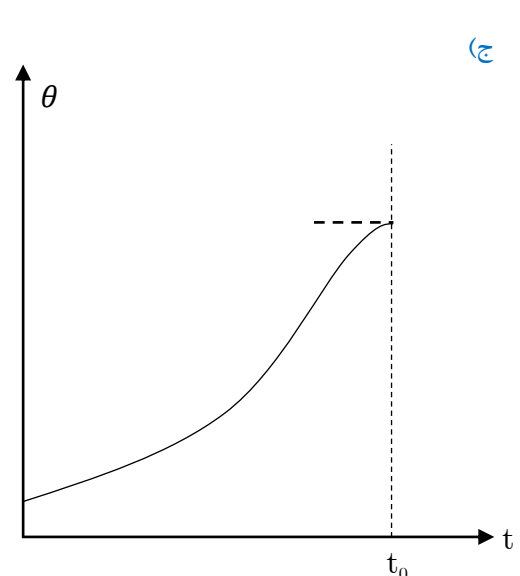
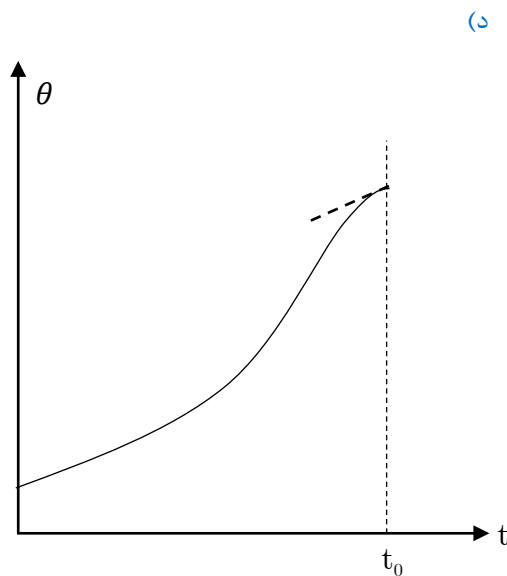
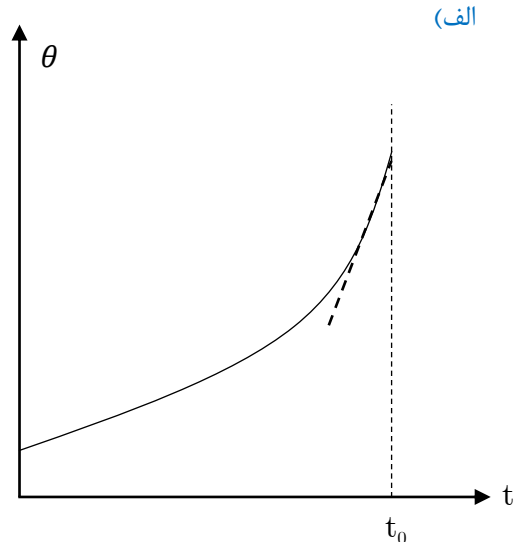
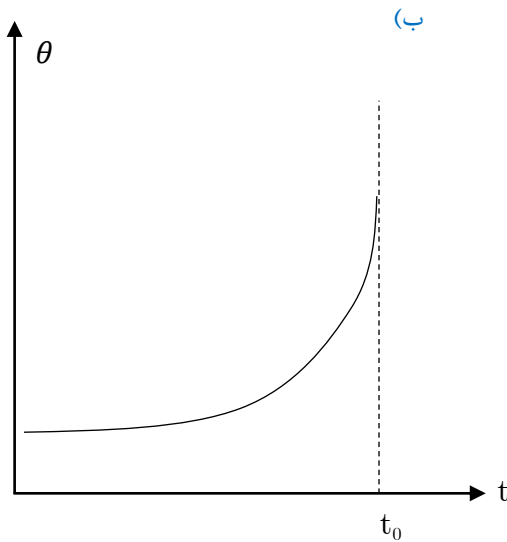
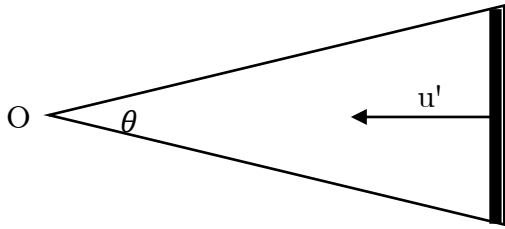
د)  $\frac{kQ^2}{\ell^2 \sin^2 \theta}$

ج)  $\frac{kQ^2}{4\ell^2 \sin^2 \theta}$

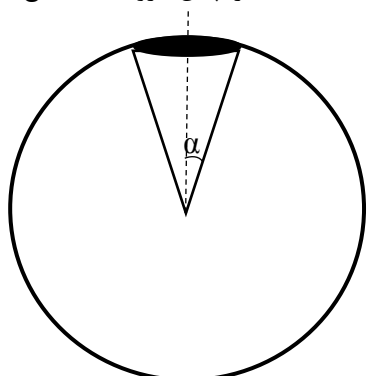
ب)  $mg \cos \theta$

الف)  $mg$

۲۷- میله‌ای مطابق شکل با سرعت ثابت  $\bar{v}$  عمود بر امتداد خود حرکت می‌کند. ناظر  $O$  میله را با زاویه‌ی  $\theta$  می‌بیند. خط واصل از ناظر  $O$  به مرکز میله در امتداد  $\bar{v}$  است. اگر در لحظه‌ای  $t_0$  میله به ناظر برسد، کدام گزینه بستگی  $\theta$  به زمان را نشان می‌دهد؟



۲۸- یک چشمه‌ی نقطه‌ای نور که در تمام جهات به طور یکسان تابش می‌کند زیر سطح افقی مایعی قرار دارد. ضریب شکست مایع  $1/25$  است. بالای مایع هوا است. چند درصد از نور چشمه از سطح مایع خارج می‌شود؟ مساحت یک عرقچین کروی به شعاع  $R$



و با نیم‌زاویه‌ی رأس  $\alpha$  برابر  $\frac{4\pi R^2 \sin^2 \alpha}{3}$  است.

(الف) کمتر از ۲۰٪

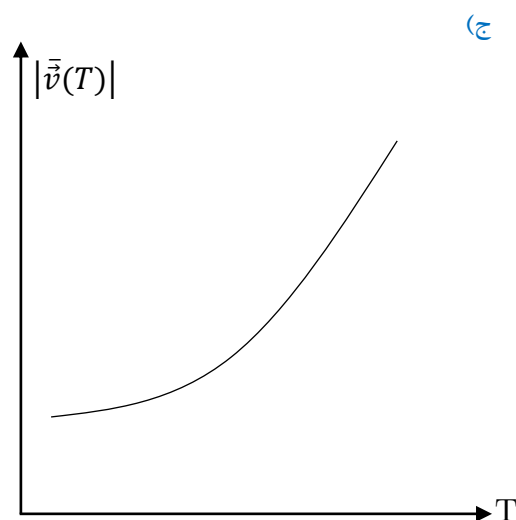
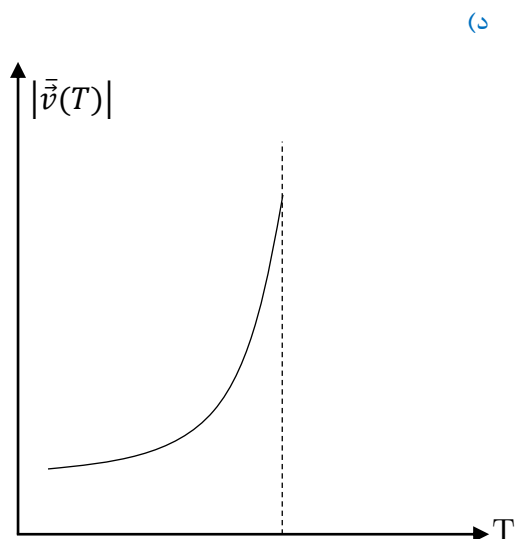
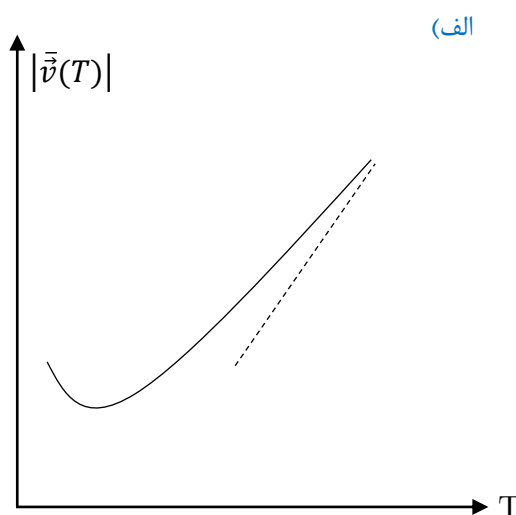
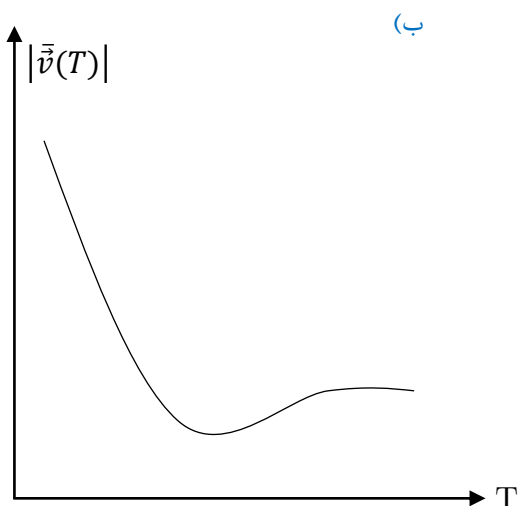
(ب) بین ۲۰٪ تا ۳۰٪

(ج) بین ۳۰٪ تا ۴۰٪

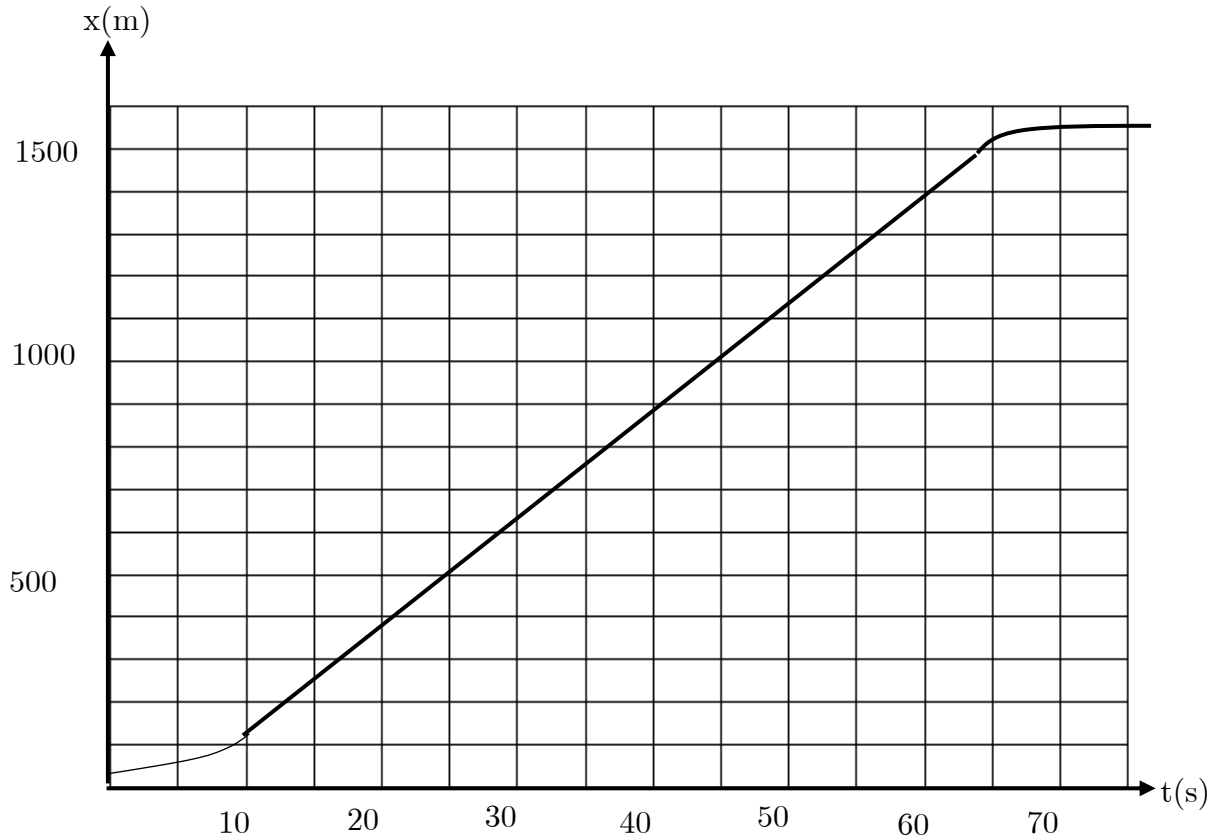
(د) بیشتر از ۴۰٪

۲۹- پرتابه‌ای در زمان  $t = 0$  با سرعت اولیه‌ی  $v_0$  تحت زاویه‌ی  $\theta$  نسبت به افق و بالای افق پرتاب می‌شود و پس از رسیدن به سطح افق نقطه‌ی پرتاب به حرکت خود ادامه می‌دهد. بردار سرعت متوسط پرتابه بین زمان  $t = 0$  تا  $t = T$  را با  $\bar{v}(T)$

نشان می‌دهیم.  $|\bar{v}(T)|$  اندازه‌ی این بردار است. کدام گزینه نمودار  $|\bar{v}(T)|$  بر حسب  $T$  را درست نشان می‌دهد؟



۳۰- ماه یوزپلنگی آهوئی را در فاصله‌ی ۵۰۰ متری خود می‌بیند و به سمت آن می‌دود. حرکت یوزپلنگ و آهو را در یک خط راست بگیرید. منحنی مکان - زمان یوزپلنگ را در شکل می‌بینید. به اندازه‌ی زمان  $T$  طول می‌کشد تا آهو متوجه یوزپلنگ شود و شروع به فرار کند. آهو در مدت بسیار کوتاهی سرعت خود را به  $60 \frac{km}{h}$  می‌رساند و با این سرعت ثابت فرار می‌کند. از زمان شتاب گرفتن آهو چشم‌پوشی کنید. برای آن که آهو بتواند از دست یوزپلنگ فرار کند، حداکثر مقدار  $T$  به کدام گزینه نزدیک‌تر است؟



(د) ۲۰ s

(ج) ۱۵ s

(ب) ۱۰ s

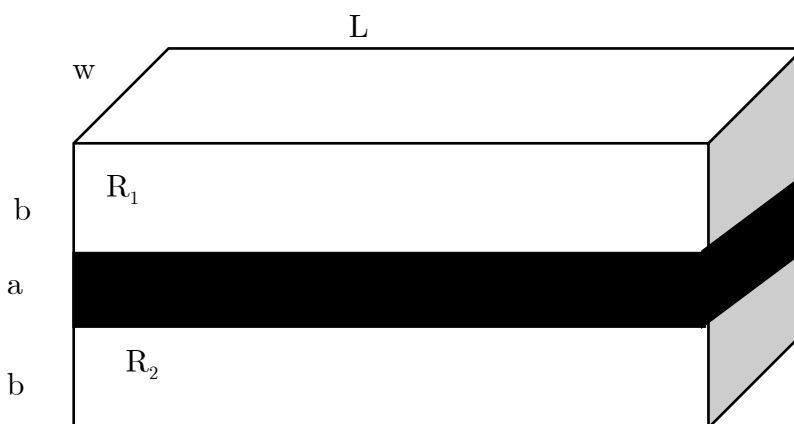
(الف) ۵ s

## «مسئله‌های کوتاه»

۱- نوار مسی نازکی به ضخامت  $a$  عرض  $w$ ، و طول بسیار بلند  $L$  (حدود متر) بین دو نوار لاستیکی با همین عرض و طول، و ضخامت  $b$  قرار گرفته است. این دو نوار در شکل زیر با نام‌های  $R_1$  و  $R_2$  مشخص شده‌اند.  $a$  و  $b$  بسیار کوچک‌تر از  $w$  اند. از نوار مسی جریان  $I$  در امتداد طول آن می‌گذرد و مجموعه در محیطی به دمای ثابت  $\theta$  قرار گرفته است. نوار مسی بر اثر عبور جریان گرم می‌شود و گرما فقط از نوار مسی به دو نوار لاستیکی و فقط از سطوح بالایی و پایینی دو نوار لاستیکی به محیط منتقل می‌شود فرض کنید دمای سطوح بالایی و پایینی این دو نوار لاستیکی همواره همان دمای محیط است. ضریب هدایت گرمایی لاستیک  $k$  و مقاومت ویژه‌ی مس  $\rho$  است. در حالت پایدار دمای نوار مسی چند درجه‌ی سلسیوس است؟ همه‌ی مقادیر عددی لازم در زیر داده شده است.

$$a = 0.1 \text{ mm}, \quad b = 0.2 \text{ mm}, \quad w = 1.0 \text{ mm}, \quad I = 2.0 \text{ A},$$

$$\rho = 1.7 \times 10^{-8} \Omega \text{ m}, \quad k = 0.16 \frac{\text{W}}{\text{cm} \cdot \text{C}}, \quad \theta = 23 \text{ }^\circ\text{C}.$$



۲- نوار مسی نازکی به عرض  $w$ ، ضخامت  $a$ ، و طول  $L$  (در حدود متر) در اتاقی به دمای  $T = 300 \text{ K}$  قرار گرفته. از این نوار یک جریان الکتریکی به شدت  $I$  در جهت طول نوار می‌گذرد. نوار فقط می‌تواند با تابش با محیط اطرافش تبادل گرما بکند. وقتی جسمی به مساحت  $A$  و دمای مطلق  $T_1$  در اتاقی به دمای مطلق  $T_2$  قرار می‌گیرد، با توان  $A\sigma T_1^4$  انرژی از دست می‌دهد، و با توان  $A\sigma T_2^4$  از محیط انرژی می‌گیرد، که در این جا  $\sigma$  ثابت است.

دمای این نوار مسی در حالت پایدار چند درجه‌ی سلسیوس است؟ همه‌ی عددهای لازم در زیر آمده است. برای محاسبه می‌توانید از

$$\text{تقریب } (1+x)^{\frac{1}{4}} \simeq 1 + \frac{x}{4} - \frac{3x^2}{32}$$

$$w = 1.0 \text{ cm}, \quad a = 0.1 \text{ mm}, \quad \sigma = 5.7 \times 10^{-8} \text{ W m}^{-2} \text{ K}^{-4},$$

$$\rho = 1.7 \times 10^{-8} \Omega \text{ m}, \quad I = 2.0 \text{ A}.$$

۳- یکی از واکنش‌های شکافت هسته‌ای اتم  ${}_{92}^{235}\text{U}$  به صورت زیر است.



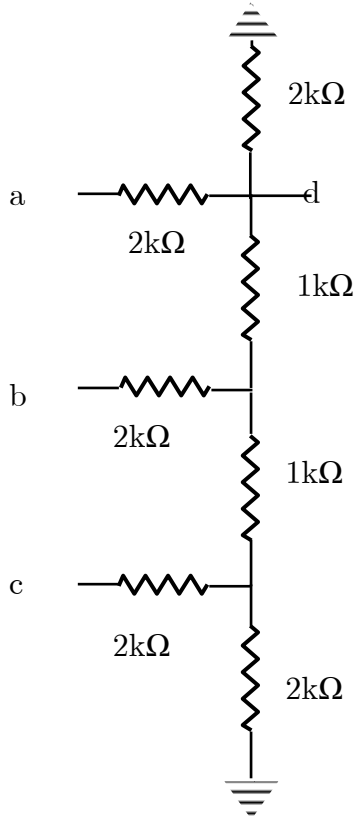
جرم ذرات این واکنش برحسب واحد جرم اتمی ( $u$ ) در جدول زیر آمده است.

ذره	${}_{92}^{235}\text{U}$	${}_{56}^{141}\text{Ba}$	${}_{36}^{92}\text{Kr}$	${}_0^1n$
جرم	$235/4u$	$140/91u$	$91/91u$	$1/0.1u$

۵٪ از اتم‌های اورانیوم غنی شده که در نیروگاه هسته‌ای به عنوان سوخت استفاده می‌شود  ${}_{92}^{235}U$  و بقیه  ${}_{92}^{238}U$  اند. هسته‌های  ${}_{92}^{238}U$  واکنش شکافت ندارند. در واکنش فوق فرض کنید انرژی جنبشی نوترون اولیه ناچیز است. انرژی آزاد شده از شکافت کامل  $10\text{ g}$  سوخت نیروگاه هسته‌ای چند گیگاژول است؟ (گیگا یعنی  $10^9$ ) فرض کنید فقط واکنشی که در بالا آمد روی می‌دهد.

$$1u = 1/7 \times 10^{-27} \text{ kg},$$

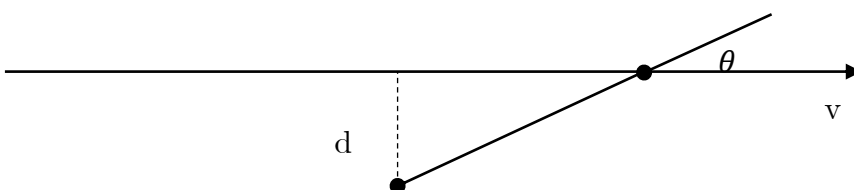
۴- در مدار شکل، نقاط  $a$  و  $b$  و  $c$  را به پتانسیل  $24V$  وصل می‌کنیم. پتانسیل نقطه‌ی  $d$  چند ولت است؟

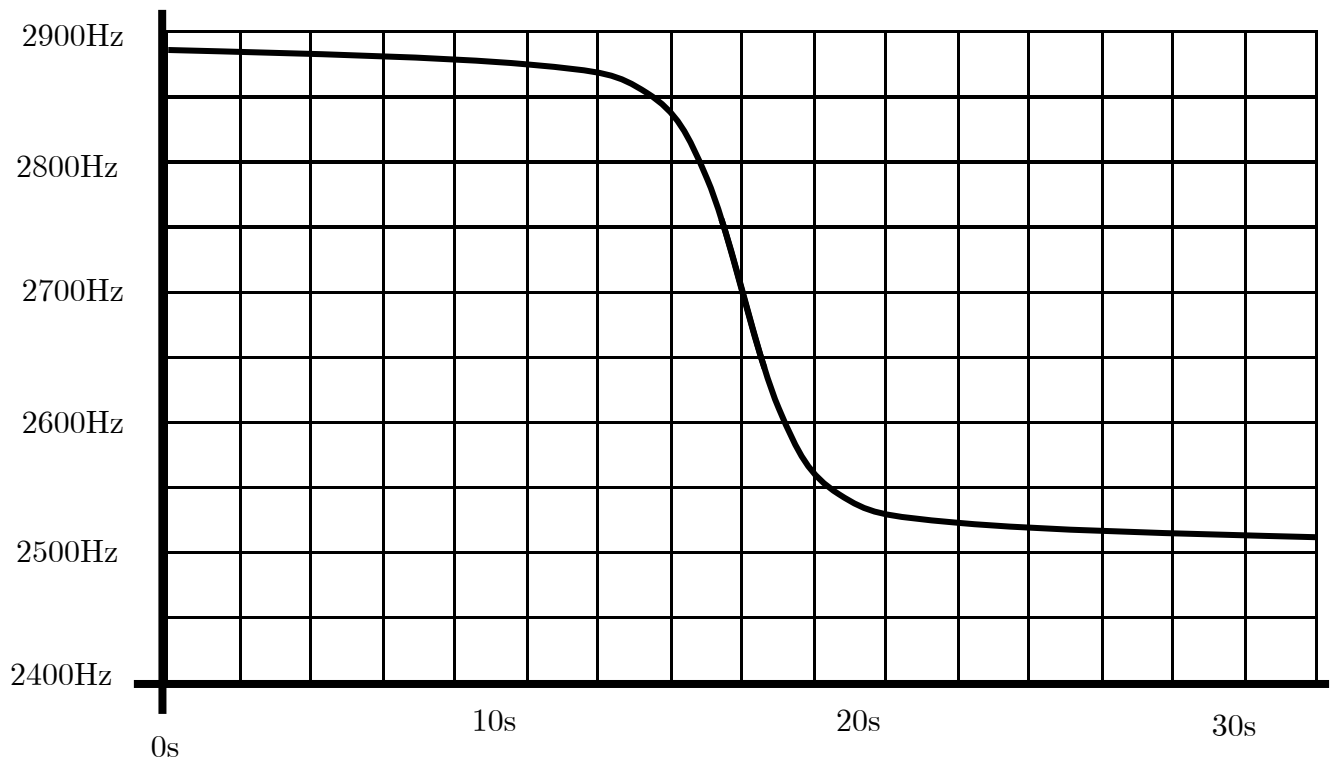


۵- شخصی در کنار جاده‌ای، به فاصله‌ی  $d$  از جاده ایستاده است. آمبولانسی، آژیرکشان، در جاده حرکت می‌کند. به نحوی که ابتدا به شخص نزدیک می‌شود و سپس دور می‌شود. اگر بسامد آژیر آمبولانس  $f_1$  باشد، بسامدی که شخص می‌شوند  $f$  است که با فرمول زیر داده می‌شود.

$$f = f_1 \left(1 - \frac{u}{c} \cos \theta\right)$$

در این فرمول  $c = 329 \frac{m}{s}$  سرعت صوت در هوا است، و  $\theta$  زاویه‌ای است که خط واصل شخص به آمبولانس با امتداد بردار سرعت آمبولانس می‌سازد. (شکل را ببینید) این شخص با یک ابزار دقیق بسامد آژیر برحسب زمان را ثبت کرده است. نمودار حاصل در زیر آمده است. سرعت آمبولانس چند متر بر ثانیه است؟

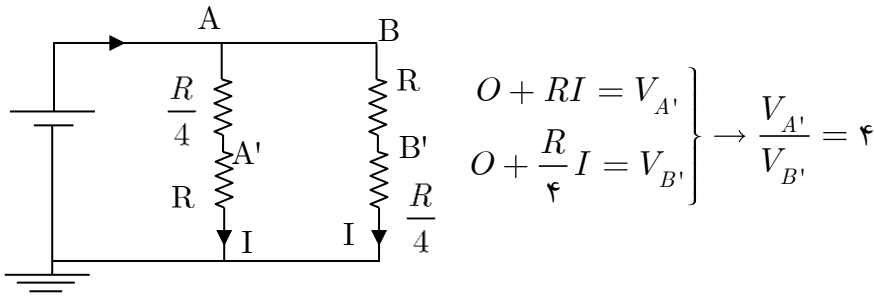






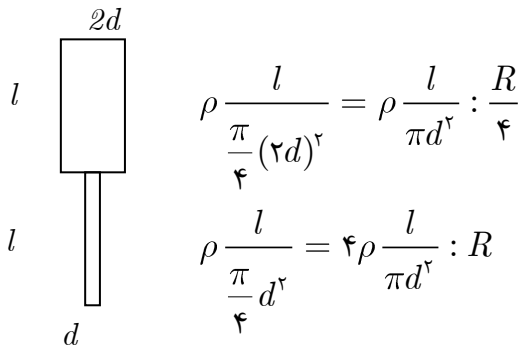
«پاسخنامه تشریحی»

۱- گزینه‌ی الف صحیح است.

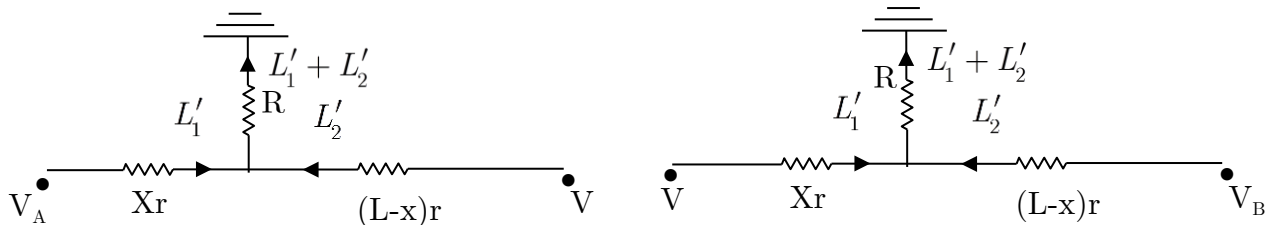


چون مقاومت با عکس مساحت ارتباط دارد پس مقاومت قسمت کلفت  $\frac{1}{4}$  مقاومت قسمت باریک است. همچنین با توجه به اینکه مقاومت

کل دو شاخه با هم برابر است پس جریان عبوری از هر دو شاخه یکسان می‌باشد.



۲- گزینه‌ی الف صحیح است.



$$\begin{aligned} V_A &= xri_i + R(i_i + i_p) \\ V &= (l-x)ri_p + R(i_i + i_p) \end{aligned}$$

$$\begin{aligned} V_B &= (l-x)ri_p' + R(i_i' + i_p') \\ V &= xri_i' + R(i_i' + i_p') \end{aligned}$$

حل دقیق این سؤال مستلزم حل ۴ معادله بالا و یافتن چهار مجهول  $i_p', i_i', i_p, i_i$  است. که بسیار طولانی و از حوصله بنده خارج است! می‌توان از بررسی حالت‌های خاص استفاده کرد:

$$\left. \begin{aligned} \frac{x}{L} &= \frac{1}{2} \\ \frac{L}{L} &= 2 \\ \frac{L}{x} &= 2 \end{aligned} \right\} \Leftrightarrow x = \frac{L}{2} \leftarrow V_A = V_B \text{ اگر } x = \frac{L}{2}$$

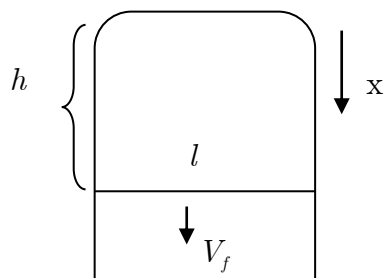
پس فقط گزینه‌های الف و ج می‌تواند درست باشند.

حالت خاص دوم:  $V_A = V \leftarrow x = 0$  (چون از کابل هیچ جریانی عبور نمی‌کند و همه جریانی هدر می‌رود)

حالت خاص سوم:  $V_B = V \leftarrow x = L$   
 بنابراین گزینه الف درست است.

$$\frac{L}{x} = 1 + \frac{V_B - V}{V_A - V}$$

گزینه ی [د] صحیح است.



$$\phi = Blx \rightarrow \frac{d\phi}{dt} = \varepsilon = Blv$$

$$\varepsilon = RI \rightarrow I = \frac{Blv}{R}$$

$$F = IlB \rightarrow F = \frac{B^2 l^2 v}{R}$$

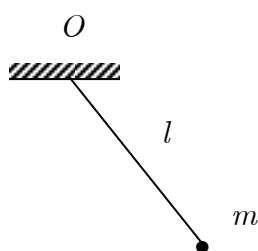
$$F = mg \rightarrow V_f = \frac{mgR}{B^2 l^2}$$

از پایستگی انرژی:

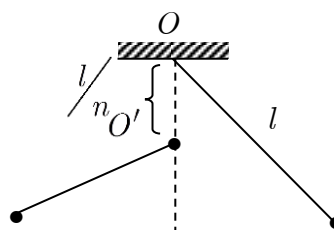
$$E_1 = 0, \quad E_2 = -mgh + \frac{1}{2}mv_f^2 = -mgh + \frac{m^2 g^2 R^2}{2B^4 l^4}$$

$$E_2 - E_1 = -W_f \rightarrow W_f = mgh - \frac{m^2 g^2 R^2}{2B^4 l^4}$$

گزینه ی [ب] صحیح است.



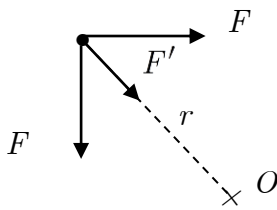
$$T = 2\pi\sqrt{\frac{l}{g}}$$



$$T' = \pi\sqrt{\frac{l}{g}} + \pi\sqrt{\frac{l - \frac{l}{n}}{g}} = \pi\sqrt{\frac{l}{g}} \left[ 1 + \sqrt{1 - \frac{1}{n}} \right]$$

$$\rightarrow \frac{T'}{T} = \frac{1}{2} \left[ 1 + \sqrt{\frac{n-1}{n}} \right] = \frac{1}{2} + \sqrt{\frac{n-1}{4n}}$$

۵- گزینه‌ی [ب] صحیح است.



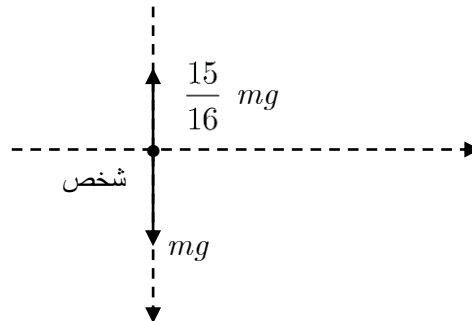
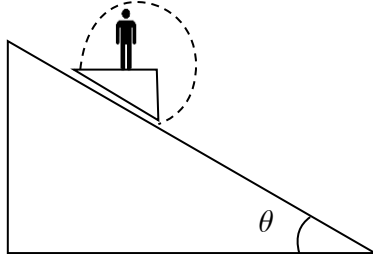
$$r = a \frac{\sqrt{2}}{2}, \quad F = G \frac{m^2}{a^2}, \quad F' = \frac{Gm^2}{2a^2}$$

$$F' + F\sqrt{2} = mrw^2$$

$$\Rightarrow \frac{Gm^2}{a^2} \left( \frac{1}{2} + \sqrt{2} \right) = ma \frac{\sqrt{2}}{2} w^2$$

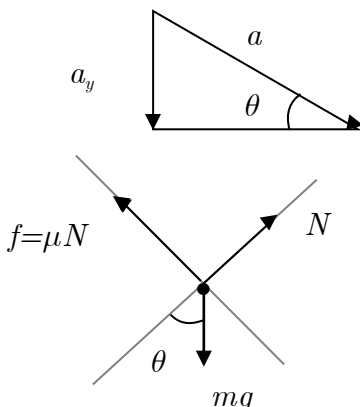
$$\rightarrow w = \sqrt{\frac{Gm}{a^2} \left( \frac{\sqrt{2}}{2} + 2 \right)}$$

۶- گزینه‌ی [ب] صحیح است.



$$a_y = \frac{1}{16}g$$

در راستای عمود به شخص نیروی وزن و نیروی عمودی از طرف سکو وارد می‌شود. بنابراین شتاب شخص در راستای عمود  $\frac{1}{16}g$  است. اگر شخص و سکو را یک جسم فرض کنیم (با توجه به اینکه شخص از سکو جدا نمی‌شود)، شتاب موازی سطح شیب‌دار این جسم مطابق شکل بدست می‌آید.



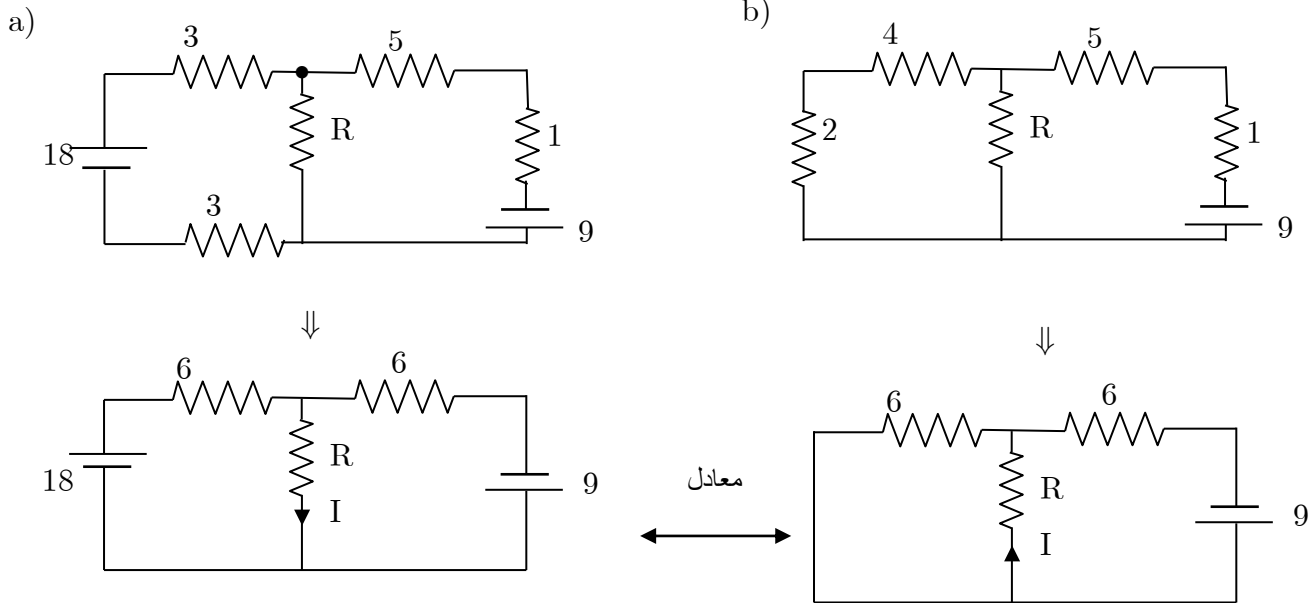
$$a_y = a \sin \theta \rightarrow a = \frac{a_y}{\sin \theta} = \frac{\frac{1}{16}g}{\frac{1}{2}} = \frac{g}{8}$$

$$\left. \begin{aligned} mg \sin \theta - \mu N &= Ma \\ N &= Mg \cos \theta \end{aligned} \right\} a = g(\sin \theta - \mu \cos \theta)$$

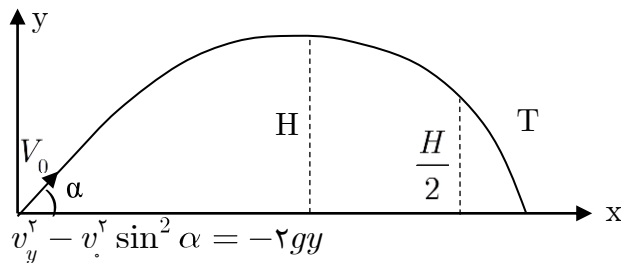
$$\rightarrow \frac{1}{8} = \frac{1}{2} - \mu \frac{\sqrt{3}}{2} \Rightarrow \mu = \frac{\sqrt{3}}{4}$$

۷- گزینه‌ی [ج] صحیح است.

با کمی دقت در شکل مدارها، مشخص است که دو مدار یکسان هستند.



۸- گزینه‌ی [د] صحیح است.



$$H = \frac{v_0^2 \sin^2 \alpha}{2g}$$

$$v_y = v_0 \sin \alpha - gt$$

$$\Rightarrow v_y^2 = +v_0^2 \sin^2 \alpha - 2g \frac{v_0^2 \sin^2 \alpha}{2g} = \frac{v_0^2 \sin^2 \alpha}{2} \rightarrow v_y = -\frac{v_0 \sin \alpha}{\sqrt{2}}$$

$$\rightarrow -\frac{v_0 \sin \alpha}{\sqrt{2}} = v_0 \sin \alpha - gT \Rightarrow v_0 \sin \alpha \left(1 + \frac{\sqrt{2}}{2}\right) = gT$$

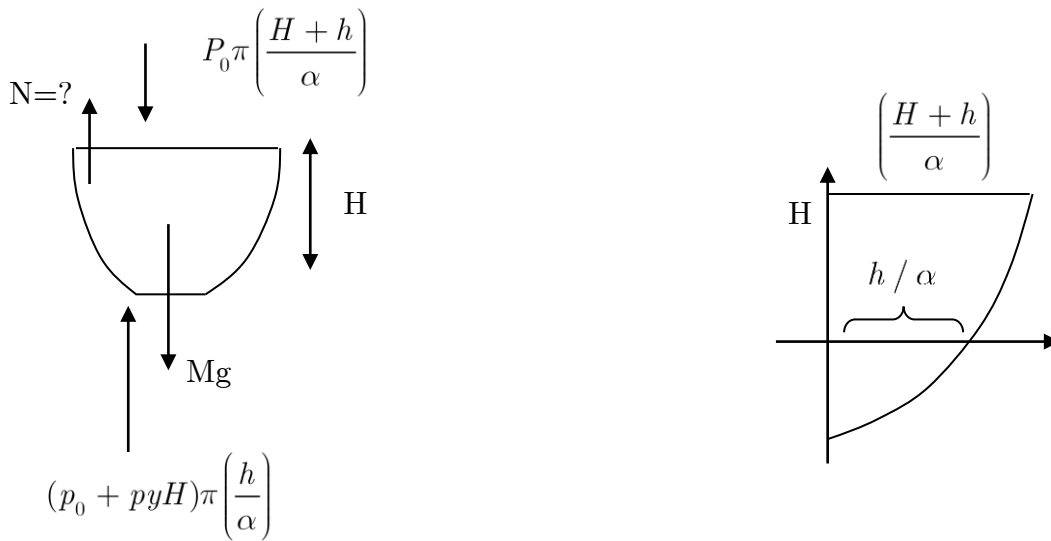
$$\rightarrow v_0 = \frac{gT}{\sin \alpha} \cdot \frac{2}{2 + \sqrt{2}} = \frac{gT}{\sin \alpha} \cdot \frac{\sqrt{2}}{1 + \sqrt{2}} = \frac{gT}{\sin \alpha} \frac{\sqrt{2}(\sqrt{2}-1)}{2-1}$$

$$v_0 = \frac{gT}{\sin \alpha} (\sqrt{2} - 1)$$

۹- گزینه‌ی [ج] صحیح است.

$$P \pi \left( \frac{H+h}{\alpha} \right)$$

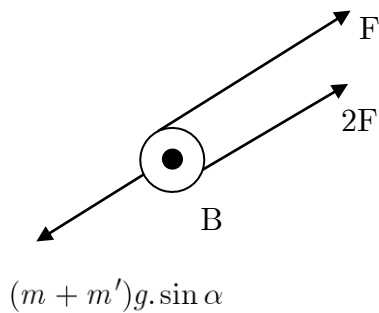
نیروهای وارد بر مایع را رسم می‌کنیم.



$$(P_0 + P_y H) \pi \left( \frac{h}{\alpha} \right)$$

$$\frac{\pi(H+h)}{\alpha} P_0 + Mg = N + (P_0 + P_y H) \frac{\pi h}{\alpha} \Rightarrow N = Mg - \frac{\pi h H P_y g - P_0 \pi H}{\alpha}$$

۱۰- گزینه‌ی [د] صحیح است.

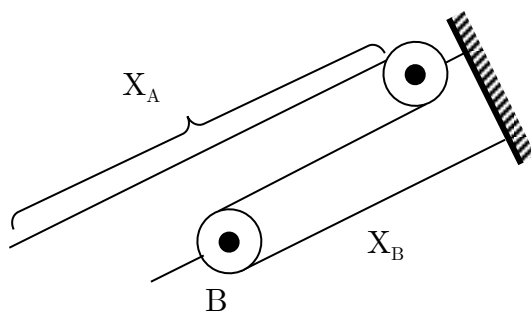


نیروهای وارد شده به مجموعه شخص و جعبه:

$$\alpha = \frac{3F}{m + m'} - g \sin \alpha$$

شتاب حرکت جعبه و شخص:  $\alpha = \frac{3F}{m + m'} - g \sin \alpha$

$$(m + m')g \sin \alpha$$



$$L = X_A + 2X_B$$

$$0 = \frac{d^2 x_A}{dt^2} + 2 \frac{d^2 x_B}{dt^2} \rightarrow a_A = 2a$$

بنابراین شتاب نسبی شخص و سر آزاد طناب:

$$a_A + 2a_B = 2a$$

$$S = \frac{1}{2} (2a) t^2 \rightarrow S = \frac{3}{2} \left[ \frac{3F}{m + m'} - g \sin \alpha \right] t^2$$

۱۱- گزینه‌ی [ج] صحیح است.

$V$ : حجم مجسمه اولیه

$A$ : سطح مجسمه اولیه

$u$ : حجم هر مجسمه کوچک

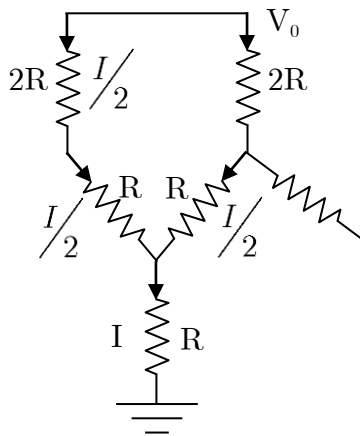
$a$ : سطح هر مجسمه کوچک

$$1000u = V \Rightarrow \frac{u}{v} = \frac{1}{1000} \xrightarrow{\text{تساوی}} \frac{a}{A} = \left(\frac{1}{1000}\right)^{\frac{2}{3}} = \frac{1}{100} \Rightarrow a = \frac{A}{100}$$

پس  $A \rightarrow 100$

$$1000a \rightarrow 1000 \times \frac{A}{100} = 10A \rightarrow 1000$$

۱۲- گزینه‌ی [د] درست است.



با توجه به تقارن مدار و بی‌نهایت بودن آن از مقاومت‌هایی که افقی قرار دارند، جریانی عبور نمی‌کند! پس:

$$V_0 = 2R \frac{I}{2} + R \frac{I}{2} + RI = \frac{5RI}{2} \rightarrow I = \frac{2V_0}{5R}$$

۱۳- گزینه‌ی [ج] صحیح است.

$$a = \frac{\Delta V}{\Delta t} = \frac{\Delta x}{\Delta t} \cdot \frac{\Delta V}{\Delta x} = v \frac{\Delta V}{\Delta x}$$

یا  $\frac{dx}{dv}$ ؛ شیب نمودار مکان سرعت:

$$a = \frac{dv}{dt} = \frac{dx}{dt} \cdot \frac{dv}{dx} = v \frac{dv}{dx} = \frac{v}{\left(\frac{dx}{dv}\right)}$$

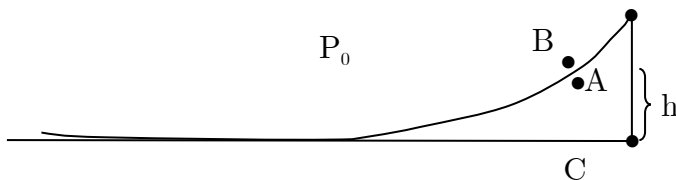
بنابراین در نقطه  $\begin{cases} x = 3 \\ v = 6 \end{cases}$  خط مماس بر نمودار را رسم کرده و مقدار سرعت را بر شیب خط مماس تقسیم می‌کنیم.

$$\left| \frac{dx}{dv} \right| \simeq \frac{4}{6} \rightarrow a = \frac{6}{\frac{4}{6}} = 9 \Rightarrow a \simeq 8 \frac{m}{s^2}$$

۱۴- گزینهی [ب] صحیح است.

چون جسم از حالت سکون شروع کرده و در نهایت نیز به سکون می‌رسد پس براساس رابطه تغییر تکانه و نیرو (مساحت زیر نمودار نیرو و زمان برابر است با تغییر تکانه) تغییر تکانه کل سیستم باید صفر باشد. همه گزینه‌ها جز (ب) حذف می‌شوند. هنگام شتاب تند شونده مقدار نیروی سطح افزایش و هنگام شتاب کند شونده نیروی سطح کاهش می‌یابد.

۱۵- گزینهی [ج] صحیح است.

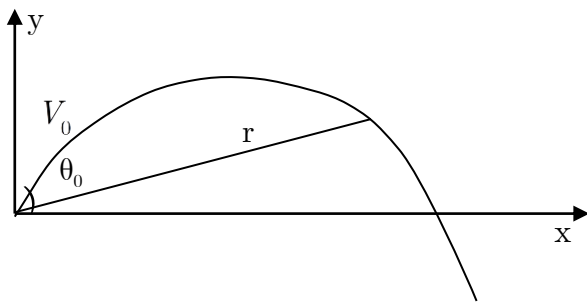


$$P_B = P$$

$$P_C = P_A + P_g h = P$$

$$P_A + P_g h = P_B \Rightarrow P_A - P_B = -fgh$$

۱۶- گزینهی [ج] صحیح است.



$$x = V_0 \cos \theta_0 t$$

$$y = V_0 \sin \theta_0 t - \frac{1}{2} g t^2$$

$$r^2 = x^2 + y^2$$

$$\rightarrow r^2 = V_0^2 t^2 - g V_0 \sin \theta_0 t^3 + \frac{1}{4} g^2 t^4$$

برای تعیین رفتار تابع بالا، مشتق آن را بررسی می‌کنیم:

$$\frac{d(r^2)}{dt} = 2v_0^2 t - 3g v_0 \sin \theta_0 t^2 + g^2 t^3 = t(2v_0^2 - 3g v_0 \sin \theta_0 t + g^2 t^2)$$

برای  $t > 0$ ، عبارت فوق می‌تواند مثبت باشد یا منفی:

$$\Delta = 9g^2 v_0^2 \sin^2 \theta_0 - 6v_0^2 g^2 = v_0^2 g^2 (9 \sin^2 \theta_0 - 6)$$

برای  $\Delta < 0$ ، عبارت فوق (مشتق  $r^2$  نسبت به زمان) همواره مثبت است. (چرا؟)

$$\Delta < 0 \rightarrow 9 \sin^2 \theta_0 < 6 \rightarrow \sin \theta_0 < \frac{\sqrt{2}}{3} \rightarrow \theta_0 < \theta_c$$

بنابراین تابع همواره صعودی خواهد بود. (حالت a)

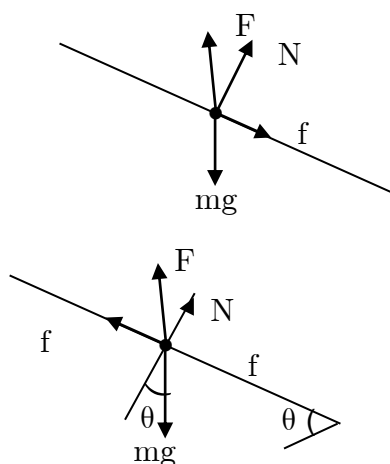
به ازای  $\Delta = 0$ ، عبارت  $\frac{d(r^2)}{dt}$  فقط در یک نقطه صفر خواهد بود و در بقیه نقاط مثبت است.  $\theta = \theta_c$  ← حالت b

به ازای  $\Delta > 0$ ، عبارت  $\frac{d(r^2)}{dt}$  در دو نقطه صفر می‌شود.  $\theta > \theta_c$  ← حالت c

۱۷- گزینهی [د] صحیح است.

(باشگاه دانش پژوهان جوان، گزینهی [ب] را درست اعلام کرده است) برای محاسبه‌ی حد بالا، اگر جسم در آستانه حرکت به سمت بالای سطح شیب‌دار باشد:

همانطور که از شکل نیروها مشخص است این حالت امکان پذیر نیست! (چرا؟)  
پس جسم در آستانه حرکت به سمت پایین است:



$$F = k(l - l_0)$$

$$F \cos \theta + N = mg \cos \theta \rightarrow (mg - F) \cos \theta = N$$

$$mg \sin \theta = F \sin \theta + f \rightarrow f = (mg - F) \sin \theta$$

حالت حدی هنگامی است که جسم ساکن بوده و در آستانه جدایی از سطح است.

$$\left. \begin{aligned} N &= 0 \\ f &= 0 \end{aligned} \right\}$$

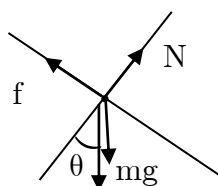
گزینه [د]

$$N = 0 \Rightarrow mg = F \Rightarrow \frac{mg}{k} = l - l_0 \Rightarrow l = l_0 + \frac{mg}{k}$$

اگر جسم در حالت کشیدگی فنر ساکن باشد، با توجه به معادلات نوشته شده:

$$f = (mg - F) \sin \theta \leq \mu (mg - F) \cos \theta \xrightarrow{mg \neq F} \tan \theta \leq \mu$$

همچنین اگر فنر فشرده باشد و جسم ساکن باشد:



$$\left. \begin{aligned} f &= (mg + F) \sin \theta \\ N &= (mg + F) \cos \theta \end{aligned} \right\} \rightarrow \tan \theta \leq \mu$$

همانطور که مشخص است اگر  $\tan \theta \leq \mu$  باشد جسم در محدوده  $h_0 \leq l \leq l_0 + \frac{mg}{k}$  ساکن است. ولی هیچ لزومی به برقراری شرط  $\tan \theta \leq \mu$  نیست! و متن سؤال هم در مورد صحبتی نکرده است. پس گزینه‌ی (د) لزوماً درست است. اگرچه باشگاه دانش پژوهان گزینه‌ی (ب) را به عنوان پاسخ درست اعلام کرده است. که صرفاً در حالت  $\tan \theta \leq \mu$  درست است.

گزینه [ب] صحیح است. -۱۸

$$-mgh + m_v L_v + mc \Delta T = 0 \rightarrow \Delta T = \frac{gh}{c} - \frac{mv}{mc} Lv$$

$$\Rightarrow \Delta T = \frac{10 \times 100}{4 \times 10^3} - \frac{10^{-2} \times 2 \times 10^6}{4 \times 10^{+3}} = 0 / 25 - 5 \simeq -5^\circ C$$

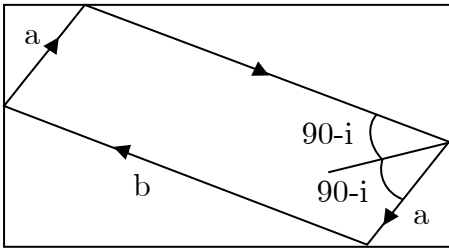
توجه کنید که سرعت جریان آب در بالا و پایین آبشار یکسان است. بنابراین انرژی جنبشی تغییر نمی‌کند.



۱۹- گزینه‌ی [ج] صحیح است.

$$21^\circ = 90^\circ - i \rightarrow i = 45^\circ$$

$$\Rightarrow 90^\circ - i = 45^\circ$$



B

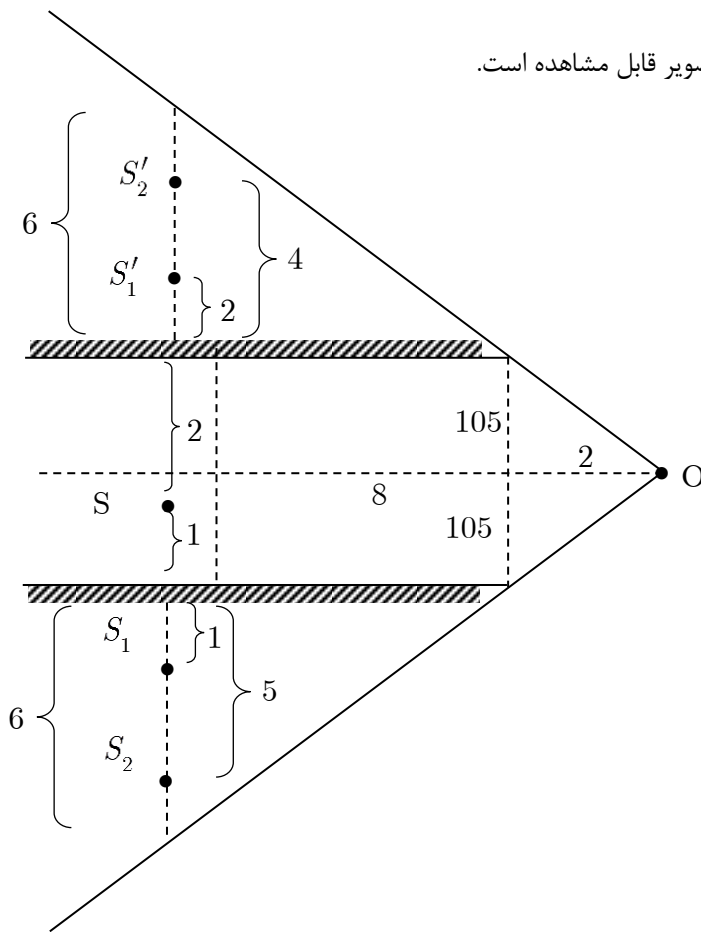
$$A = a \sin 45^\circ + b \sin 45^\circ = (a + b) \frac{\sqrt{2}}{2}$$

$$B = a \cos 45^\circ + b \cos 45^\circ = (a + b) \frac{\sqrt{2}}{2}$$

$$\left. \begin{matrix} A \\ B \end{matrix} \right\} \frac{A}{B} = 1$$

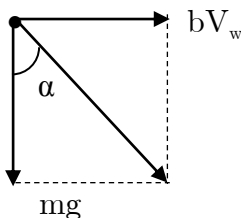
۲۰- گزینه‌ی [ج] صحیح است.

با رسم خطوط میدان دید و رسم تصاویر در آینه‌ها، تعداد ۴ تصویر قابل مشاهده است.

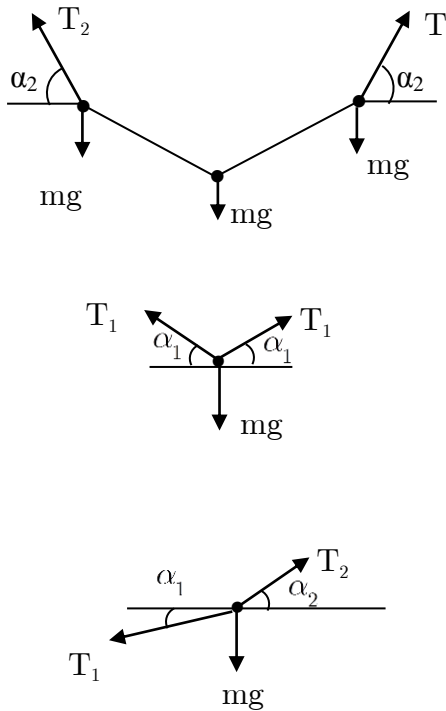


۲۱- گزینه‌ی [ج] صحیح است.

در حالت حدی، سرعت افقی قطرات باران با سرعت باد یکسان می‌شود. بنابراین از دید ناظر ساکن نسبت به هوا نیرویی افقی (مقاومت هوا) به قطرات وارد نمی‌شود. ولی از دید ناظر زمینی:



$$\tan \alpha = \frac{bV_w}{mg}$$



گزینه‌ی [ج] صحیح است. -۲۲ ماگ

$$\sqrt{2}T_r \sin \alpha_r = 3mg$$

$$\rightarrow T_r = \frac{3mg}{\sqrt{2} \sin \alpha_r}$$

$$\sqrt{2}T_l \sin \alpha_l = mg \rightarrow T_l = \frac{mg}{\sqrt{2} \sin \alpha_l}$$

$$T_r \cos \alpha_r = T_l \cos \alpha_l$$

$$\Rightarrow \frac{3mg}{\sqrt{2} \sin \alpha_r} \cos \alpha_r = \frac{mg}{\sqrt{2} \sin \alpha_l} \cos \alpha_l$$

$$\Rightarrow \frac{\tan \alpha_l}{\tan \alpha_r} = \frac{1}{3}$$

گزینه‌ی [ج] صحیح است. -۲۳ ماگ

فرآیند فشار ثابت است. ( $P_l = P_r$ )

$$\frac{P_l V_l}{T_l} = \frac{P_r V_r}{T_r}$$

$$\rightarrow \frac{V}{T} = \frac{V_r}{T'} \quad P_l V = nRT \quad V_r = V + V'$$

$$\Delta u = Q - W \quad Q = 0$$

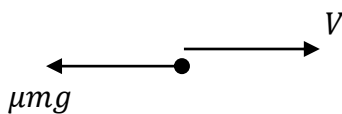
$$\Rightarrow \frac{3}{2} nR(T' - T) = -P_l(V' - V) = \frac{nRT}{V}(V - V')$$

$$\Rightarrow 3V(T' - T) = 2T(V - V') \rightarrow 3VT' + 2V'T = 5VT \quad (I)$$

$$\frac{V}{T} = \frac{V + V'}{T'} \rightarrow VT' - V'T = VT \quad (II)$$

$$(I)(II) \Rightarrow \frac{T'}{T} = \frac{5}{3}$$

گزینه‌ی [الف] صحیح است. -۲۴ ماگ



به جسم بالایی نیروی اصطکاک  $\mu mg$  خلاف جهت حرکت وارد می‌شود.

$$-\mu mg = ma \rightarrow a = -\mu g$$

به جسم پایینی نیروی اصطکاک  $\mu mg$  در حرکت وارد می‌شود:

$$\mu mg \rightarrow \mu mg$$

$$\mu mgt = m\theta' \rightarrow a' = \mu g$$

نیروی اصطکاک تا زمانی وارد می‌شود که سرعت دو جسم یکسان می‌شود.

$$V_1 - \mu gt = \mu gt \rightarrow t = \frac{v_1}{2\mu g}$$

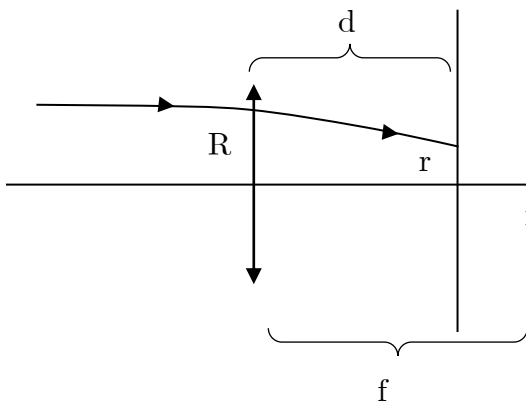
$$\rightarrow V_1 = V_2 = \frac{V_1}{2}$$

$$K_2 - K_1 = W_f$$

$$\frac{1}{2}mV_2^2 - \frac{1}{2}m\left(\frac{V_1}{2}\right)^2 = \frac{-3}{8}mv_1^2$$

کار نیروی اصطکاک از قضیه کار و انرژی بدست می‌آید.

۲۵- گزینه‌ی [ج] صحیح است.



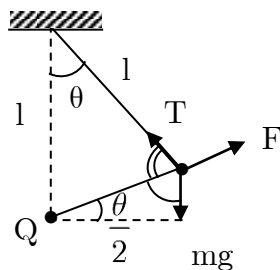
$$\Rightarrow I \pi R^2 = I \pi r^2 \Rightarrow I = I_0 \left(\frac{R}{r}\right)^2$$

$$\Rightarrow \frac{R}{r} = \frac{f}{f-d} \Rightarrow I = I_0 \left(\frac{f}{f-d}\right)^2$$

تشابه

توان ورودی = توان خروجی  
مساحت  $\times$  شدت روشنایی = توان

۲۶- گزینه‌ی [الف] صحیح است.



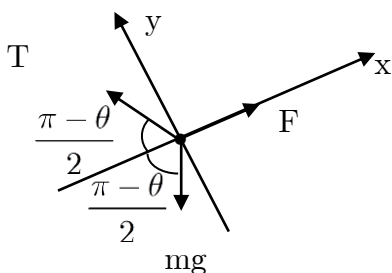
محور مختصات را طوری انتخاب می‌کنیم که یکی از محورها در راستای خط واصل دو بار الکتریکی باشد.

با توجه به هندسه شکل، زاویه نیروی وزن  $mg$  و نیروی کشش نخ  $T$  با

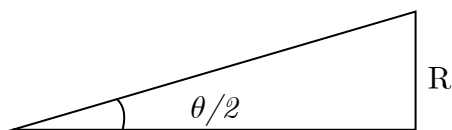
راستای محور  $x$  یکسان و برابر  $\frac{\pi - \theta}{2}$  است.

برآیند نیروها در راستای محور  $y$  باید صفر باشد:

$$T \sin\left(\frac{\pi}{2} - \frac{\theta}{2}\right) = mg \sin\left(\frac{\pi}{2} - \frac{\theta}{2}\right) \Rightarrow T = mg$$



گزینه‌ی [الف] صحیح است. -۲۷



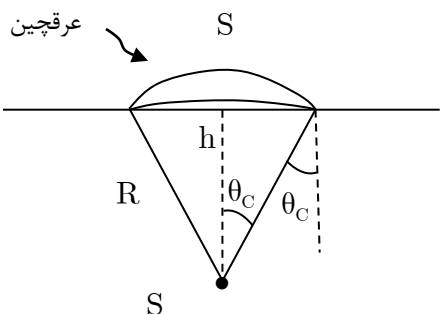
$$\tan\left(\frac{\theta}{2}\right) = \frac{R}{x} \quad x = L - vt$$

نسبت به زمان مشتق می‌گیریم:

$$\frac{\dot{\theta}}{2} \left(1 + \tan^2\left(\frac{\theta}{2}\right)\right) = R(-1)(\dot{x})(x^{-2}) \rightarrow \dot{\theta} = \frac{2Rv}{R^2 + x^2}$$

با کاهش مقدار  $x$  مقدار  $\theta$  (شیب نمودار) همواره در حال افزایش است. و در  $\dot{\theta}_{(x \rightarrow 0)} = \frac{2V}{R}$  است.

گزینه‌ی [الف] صحیح است. -۲۸



$$h = R \cos \theta_c \rightarrow R = \frac{h}{\cos \theta_c}$$

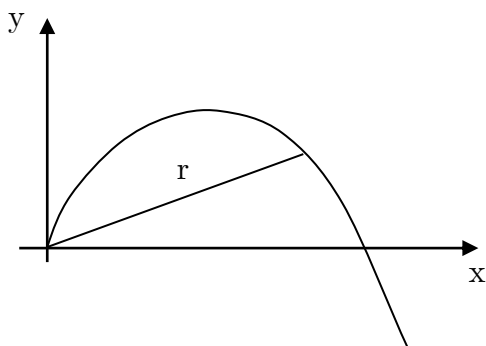
$$n = 1/25 = \frac{5}{4}$$

$$S = 4\pi R^2 \sin^2\left(\frac{\theta_c}{2}\right) = 2\pi R^2 (1 - \cos \theta_c)$$

$$\left. \begin{aligned} \eta = \frac{S}{4\pi R^2} &= \frac{2\pi R^2 (1 - \cos \theta_c)}{4\pi R^2} = \frac{1 - \cos \theta_c}{2} \\ \sin \theta_c = \frac{1}{n} &\rightarrow \cos \theta_c = \frac{\sqrt{n^2 - 1}}{n} \end{aligned} \right\} \eta = \frac{1}{2} \left(1 - \sqrt{1 - \frac{1}{n^2}}\right)$$

$$\eta = \frac{1}{2} \left(1 - \sqrt{1 - \frac{16}{25}}\right) = \frac{1}{2} \left[1 - \frac{3}{5}\right] = \frac{1}{5} \rightarrow \eta = 20\%$$

گزینه‌ی [الف] صحیح است. -۲۹



$$x = V_0 \cos \theta t, \quad y = V_0 \sin \theta t - \frac{1}{2} g t^2$$

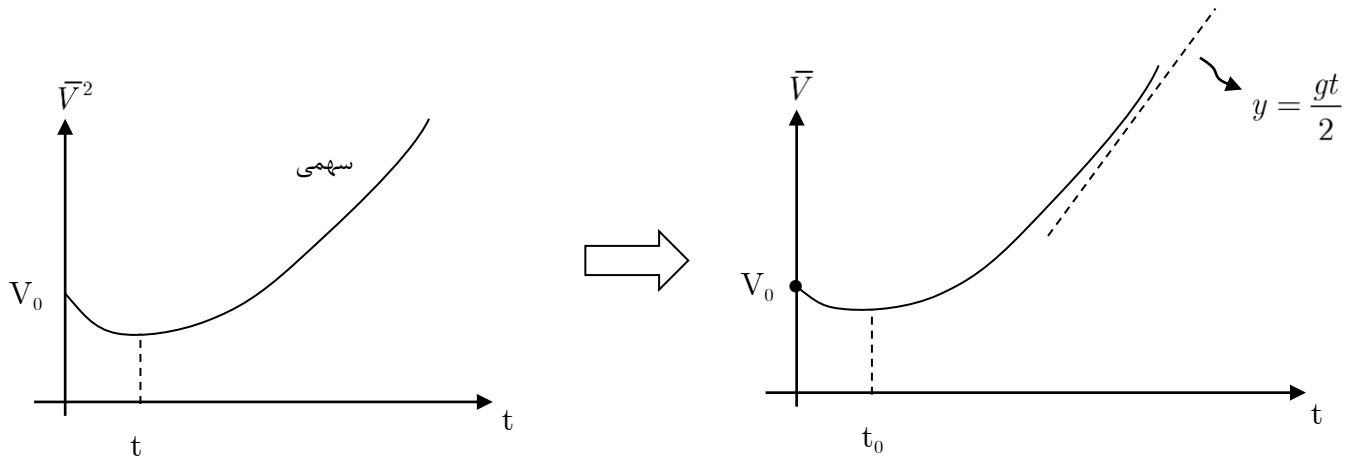
$$r^2 = x^2 + y^2, \quad \vec{V} = \frac{r}{t}$$

$$r^2 = V_0^2 t^2 - V_0 g \sin \theta t^2 + \frac{1}{4} g^2 t^4$$

$$\rightarrow \vec{V} = V_0 - V_0 g \sin \theta t + \frac{1}{4} g t^2 \quad t \text{ سهمی} = \frac{2V_0 \sin \theta}{g} > 0$$

این سهمی روبه بالاست و نقطهٔ مینیموم آن در  $t = t_0$  اتفاق می‌افتد.

$$\bar{v} = \sqrt{v_0^2 - v_0 g \sin \theta t + \frac{1}{4} g^2 t^2}$$



۳- گزینهی الف صحیح است.

اطلاعات موجود در نمودار: یوزپلنگ از زمان ۱۰ تا ۶۵ با سرعت ثابت  $V = \frac{۱۵۰۰ - ۱۰۰}{۶۵ - ۱۰}$  حرکت می‌کند. همچنین یوزپلنگ باید در زمان کمتر از ۷۰ ثانیه آهو را شکار کند در غیر اینصورت خسته می‌شود می‌ایستد. یوزپلنگ از زمان شروع تا توقف مسافت ۱۵۵۰ متر را طی می‌کند.

$$V_{\text{آهو}} = ۶۰ \frac{km}{hr} = ۱۶ / ۶۷ \frac{m}{s}$$

$$V_{\text{یوزپلنگ}} = \frac{۱۰۰۰}{۵۵} \simeq ۲۵ / ۴۵ \frac{m}{s} \simeq ۹۱ / ۶۳ \frac{km}{hr}$$



شرط فرار آهو:

$$x = ۵۰۰ + ۱۶ / ۶۷(t - \tau) \xrightarrow{t=۷۰} x \geq ۱۵۵۰$$

$$\Rightarrow ۵۰۰ + ۱۶ / ۶۷_x(۷۰ - \tau) \geq ۱۵۵۰ \rightarrow ۷۰ - \tau \geq \frac{۱۵۵۰ - ۵۰۰}{۱۶ / ۶۷}$$

$$\Rightarrow ۷۰ - \tau \geq ۶۳ \Rightarrow \tau \leq ۷S$$

توجه کنید که مبدأ زمان، لحظه شروع حرکت یوزپلنگ فرض شده است.

## «سئوالات پاسخ کوتاه»

۱- پاسخ ۲۷° صحیح است.

توان گرمایی تولید شده بر اثر عبور جریان = توان گرمایی خارج شده بر اثر انتقال گرما:

$$RI^{\circ} = \kappa KA \frac{\Delta T}{\Delta x} \quad R = \rho \frac{L}{aW} \quad A = WL \quad \Delta x = b$$

T : دمای سطح مسی

$$\Rightarrow \rho \frac{L}{wa} I^{\circ} = \kappa KWL \frac{(T - \theta)}{b}$$

$$\Rightarrow T - \theta = \frac{\rho L I^{\circ}}{\kappa K W a} \rightarrow T = \theta + \frac{\rho b I^{\circ}}{\kappa k w a}$$

$$\rightarrow T = 23 + \frac{1/7 \times 10^{-8} \times 2 \times 10^{-2} \times 400}{2 \times 16 \times 10^{-2} \times 10^{-4} \times 10^{-4}} \Rightarrow T = 27^{\circ}C$$

۲- پاسخ ۶۷°C درست است. (پاسخ‌های ۶۷ تا ۷۵ مورد قبول می‌باشد)

توان گرمایی تولید شده بر اثر عبور جریان + توان گرمایی جذب شده تابشی = توان گرمایی رفع شده تابشی

$$\Rightarrow RI^{\circ} + \kappa A \sigma T^{\circ} = \kappa A \sigma T_C^{\circ}$$

$$\Rightarrow T_C^{\circ} = T^{\circ} + \frac{RI^{\circ}}{\kappa A \sigma} \Rightarrow T_C = T \left[ 1 + \frac{RI^{\circ}}{\kappa A \sigma T^{\circ}} \right]^{\frac{1}{4}}$$

$$R = \rho \frac{L}{aW} \quad A = Lw + (aw + aL) \simeq L.W$$

$$\Rightarrow T_C = T \left[ 1 + \frac{\rho \frac{L}{aw} I^{\circ}}{\kappa L w a T^{\circ}} \right]^{\frac{1}{4}} \simeq T \left[ 1 + \frac{\rho I^{\circ}}{\kappa a w^{\circ} \sigma T^{\circ}} \right]^{\frac{1}{4}}$$

$$\Rightarrow T_C = 300 \times \left[ 1 + \frac{1/7 \times 10^{-8} \times 4 \times 10^2}{2 \times 10^{-4} \times 10^{-4} \times 5/7 \times 10^{-8} \times 81 \times 10^8} \right]^{\frac{1}{4}} \simeq 300 \left[ 1 + 0/75 \right]^{\frac{1}{4}}$$

$$\xrightarrow{0/75 = \frac{3}{4}} T_C = 300 \times \left( 1 + \frac{1}{4} \times \frac{3}{4} - \frac{3}{32} \times \frac{9}{16} \right) \rightarrow T_C \simeq 340/41K \simeq 67^{\circ}C$$

۳- پاسخ  $38GJ$  صحیح است. (پاسخ‌های بین ۳۶ تا ۳۹ مورد قبول است)

در  $gr$  ۱۰ سوخت نیروگاه مقدار  $gr$  ۵ / اتم  ${}_{92}^{235}U$  وجود دارد. با توجه به معادله واکنش:

$$\left. \begin{array}{l} \text{جرم اولیه} \\ (235/0.4 + 1/0.1)U \\ \text{جرم نهایی} \\ (140/91 + 91/91 + 3/0.3)U \end{array} \right\} \xrightarrow{\text{جرم از بین رفته}} = 0.2u = 3/4 \times 10^{-28} kg$$

$$E = mc^2 \rightarrow \text{انرژی آزاد شده} = 3/4 \times 10^{-28} \times 9 \times 10^{16} = 3/0.6 \times 10^{-10} \frac{J}{mol}$$

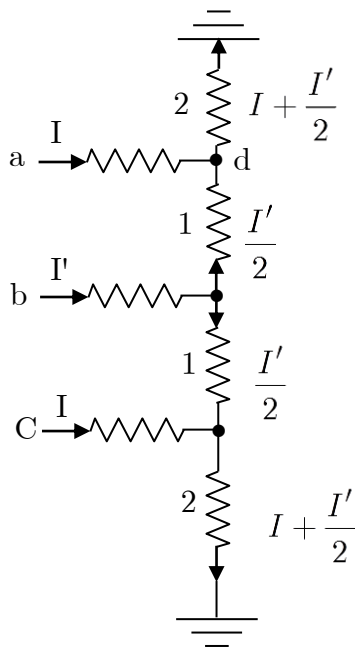
این مقدار انرژی از یک مدل اتم  ${}_{92}^{235}U$  بدست می‌آید.

$$n = \frac{0.5 \times 10^{-3}}{235/0.4 \times 10.7 \times 10^{-27}} = 1/25 \times 10^{21} mol$$

$$\rightarrow E = 3/83 \times 10^{10} J = 38/3 GJ \approx 38 GJ$$

۴- پاسخ  $14V$  صحیح است.

با توجه به تقارن مدار، جریان‌ها به شکل مقابل است.



$$\left. \begin{array}{l} V_a - 2I - 2\left(I + \frac{I'}{2}\right) = 0 \\ V_b - 2I' - \frac{I'}{2} + 2I = V_a \end{array} \right\} \Rightarrow \begin{array}{l} 12 = 2I + \frac{I'}{2} \\ 0 = 2I - \frac{5}{2}I' \end{array}$$

$$\Rightarrow I' = 4mA \quad I = 5mA$$

$$\Rightarrow V_a - 2I = V_d \Rightarrow 24 - 2 \times 5 = V_d \Rightarrow V_d = 14V$$

۵- پاسخ  $20 \frac{m}{s}$  صحیح است.

این سؤال ارتباطی با صوت و موج ندارد و کافی است رابطه بین نمودار و رابطه داده شده را پیدا کرد.

وقتی جسم از بینهایت به سمت شخص حرکت می‌کند:  $\theta = \pi \leftarrow \cos \pi = -1$

$$\Rightarrow f = f_s \left(1 + \frac{v}{c}\right) \rightarrow f = f_s \left(1 + \frac{v}{c}\right) = 2870 \text{ Hz (I)}$$

وقتی جسم به فاصله بی‌نهایت رفته و از شخص دور می‌شود:  $\theta = 0 \leftarrow \cos 0 = +1$

$$\Rightarrow f = f_s \left(1 - \frac{v}{c}\right) \rightarrow f = f_s \left(1 - \frac{v}{c}\right) = 2530 \text{ Hz (II)}$$

$$(I) \Rightarrow \frac{2870}{2530} = \frac{1 + \frac{v}{c}}{1 - \frac{v}{c}} = \frac{2700 + 170}{2700 - 170} = \frac{1 + \frac{170}{2700}}{1 - \frac{170}{2700}}$$

$$\Rightarrow \frac{v}{c} = \frac{170}{2700} = \frac{v}{320} \Rightarrow V = 20 / 15 \frac{m}{s} \simeq 20 \frac{m}{s}$$

$$f = f_s \left(1 - \frac{v}{c} \cos \theta\right) \rightarrow \frac{df}{d\theta} = f_s \frac{v}{c} \sin \theta \rightarrow \frac{d^2 f}{d\theta^2} = f_s \frac{v}{c} \cos \theta \quad \text{روش دوم:}$$

همانطور که از مشتق دوم مشخص از دو  $\theta = \frac{\pi}{2}$  تقعر منحنی تغییر می‌کند. در نمودار در فرکانس  $f = 2700$  تقعر تغییر می‌کند.

$$\theta = \frac{\pi}{2} \rightarrow f = f_s = 2700 \text{ Hz}$$

$$\theta = \pi \rightarrow f = f_s \left(1 + \frac{v}{c}\right) = 2870 \Rightarrow 2700 \left(1 + \frac{v}{c}\right)$$

$$\rightarrow \frac{2870}{2700} = 1 + \frac{170}{2700} = 1 + \frac{V}{320} \Rightarrow V \simeq 20 \frac{m}{s}$$



### کلید سوالات

۱	هـ د ج ب	۲۱	هـ د ب الف	۴۱	هـ د ج ب الف
۲	هـ د ج ب	۲۲	هـ د ب الف	۴۲	هـ د ج ب الف
۳	هـ ج ب الف	۲۳	هـ د ب الف	۴۳	هـ د ج ب الف
۴	هـ د ج الف	۲۴	هـ د ج ب	۴۴	هـ د ج ب الف
۵	هـ د ج الف	۲۵	هـ د ب الف	۴۵	هـ د ج ب الف
۶	هـ د ج الف	۲۶	هـ د ج ب	۴۶	هـ د ج ب الف
۷	هـ د ب الف	۲۷	هـ د ج ب	۴۷	هـ د ج ب الف
۸	هـ ج ب الف	۲۸	هـ د ج ب	۴۸	هـ د ج ب الف
۹	هـ د ب الف	۲۹	هـ د ج ب	۴۹	هـ د ج ب الف
۱۰	هـ ج ب الف	۳۰	هـ د ج ب	۵۰	هـ د ج ب الف
۱۱	هـ د ب الف	۳۱	هـ د ج ب الف	۵۱	هـ د ج ب الف
۱۲	هـ ج ب الف	۳۲	هـ د ج ب الف	۵۲	هـ د ج ب الف
۱۳	هـ د ب الف	۳۳	هـ د ج ب الف	۵۳	هـ د ج ب الف
۱۴	هـ د ج الف	۳۴	هـ د ج ب الف	۵۴	هـ د ج ب الف
۱۵	هـ د ب الف	۳۵	هـ د ج ب الف	۵۵	هـ د ج ب الف
۱۶	هـ د ب الف	۳۶	هـ د ج ب الف	۵۶	هـ د ج ب الف
۱۷	هـ ج ب الف	۳۷	هـ د ج ب الف	۵۷	هـ د ج ب الف
۱۸	هـ د ج الف	۳۸	هـ د ج ب الف	۵۸	هـ د ج ب الف
۱۹	هـ د ب الف	۳۹	هـ د ج ب الف	۵۹	هـ د ج ب الف
۲۰	هـ د ب الف	۴۰	هـ د ج ب الف	۶۰	هـ د ج ب الف