



دخترچه سوارات مرحله اول نوزدهمین دوره‌ی المپیاد خیزیک سال ۱۳۹۴

مدت آزمون (دقیقه)	تعداد سوالات	
	مساله‌های تشریحی	سوالات چند گزینه‌ای
۱۸۰	۱۰	۳۵

استفاده از ماشین حساب ممنوع است.

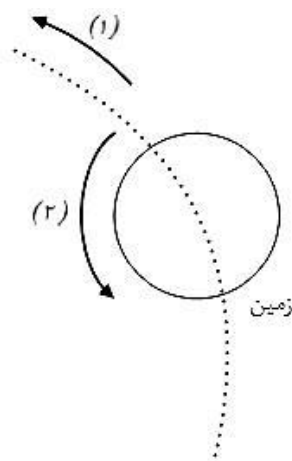
توضیحات مهم

تذکرات آزمون:

- ضمن آرزوی موفقیت برای شما دانش‌پژوه گرامی، خواهشمند است قبل از پاسخ به سؤالات آزمون به موارد زیر توجه کنید:
- این آزمون شامل ۳۵ سوال تشریحی و ۱۰ سوال تشریحی و ۱۸۰ دقیقه است.
- نمره‌ی هر سوال در ابتدای آن نوشته شده است.
- استفاده از ماشین حساب در این آزمون مجاز است.
- همراه داشتن تلفن همراه (حتی خاموش) در طول زمان آزمون مجاز نیست.
- فقط داوطلبانی می‌توانند دفترچه‌ی سؤالات را با خود ببرند که تا پایان آزمون در جلسه حضور داشته باشند.
- جمع‌آوری و آماده‌سازی دفترچه‌ی سؤالات این آزمون توسط **کمیته‌ی علمی ماخ** انجام شده است.

توجه: سؤال‌های ۱ تا ۳۵ چند گزینه‌ای هستند و به هر گزینه که درست علامت زده شود نمره مثبت و به گزینه‌ای که نادرست علامت زده شود، نمره منفی داده خواهد شد. هر سؤال فقط یک گزینه درست دارد و انتخاب بیش از یک گزینه معادل با پاسخ نادرست است.

۱- مطابق شکل پیکان شماره ۱ جهت سرعت حرکت زمین به دور خورشید را نشان می‌دهد، و پیکان شماره ۲ جهت سرعت



چرخش زمین به دور محور خود را نشان می‌دهد. فرض کنید صفحه استوای زمین و صفحه مدار زمین به دور خورشید بر هم منطبق‌اند. شخصی روی استوا ایستاده است. در چه موقع جهت قائم آن شخص (رو به بالا) جهت حرکت زمین به دور خورشید را نشان می‌دهد؟

- (الف) طلوع خورشید
- (ب) ظهر
- (ج) غروب خورشید
- (د) نیمه شب



۲- اگر اندازه بردار میدان الکتریکی در هوا از $3 MV/m$ بیش‌تر بشود، هوا فرو شکسته می‌شود، یعنی موقتاً رسانا می‌شود، اگر بار Q به صورت یکنواخت روی پوسته‌ای کروی پخش شود، برای محاسبه اندازه بردار میدان الکتریکی در نقاط بیرون از پوسته می‌توان کل بار پخش شده روی پوسته را به صورت یک بار نقطه‌ای در مرکز پوسته در نظر گرفت.

کلاهک فلزی یک مولد وان دوگراف، با تقریب خوبی کره‌ای با شعاع 10 cm است. بیش‌ترین باری که می‌توان روی کلاهک قرار داد تا هنوز هوای پیرامونش فرو شکسته نشود به کدام مقدار نزدیک‌تر است؟

- (الف) pC
- (ب) $3nC$
- (ج) $3\mu C$
- (د) $3 mC$

۳- انرژی پتانسیل الکتریکی یک کره رسانا به شعاع R و بار Q ، دور از بارهای دیگر، برابر با $\frac{Q^2}{8\pi\epsilon_0 R}$ است. اگر 1000 قطره جیوه کروی مشابه و با بار یکسان به هم بچسبند و یک قطره کروی بزرگ تشکیل دهند، نسبت انرژی الکتریکی قطره بزرگ به مجموع انرژی الکتریکی قطره‌های اولیه چقدر خواهد بود؟ در محاسبه مجموع انرژی قطره‌های کوچک، فرض کنید این قطره‌ها از هم دورند.

- (الف) ۱
- (ب) ۱۰
- (ج) ۱۰۰
- (د) ۱۰۰۰

۴- توان الکتریکی یک لامپ کم‌مصرف، یک پنجم توان الکتریکی یک لامپ معمولی است، به شرطی که توان نوری که این دو لامپ تولید می‌کند یکسان باشد. فرض کنید در ایران همه لامپ‌ها را از نوع معمولی به نوع کم‌مصرف تغییر دهند. توانی که به این خاطر صرفه‌جویی می‌شود به کدام یک از این مقادارها نزدیک‌تر است؟

- (الف) $10^6 w$
- (ب) $10^{10} w$
- (ج) $10^{14} w$
- (د) $10^{18} w$

۵- جرم نمک موجود در اقیانوس های زمین به کدام یک از این مقادارها نزدیک تر است؟

(د) 10^{23} kg

(ج) 10^{19} kg

(ب) 10^{15} kg

(الف) 10^{11} kg

۶- سه جسم روی یک خط راست اند و می توانند فقط روی همین خط حرکت کنند. اگر یکی از این جسم ها با سرعت v به یک جسم دیگر برخورد کند، و سرعت جسم دوم پیش از برخورد صفر باشد، پس از برخورد سرعت جسم اول αv و

سرعت جسم دوم $(1 - \alpha)v$ می شود. داریم $0 < \alpha < 0.5$ و فرض کنید مقدار α به سرعت بستگی ندارد.

جسم اول در طرف چپ جسم دوم، و جسم دوم در طرف چپ جسم سوم است. جسم دوم و جسم سوم ساکن اند و جسم اول با سرعت v به طرف راست حرکت می کند. چند برخورد رخ می دهد؟

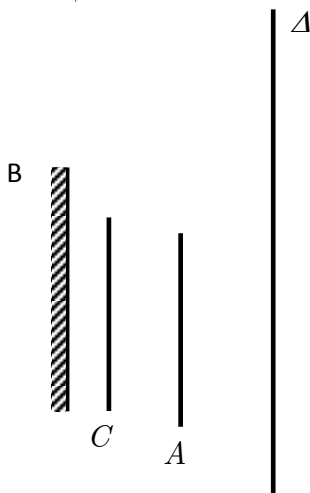
(الف) حتماً یکی.

(ب) حتماً دوتا.

(ج) به ازای بعضی از مقدارهای α دوتا، و به ازای بعضی از مقدارهای α بیش از دوتا.

(د) حتماً بیش از دوتا.

۷- جسم شفاف A، آینه تخت B، و مانع کدر C را در نظر بگیرید. ناظری در یکی از نقطه های خط Δ است. کدام گزینه درست است؟



(الف) ناظر هر جای خط Δ که باشد تصویر همه A را می بیند.

(ب) ناظر هر جای خط Δ که باشد تصویر هیچ نقطه ای از A را نمی بیند.

(ج) بخشی از A هست، که ناظر هر جای خط Δ باشد تصویر آن را نمی بیند و بخشی از

A هست که ناظر هر جای خط Δ باشد تصویر آن را می بیند.

(د) بخشی از A هست، که ناظر هر جای خط Δ باشد تصویر آن را نمی بیند و جاهایی از

Δ هست که ناظر اگر آن جا باشد، تصویر بخشی از A را می بیند.

۸- ماه از زمین مثل یک قرص دیده می شود که یک هلال از آن روشن است. مرز این هلال از یک نیم دایره و یک نیم بیضی تشکیل شده است. مساحت یک بیضی برابر است با πab ، که a و b نیم قطرهای بزرگ و کوچک بیضی اند. اگر زاویه

خورشید - زمین - ماه (که رأس آن زمین است) θ باشد، مساحت هلال روشن چه کسری از مساحت قرص ماه است؟

(د) $\sin \frac{\theta}{2}$

(ج) $\sin \theta$

(ب) $\frac{1 - \cos \theta}{2}$

(الف) $\frac{\theta}{\pi}$

۹- یک دریاچه را در نظر بگیرید که سطح آن یخ زده است. فرض کنید دما در نقاط مختلف این دریاچه مستقل از زمان، و آب دریاچه هم ساکن است. کدام گزینه درست است؟

(الف) حتماً همه دریاچه یخ زده است.

(ب) دمای سطح بالایی یخ دریاچه حتماً صفر درجه سلسیوس است.

(ج) کلفتی یخ دریاچه حتماً ناچیز است.

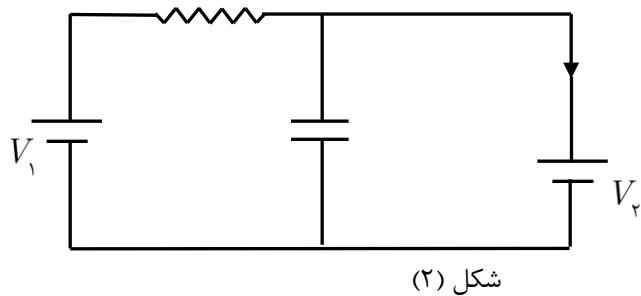
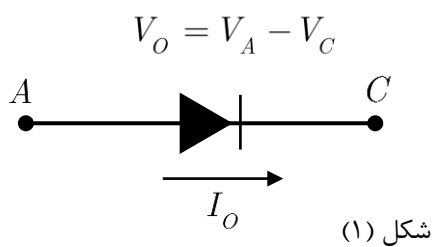
(د) در هیچ جا ممکن نیست دمای آب دریاچه از چهار درجه سلسیوس بیش تر شود.

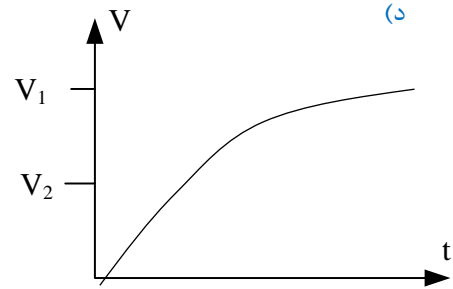
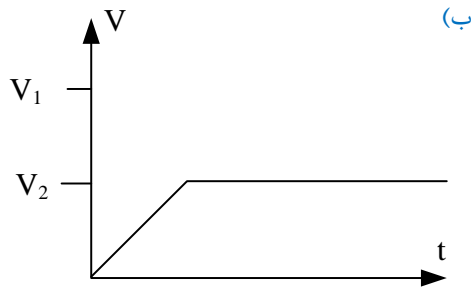
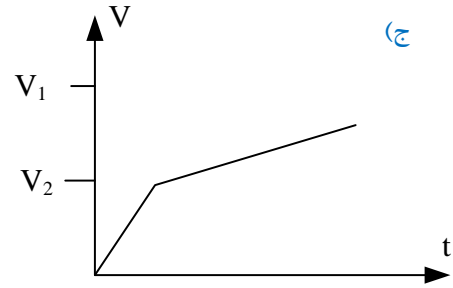
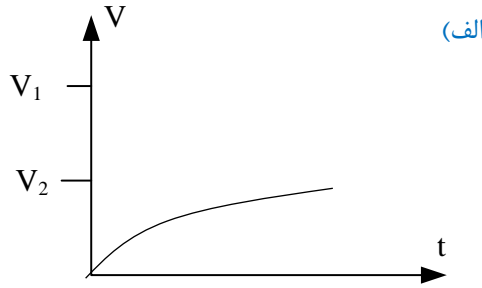
- ۱۰- ماه برای باد کردن لاستیک دو چرخه‌ای از یک تلمبه استفاده می‌کنیم. حجم سلیندر این تلمبه 40 cm^3 است. می‌خواهیم با این تلمبه لاستیکی را باد بزنیم. پیش از باد زدن، حجم هوای درون لاستیک ۷۵ درصد حجم نهایی درون لاستیک، و فشار این هوا همان فشار هوای بیرون و برابر با یک جو است. پس از باد زدن، حجم هوای درون لاستیک 2000 cm^3 است و در این حالت مساحت محل تماس لاستیک با زمین، در اثر نیروی 350 N برابر با 60 cm^2 است. از گرم شدن هوا در اثر تلمبه زدن چشم‌پوشید. چند بار باید تلمبه بزنیم؟
- الف) ۳۰ ب) ۴۰ ج) ۵۰ د) ۶۰

- ۱۱- ماه از بالای سطح زمین تویی با سرعت اولیه v_0 به بالا پرتاب می‌شود. بعد از زمان T از همان نقطه توپ دیگری بدون سرعت اولیه رها می‌شود. شرط لازم و کافی برای آن که دو توپ پس از رها شدن توپ دوم، در نقطه‌ای از مسیر به هم برسند چیست؟ فرض کنید ارتفاع نقطه پرتاب توپ از سطح زمین بسیار زیاد است. g شتاب گرانش زمین است.
- الف) $v_0 < gT$ ب) $v_0 > \frac{gT}{2}$ ج) $\frac{gT}{2} < v_0 < gT$ د) $gT < v_0 < \sqrt{2}gT$

- ۱۲- ماه چگالی آب را ρ_w و چگالی برف را ρ_s بگیرید. نسبت $\frac{\rho_s}{\rho_w}$ به کدام عدد نزدیک‌تر است؟
- الف) ۰/۹ ب) ۰/۱ ج) ۰/۰۱ د) ۱/۱

- ۱۳- ماه شکل «۱» عنصری به اسم دیود را نشان می‌دهد. ویژگی این عنصر آن است که یا $V_D = 0$ و $I_D \geq 0$ یا $I_D = 0$ و $V_D \leq 0$ است. در مدار شکل «۲»، در زمان صفر اختلاف پتانسیل دو سر خازن (V) صفر است. هم‌چنین، $V_1 > V_2$ است. کدام گزینه ممکن است نمودار اختلاف پتانسیل دو سر خازن بر حسب زمان باشد؟

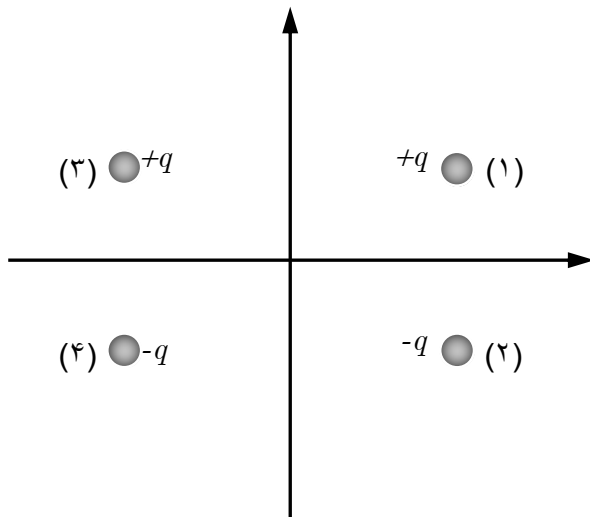




۱۴- ماچ مقداری گاز کامل در یک ظرف است. جرم گاز ثابت است. در فشار ثابت، دمای این گاز کم می‌شود. گرمای داده شده به این گاز را با Q ، و تغییر انرژی درونی این گاز را با ΔU نمایش می‌دهیم. کدام گزینه درست است؟

- (الف) $Q < \Delta U < 0$ (ب) $Q < 0 < \Delta U$ (ج) $0 < Q < \Delta U$ (د) $0 < \Delta U < Q$
 (ه) $\Delta U < 0 < Q$ (و) $\Delta U < Q < 0$

۱۵- ماچ چهار بار الکتریکی نقطه‌ای مطابق شکل در نظر بگیرید. مجموع نیروهای وارد بر دو بار ۱ و ۲ را با $\vec{F} = F_x \hat{i} + F_y \hat{j}$ نشان می‌دهیم. کدام گزینه درست است؟



- (الف) $F_y = 0, F_x > 0$ (ب) $F_y = 0, F_x < 0$
 (ج) $F_y \neq 0, F_x > 0$ (د) $F_y \neq 0, F_x < 0$

۱۶- ماچ یک جسم روی یک سطح افقی است (و به آن نچسبیده است). سطح افقی در راستای قائم حرکت می‌کند و معادله حرکت آن $y = A \cos \omega t$ است، که y ارتفاع و t زمان است. و A و ω ثابت‌اند. نیروی مقاومت هوا وارد بر این جسم

است، که m جرم جسم و b مقداری ثابت است. شتاب گرانش g است. A حداکثر چه قدر باشد تا جسم از سطح جدا نشود؟

- (الف) $\frac{g}{\omega \sqrt{b^2 + \omega^2}}$ (ب) $\frac{g}{\omega^2}$ (ج) $\frac{g}{\omega(b + \omega)}$ (د) $\frac{g}{\omega b}$

۱۷- ماه یک قطره در زمان صفر از نقطه A شروع به سقوط آزاد می‌کند. یک قطره دیگر در زمان Δt از همان نقطه A شروع به سقوط آزاد می‌کند. مشتق زمانی فاصله این دو قطره از هم در زمان t چیست؟ (g شتاب گرانش زمین است.)

الف) gt ب) $g \frac{t + \Delta t}{2}$ ج) $g\Delta t$ د) $g \frac{\Delta t^2}{t}$

۱۸- ماه بنابر قانون کپلر، مدار زمین به دور خورشید بیضی است، و خورشید در یکی از دو کانون این بیضی است. بنابر قانون دوم کپلر، سرعت حرکت زمین در مدارش طوری است که پاره‌خط خورشید - زمین در زمان‌های مساوی مساحت‌های مساوی جارو می‌کند. در مدار زمین به دور خورشید، چهار نقطه خاص هست: اعتدال بهاری، انقلاب تابستانی، اعتدال پاییزی، انقلاب زمستانی (همه این فصول، فصول نیم‌کره شمالی است). اعتدال بهاری، مرکز خورشید، و اعتدال پاییزی بر یک خط‌اند. انقلاب تابستانی، مرکز خورشید، و انقلاب زمستانی هم بر یک خط‌اند؛ و این دو خط بر هم عموداند. در مدار زمین، نقطه‌ای هست موسوم به حضيض که در آنجا فاصله زمین از خورشید کم‌ترین مقدار ممکن است. زمین در یک لحظه خاص، یعنی در یک روز خاص از سال در این حضيض است. این روز

الف) روزی بین ۱۶ اردیبهشت و ۱۵ مرداد است. ب) روزی بین ۱۶ مرداد و ۱۵ آبان است.
ج) روزی بین ۱۶ آبان و ۱۵ بهمن است. د) روزی بین ۱۶ بهمن تا ۱۵ اردیبهشت سال بعد است.

۱۹- ماه زمین و مریخ هر دو به دور خورشید می‌گردند. فرض کنید مدار هردو دایره باشد. فاصله زمین تا خورشید را یک واحد نجومی (1 AU) می‌نامند. فاصله مریخ از خورشید تقریباً $1/5 AU$ است. نور خورشید به مریخ می‌تابد و از آن باز می‌تابد. این بازتاب است که ما از روی زمین می‌بینیم. انرژی گذرنده از واحد سطح دهانه یک تلسکوپ (عمود بر جهت نور حاصل از مریخ) بر واحد زمان را درخشانی می‌نامیم. نسبت درخشانی مریخ در حداقل فاصله با زمین، به درخشانی آن در حداکثر فاصله با زمین چه قدر است؟

الف) ۱ ب) $2/5$ ج) $1/5$ د) ۲۵

۲۰- ماه در یک بزرگراه شرقی - غربی، خودرویی با سرعت 120 km/h به طرف شرق در حرکت است. راننده این خودرو، کامیون‌هایی را که در طرف دیگر بزرگراه، به سوی غرب می‌روند می‌شمارد، و می‌بیند که هر ۱۰ دقیقه ۷۰ کامیون از کنار او می‌گذرند. کسی کنار جاده ایستاده است و همین کامیون‌ها را نگاه می‌کند و می‌شمرد. این شخص می‌بیند که سرعت کامیون‌ها 90 km/h است و می‌بیند که در هر ساعت N کامیون از کنارش می‌گذرند. N برابر است با:

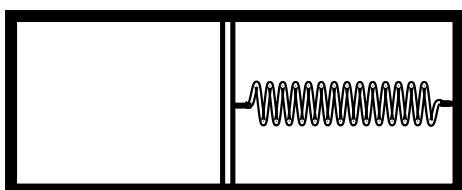
الف) ۱۴۰ ب) ۱۸۰ ج) ۳۶۰ د) ۴۲۰

۲۱- ماه یک ظرف مطابق شکل با یک پیستون نفوذناپذیر به دو قسمت تقسیم شده است. در طرف چپ مقداری گاز است. بین دیواره راست ظرف و پیستون هم یک فنر است. دیواره‌های بیرونی طرف صلب و نارسانای گرمایند. پیستون با دیواره ظرف اصطکاک دارد. فنر از حالت فشرده رها می‌شود تا مجموعه به تعادل برسد. طری این فرایند، انرژی پتانسیل فنر از U_1 به U_2 می‌رسد و روی گاز کار W انجام می‌شود. کدام گزینه درست است؟

الف) $W < U_1 - U_2$

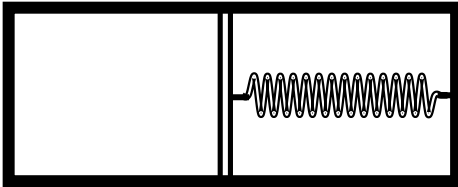
ب) $W = U_1 - U_2$

ج) $W > U_1 - U_2$





۲۲- ماچ یک ظرف مطابق شکل با یک پیستون نفوذناپذیر به دو قسمت تقسیم شده است. در طرف چپ مقداری گاز کامل است. بین دیواره راست ظرف و پیستون هم یک فنر هست. دیواره‌های بیرونی ظرف صلب و رسانای گرمایند. دو فرایند در نظر می‌گیریم. در فرایند اول پیستون و فنر را از یک وضعیت اولیه رها می‌کنیم تا مجموعه به حالت تعادل برسد. طی این فرایند، تغییر دمای گاز (دمای نهایی منهای دمای اولیه) ΔT_1 است. در فرایند دوم، پیستون و فنر را از همان وضعیت اولیه رها می‌کنیم، اما طی فرایند فنر در می‌رود (آزاد می‌شود). تغییر دمای گاز طی این فرایند ΔT_2 است. کدام گزینه درست است؟



الف) $\Delta T_2 > \Delta T_1$

ب) $\Delta T_2 = \Delta T_1$

ج) $\Delta T_2 < \Delta T_1$

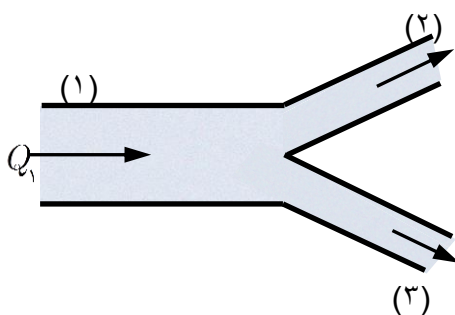
۲۳- ماچ یک گاری و یک جعبه روی آن، روی یک سطح افقی ساکن‌اند. در زمان صفر گاری به حرکت در می‌آید و از زمان صفر تا زمان T با سرعت ثابت حرکت می‌کند. در زمان T گاری ساکن می‌شود و از آن پس ساکن می‌ماند. جعبه روی گاری در زمان t متوقف می‌شود. فرض کنید فقط گاری و زمین به جعبه نیرو وارد می‌کنند و جعبه از گاری بیرون نمی‌افتد. کدام گزینه درست است؟

ب) $t = 2T$

الف) $t > 2T$

د) مواردی هست که $t = 2T$ ، و مواردی هست که $t < 2T$

ج) $t < 2T$



۲۴- ماچ جریان گذرنده از یک لوله افقی آب (حجم آب گذرنده بر واحد زمان) متناسب با اختلاف فشار دو سر لوله است. ضریب تناسب به طول و مقطع لوله بستگی دارد. یک سه راهی افقی را در نظر بگیرید. فشار در سرهای ۱، ۲ و ۳ را به ترتیب با P_1 ، P_2 و P_3 نشان می‌دهیم. آب از سر ۱ وارد و از سرهای ۲ و ۳ خارج می‌شود. جریان سرهای ۱، ۲ و ۳ را به ترتیب با Q_1 ، Q_2 و Q_3 نشان می‌دهیم. فرض کنید P_3 کم شود و P_1 و P_2 تغییر نکنند. کدام گزینه درست است؟

الف) Q_1 و Q_2 و Q_3 زیاد می‌شوند.

ب) Q_1 و Q_2 زیاد می‌شوند و Q_3 کم می‌شود.

ج) Q_1 و Q_2 کم می‌شوند و Q_3 زیاد می‌شود.

د) Q_1 و Q_2 کم می‌شوند و Q_3 زیاد می‌شود.

۲۵- ماچ یک راننده تاکسی مسافرها را در نقطه A سوار و در نقطه B پیاده می‌کند. راننده در نقطه A صبر می‌کند تا n مسافر برای تاکسی پیدا شود و آن‌ها را به نقطه B ببرد. زمان لازم برای پیدا شدن هر مسافر t است. پس از این که n مسافر سوار

تاکسی شدند، تاکسی حرکت می‌کند و به نقطه B می‌رود. زمان لازم برای رفتن از A به B برابر با T است. کرایه‌ای که از هر مسافر دریافت می‌شود I ، و هزینه هر سفر (سوخت، استهلاک، ...) C است. درآمد خالص برابر است با مجموع کرایه‌ها منهای هزینه. درآمد خالص بر زمان برابر است با درآمد خالص تقسیم بر زمان لازم برای کسب آن. درآمد خالص بر زمان را با b نشان می‌دهیم. کدام گزینه درباره رابطه b با n درست است؟

الف) b برحسب n صعودی است اگر $n \leq n_0$ ، و نزولی است اگر $n \geq n_0$.

ب) b برحسب n نزولی است اگر $n \leq n_0$ ، و صعودی است اگر $n \geq n_0$.

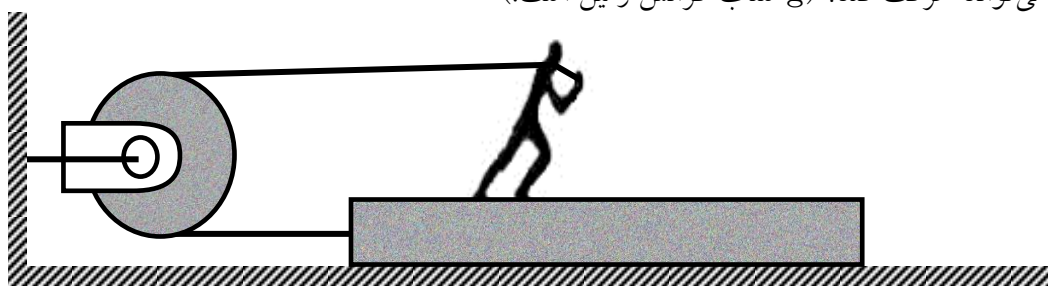
ج) b برحسب n همواره نزولی است.

د) b برحسب n همواره صعودی است.

۲۶- ماه فرض کنید تمام سطح زمین را با لامپ‌های ۱۰۰ ولتی بپوشانیم. توان تولیدی خورشید چند برابر توان تولیدی ناشی از لامپ‌های چیده شده روی سطح زمین است؟ فرض کنید شعاع زمین $6 \times 10^6 m$ ، زمان رسیدن نور خورشید به زمین $8 \times 10^7 s$ ، و توان دریافت شده از خورشید بر واحد سطح روی زمین $10^3 w / m^2$ باشد.

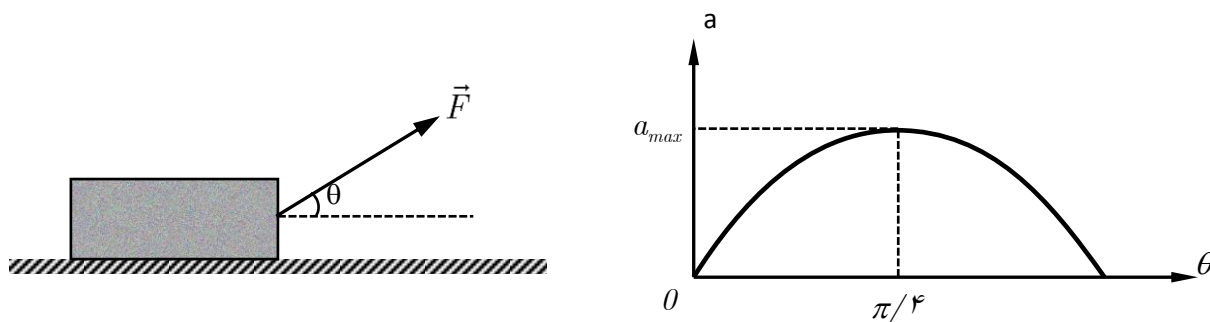
- (الف) 10^4 (ب) 10^7 (ج) 10^{10} (د) 10^{13}

۲۷- ماه فردی به جرم M روی جسمی به جرم m ایستاده است. اصطکاک بین جسم و زمین را ناچیز بگیرید. ضریب اصطکاک بین پای این فرد و جسم μ است. فرض کنید همواره حداقل یکی از پاهای او روی جسم است. او حداکثر با چه شتابی نسبت به زمین می‌تواند حرکت کند؟ (g شتاب گرانش زمین است.)



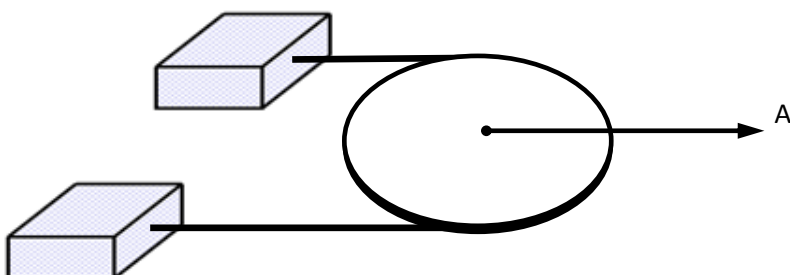
- (الف) μg (ب) $2\mu g$ (ج) $3\mu g$ (د) $4\mu g$

۲۸- ماه شکل، جعبه‌ای را نشان می‌دهد که با نیروی \vec{F} روی سطح افقی اصطکاک داری کشیده می‌شود. اندازه \vec{F} را ثابت نگه می‌داریم ولی جهت آن را تغییر می‌دهیم. شتاب جعبه تغییر می‌کند. نمودار شتاب جعبه بر حسب θ رسم شده است. a_{max} چه قدر است؟ (g شتاب گرانش زمین است.)



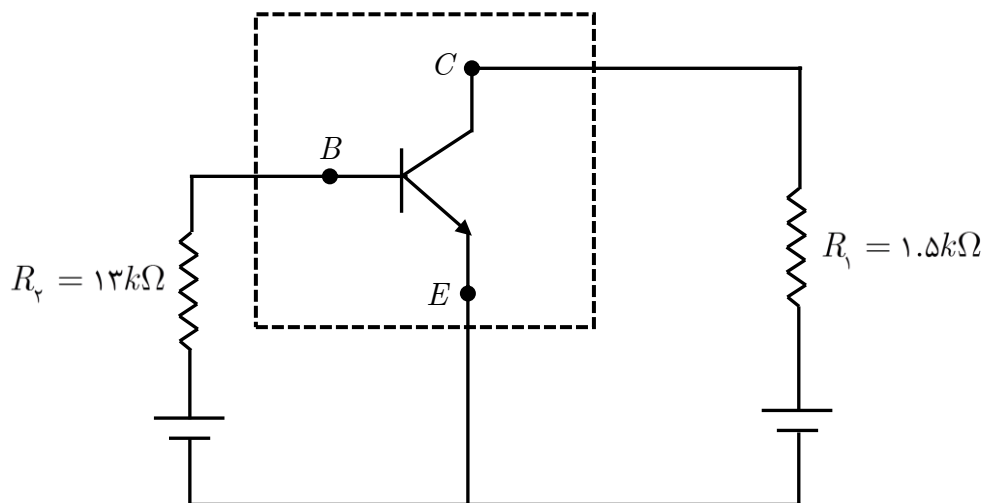
- (الف) g (ب) $\sqrt{2}g$ (ج) $(\sqrt{2} - 1)g$ (د) $(\sqrt{2} + 1)g$

۲۹- ماه دو جرم m_1 و m_2 ($m_2 > m_1$) مطابق شکل توسط نخ‌ی که از روی قرقره‌ای گذشته است به هم وصل شده‌اند. مطابق شکل قرقره و جرم‌ها روی یک سطح افقی هستند و مرکز قرقره با شتاب A کشیده می‌شود. شتاب m_1 نسبت به زمین a_1 و شتاب m_2 نسبت به زمین a_2 می‌شود. از اصطکاک بین جرم‌ها و زمین، بین نخ و قرقره و هم‌چنین جرم نخ چشم‌پوشی کنید. کدام گزینه راجع به شتاب جرم‌ها درست است؟



- (الف) $a_1 > A > a_2$ (ب) $a_1 < A < a_2$ (ج) $a_1 = A = a_2$ (د) $a_1 > a_2 > A$

۳۰- مقدار انرژی‌ای که بر و احد زمان سرظهر از طرف خورشید به واحد سطح در تهران می‌رسد در تابستان و زمستان فرق دارد. نسبت این دو مقدار تقریباً چه قدر است؟



$$V_B - V_A = 0 / 7v$$

$$V_C - V_E = 5v$$

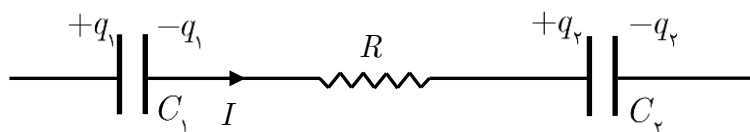
۵(د)

۴(ج)

۳(ب)

۲(الف)

۳۱- در مدار نشان داده شده در شکل، عنصری که داخل خط چین قرار دارد یک ترانزیستور است. توان الکتریکی مصرفی این ترانزیستور چه قدر است؟



۷۰ mW (د)

۶۰ mW (ج)

۵۰ mW (ب)

۴۰ mW (الف)

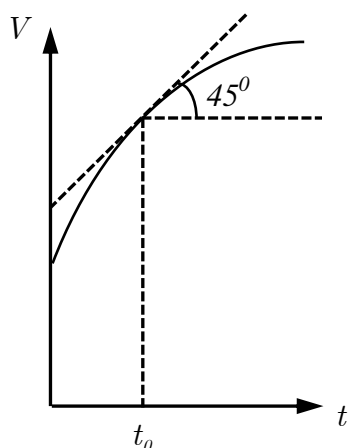
۳۲- بخشی از یک مدار در شکل دیده می‌شود. مقدار متوسط I در یک فاصله زمانی Δt برابر است با:

$$\frac{\Delta q_1 + \Delta q_2}{\Delta t} \text{ (د)}$$

$$\frac{\Delta q_1 - \Delta q_2}{\Delta t} \text{ (ج)}$$

$$\frac{-\Delta q_2}{\Delta t} \text{ (ب)}$$

$$\frac{\Delta q_1}{\Delta t} \text{ (الف)}$$



۳۳- نمودار سرعت - زمان برای متحرکی که روی محور x حرکت می‌کند رسم شده است. هر ۱ cm روی محور V را معادل ۱۰ m/s، و هر ۱ cm روی محور t را معادل ۱ s گرفته‌ایم. شتاب متحرک در لحظه $t = t_0$ چه قدر است؟

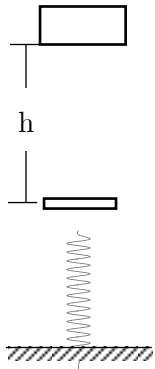
$$0 / 1m / s^2 \text{ (الف)}$$

$$1m / s^2 \text{ (ب)}$$

$$10m / s^2 \text{ (ج)}$$

$$100m / s^2 \text{ (د)}$$

۳۴- ماه جسمی به جرم m از ارتفاع h بر روی فنر سبکی با ثابت k رها می‌شود. بیشینه سرعت جسم در طول مسیر هنگامی است که: (g شتاب گرانش زمین است.)



الف) جسم به فنر برخورد می‌کند.

ب) فنر به اندازه $\frac{mg}{k}$ فشرده شده است.

ج) فنر به اندازه $\frac{2mg}{k}$ فشرده شده است.

د) فنر به اندازه $\sqrt{\frac{2mgh}{k}}$ فشرده شده است.

۳۵- ماه چگالی سطحی بار روی صفحه مثبت خازن مسطحی $10^{-7} C/m^2$ است، و ثابت دی الکتریک بین دو صفحه خازن ۵ است. اندازه بردار میدان الکتریکی ناشی از منظم شدن مولکول‌های قطبی دی الکتریک در فضای بین دو صفحه به کدام مقدار نزدیک‌تر است؟

الف) $10 v/m$

ب) $100 v/m$

ج) $1 kv/m$

د) $10 kv/m$

«بخش مسائل پاسخ کوتاه»

پیش از شروع به حل مسئله‌های کوتاه، توضیح زیر را به دقت بخوانید:
 در این مسأله‌ها باید پاسخ را بر حسب واحدهای مورد نظر (مثلاً میلی‌آمپر، متر، کیلوگرم، دقیقه، و غیره) که در صورت مسئله خواسته شده، با دو رقم به دست آورید.
 مثال: فرض کنید ظرفیت خازنی برحسب میکروفاراد خواسته شده باشد و شما عدد $۷\mu F / ۲۶$ را به دست آورده باشید. آن را به نزدیک‌ترین عدد صحیح گرد کنید تا عدد ۲۷ میکروفاراد به دست آید.
 توجه: پاسخ نادرست در این بخش نمره منفی ندارد.

۱- عرض جغرافیایی دابیلن، پایتخت ایرلند جنوبی، ۵۳° شمالی است. یک خیابان شرقی - غربی به عرض $۲۱m$ در این شهر در نظر بگیرید. در ضلع شمالی این خیابان ساختمان A قرار دارد که پنجره‌ای در ارتفاع $۲۵m$ از سطح زمین دارد. در ضلع جنوبی این خیابان، و مقابل ساختمان A، ساختمان B به ارتفاع h در حالت ساخت است. حداقل h چند متر باشد تا در ظهر هیچ روزی از سال آفتاب به پنجره ساختمان A نتابد؟

۲- چگالی بتون $\rho = ۲۵۰۰ kg / m^3$ است و بیش‌ترین فشاری که می‌تواند تحمل کند تا خرد نشود $۱۰^۷ N / m^2 \times ۵$ است. بلندترین استوانه قائمی که از بتون می‌توان ساخت چند کیلومتر است؟

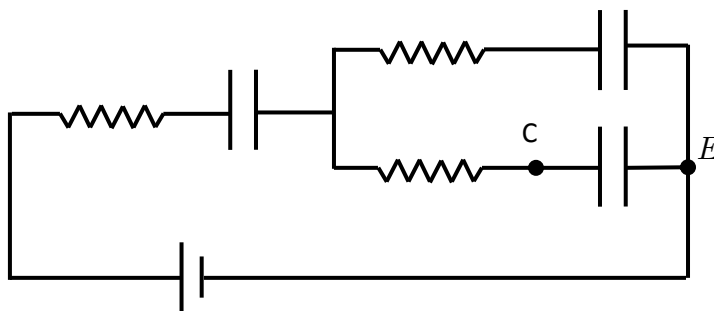
۳- دو فنر جرم‌دار یکسان داریم. طول کشیده نشده هر یک از آن‌ها $۱۲cm$ است. وقتی یکی از فنرها را از نقطه ثابت می‌آویزیم، طولش $۱۵cm$ می‌شود. اگر دو نفر را به هم وصل کنیم و سپس از نقطه ثابتی بیاویزیم، طول فنر مرکب حاصل از چند سانتی‌متر است؟
 (راهنمایی: کشیدگی یک فنر جرم‌دار آویزان به جرم m ، برابر است با کشیدگی یک فنر بی‌جرم آویزان که به انتهای آن جسمی به جرم $m/۲$ بسته باشند.)

۴- یک گیرنده روی محور X و به فاصله X از مبدأ است. دو فرستنده، یکی در مبدأ و دیگری روی محور Y و به فاصله $۵۰km$ از مبدأ، هم‌زمان دو علامت رادیویی می‌فرستند و گیرنده این دو علامت را به فاصله زمانی $۱۰^{-۴} s$ از هم دریافت می‌کند. سرعت انتشار امواج رادیویی را $۳ \times ۱۰^۵ km / s$ بگیرید. X چند کیلومتر است؟

۵- یک شکارچی و شکارش ساکن‌اند. شکارچی از زمان صفر با شتاب ثابت $۱۰ m / s^2$ دنبالش حرکت می‌کند. شکار ۲ ثانیه بعد شروع به فرار می‌کند و با شتاب ثابت $۱۵ m / s^2$ حرکت می‌کند. شکار و شکارچی هر دو روی یک خط راست حرکت می‌کنند. فاصله اولیه شکار و شکارچی از هم دست‌بالا متر باشد تا شکارچی به شکار برسد؟

۶- هر چه قطر عدسی شیئی تلسکوپی بزرگ‌تر باشد، آن تلسکوپ بهتر می‌تواند اجسام دور را از هم تفکیک کند. اگر قطر عدسی شیئی یک تلسکوپ D باشد، حد تفکیک آن، یعنی کوچک‌ترین زاویه‌این که با آن می‌توان تشخیص داد برابر است با $\theta = ۵ \times ۱۰^{-۷} / D$ ، که در این‌جا زاویه θ برحسب رادیان و D برحسب متر است. فاصله دو جسم آسمانی از هم $۱۰^{-۶}$ برابر فاصله آن‌ها از زمین است. قطر عدسی شیئی تلسکوپ حداقل چند سانتی‌متر باشد تا بتوان این دو جسم را از هم تشخیص داد؟

۷- ماه در مدار شکل، اختلاف پتانسیل دو سر باتری ۲۴V، ظرفیت هر خازن $47\mu F$ ، و مقدار هر مقاومت 22Ω است. در زمان صفر $V_C - V_E = 18V$ است و دو خازن دیگر بی‌باراند. پس از گذشتن زمان یاد، $V_C - V_E$ چند ولت می‌شود؟



۸- ماه یکی از دو سطح خارجی یک عدسی کوژ بخشی از یک صفحه، و سطح دیگر بخشی از یک کره به شعاع R است. ضریب شکست این عدسی n است. فاصله کانونی این عدسی (f) از این رابطه به دست می‌آید.

$$\frac{1}{f} = \frac{n-1}{R}$$

R و n تابع دما هستند:

$$R(T) = R(T_0)[1 + \lambda(T - T_0)]$$

$$n(T) = n(T_0) - 3\lambda(T - T_0)[n(T_0) - 1]$$

که T دما و λ ضریب انبساط طولی عدسی است. در دمای $T_0 = 0^\circ C$ ، $n = 1/1$ و $R = 10cm$ است. ضمناً $\lambda = 2 \times 10^{-6} / ^\circ C$ است. فاصله کانونی این عدسی از دمای $T_0 = 0^\circ C$ تا دمای $T = 11^\circ C$ به اندازه Δf تغییر می‌کند. Δf چند میکرومتر است؟

$$(1 + \alpha)^r (1 + \beta)^s \simeq 1 + r\alpha + s\beta$$

راهنمایی: اگر α و β کوچک باشند، آن‌گاه:

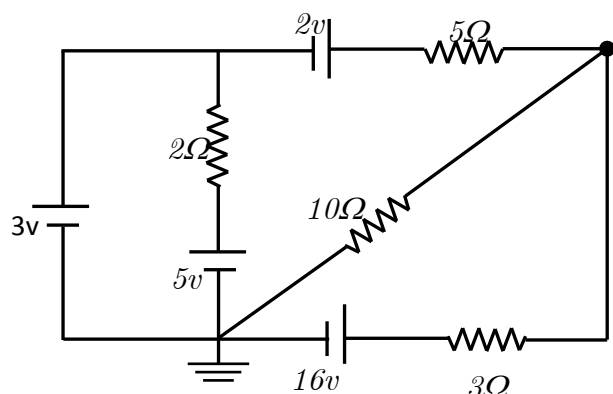
۹- ماه یک خنک کننده با یک ترموستات روشن و خاموش می‌شود. اگر ترموستات مدار را وصل کرده باشد، وقتی دما از T_1 کم‌تر شود مدار قطع می‌شود. اگر ترموستات مدار را قطع کرده باشد، وقتی دما از T_2 بیش‌تر شود مدار وصل می‌شود. T_1 از T_2

بزرگ‌تر است. تغییرات دمای محیطی که این ترموستات در آن $T = T_1 + a \cos \omega t$ است، که T و t زمان است. داریم:

$$T_1 = 7/00^\circ C \quad T_2 = 8/00^\circ C$$

$$a = 2/00^\circ C \quad \omega = 2/00 \times 10^{-3} s^{-1}$$

چند درصد از زمان، مدار خنک کننده وصل است؟



۱۰- ماه در مدار نشان داده شده در شکل، پتانسیل نقطه P چند ولت است؟

«کلید سؤالات»

۱	<input type="radio"/> ه <input type="radio"/> د <input type="radio"/> ج <input type="radio"/> ب <input type="radio"/> الف	۲۱	<input type="radio"/> ه <input type="radio"/> د <input type="radio"/> ج <input type="radio"/> ب <input type="radio"/> الف	۴۱	<input type="radio"/> ه <input type="radio"/> د <input type="radio"/> ج <input type="radio"/> ب <input type="radio"/> الف
۲	<input type="radio"/> ه <input type="radio"/> د <input type="radio"/> ج <input type="radio"/> ب <input type="radio"/> الف	۲۲	<input type="radio"/> ه <input type="radio"/> د <input type="radio"/> ج <input type="radio"/> ب <input type="radio"/> الف	۴۲	<input type="radio"/> ه <input type="radio"/> د <input type="radio"/> ج <input type="radio"/> ب <input type="radio"/> الف
۳	<input type="radio"/> ه <input type="radio"/> د <input type="radio"/> ج <input type="radio"/> ب <input type="radio"/> الف	۲۳	<input type="radio"/> ه <input type="radio"/> د <input type="radio"/> ج <input type="radio"/> ب <input type="radio"/> الف	۴۳	<input type="radio"/> ه <input type="radio"/> د <input type="radio"/> ج <input type="radio"/> ب <input type="radio"/> الف
۴	<input type="radio"/> ه <input type="radio"/> د <input type="radio"/> ج <input type="radio"/> ب <input type="radio"/> الف	۲۴	<input type="radio"/> ه <input type="radio"/> د <input type="radio"/> ج <input type="radio"/> ب <input type="radio"/> الف	۴۴	<input type="radio"/> ه <input type="radio"/> د <input type="radio"/> ج <input type="radio"/> ب <input type="radio"/> الف
۵	<input type="radio"/> ه <input type="radio"/> د <input type="radio"/> ج <input type="radio"/> ب <input type="radio"/> الف	۲۵	<input type="radio"/> ه <input type="radio"/> د <input type="radio"/> ج <input type="radio"/> ب <input type="radio"/> الف	۴۵	<input type="radio"/> ه <input type="radio"/> د <input type="radio"/> ج <input type="radio"/> ب <input type="radio"/> الف
۶	<input type="radio"/> ه <input type="radio"/> د <input type="radio"/> ج <input type="radio"/> ب <input type="radio"/> الف	۲۶	<input type="radio"/> ه <input type="radio"/> د <input type="radio"/> ج <input type="radio"/> ب <input type="radio"/> الف	۴۶	<input type="radio"/> ه <input type="radio"/> د <input type="radio"/> ج <input type="radio"/> ب <input type="radio"/> الف
۷	<input type="radio"/> ه <input type="radio"/> د <input type="radio"/> ج <input type="radio"/> ب <input type="radio"/> الف	۲۷	<input type="radio"/> ه <input type="radio"/> د <input type="radio"/> ج <input type="radio"/> ب <input type="radio"/> الف	۴۷	<input type="radio"/> ه <input type="radio"/> د <input type="radio"/> ج <input type="radio"/> ب <input type="radio"/> الف
۸	<input type="radio"/> ه <input type="radio"/> د <input type="radio"/> ج <input type="radio"/> ب <input type="radio"/> الف	۲۸	<input type="radio"/> ه <input type="radio"/> د <input type="radio"/> ج <input type="radio"/> ب <input type="radio"/> الف	۴۸	<input type="radio"/> ه <input type="radio"/> د <input type="radio"/> ج <input type="radio"/> ب <input type="radio"/> الف
۹	<input type="radio"/> ه <input type="radio"/> د <input type="radio"/> ج <input type="radio"/> ب <input type="radio"/> الف	۲۹	<input type="radio"/> ه <input type="radio"/> د <input type="radio"/> ج <input type="radio"/> ب <input type="radio"/> الف	۴۹	<input type="radio"/> ه <input type="radio"/> د <input type="radio"/> ج <input type="radio"/> ب <input type="radio"/> الف
۱۰	<input type="radio"/> ه <input type="radio"/> د <input type="radio"/> ج <input type="radio"/> ب <input type="radio"/> الف	۳۰	<input type="radio"/> ه <input type="radio"/> د <input type="radio"/> ج <input type="radio"/> ب <input type="radio"/> الف	۵۰	<input type="radio"/> ه <input type="radio"/> د <input type="radio"/> ج <input type="radio"/> ب <input type="radio"/> الف
۱۱	<input type="radio"/> ه <input type="radio"/> د <input type="radio"/> ج <input type="radio"/> ب <input type="radio"/> الف	۳۱	<input type="radio"/> ه <input type="radio"/> د <input type="radio"/> ج <input type="radio"/> ب <input type="radio"/> الف	۵۱	<input type="radio"/> ه <input type="radio"/> د <input type="radio"/> ج <input type="radio"/> ب <input type="radio"/> الف
۱۲	<input type="radio"/> ه <input type="radio"/> د <input type="radio"/> ج <input type="radio"/> ب <input type="radio"/> الف	۳۲	<input type="radio"/> ه <input type="radio"/> د <input type="radio"/> ج <input type="radio"/> ب <input type="radio"/> الف	۵۲	<input type="radio"/> ه <input type="radio"/> د <input type="radio"/> ج <input type="radio"/> ب <input type="radio"/> الف
۱۳	<input type="radio"/> ه <input type="radio"/> د <input type="radio"/> ج <input type="radio"/> ب <input type="radio"/> الف	۳۳	<input type="radio"/> ه <input type="radio"/> د <input type="radio"/> ج <input type="radio"/> ب <input type="radio"/> الف	۵۳	<input type="radio"/> ه <input type="radio"/> د <input type="radio"/> ج <input type="radio"/> ب <input type="radio"/> الف
۱۴	<input type="radio"/> ه <input type="radio"/> د <input type="radio"/> ج <input type="radio"/> ب <input type="radio"/> الف	۳۴	<input type="radio"/> ه <input type="radio"/> د <input type="radio"/> ج <input type="radio"/> ب <input type="radio"/> الف	۵۴	<input type="radio"/> ه <input type="radio"/> د <input type="radio"/> ج <input type="radio"/> ب <input type="radio"/> الف
۱۵	<input type="radio"/> ه <input type="radio"/> د <input type="radio"/> ج <input type="radio"/> ب <input type="radio"/> الف	۳۵	<input type="radio"/> ه <input type="radio"/> د <input type="radio"/> ج <input type="radio"/> ب <input type="radio"/> الف	۵۵	<input type="radio"/> ه <input type="radio"/> د <input type="radio"/> ج <input type="radio"/> ب <input type="radio"/> الف
۱۶	<input type="radio"/> ه <input type="radio"/> د <input type="radio"/> ج <input type="radio"/> ب <input type="radio"/> الف	۳۶	<input type="radio"/> ه <input type="radio"/> د <input type="radio"/> ج <input type="radio"/> ب <input type="radio"/> الف	۵۶	<input type="radio"/> ه <input type="radio"/> د <input type="radio"/> ج <input type="radio"/> ب <input type="radio"/> الف
۱۷	<input type="radio"/> ه <input type="radio"/> د <input type="radio"/> ج <input type="radio"/> ب <input type="radio"/> الف	۳۷	<input type="radio"/> ه <input type="radio"/> د <input type="radio"/> ج <input type="radio"/> ب <input type="radio"/> الف	۵۷	<input type="radio"/> ه <input type="radio"/> د <input type="radio"/> ج <input type="radio"/> ب <input type="radio"/> الف
۱۸	<input type="radio"/> ه <input type="radio"/> د <input type="radio"/> ج <input type="radio"/> ب <input type="radio"/> الف	۳۸	<input type="radio"/> ه <input type="radio"/> د <input type="radio"/> ج <input type="radio"/> ب <input type="radio"/> الف	۵۸	<input type="radio"/> ه <input type="radio"/> د <input type="radio"/> ج <input type="radio"/> ب <input type="radio"/> الف
۱۹	<input type="radio"/> ه <input type="radio"/> د <input type="radio"/> ج <input type="radio"/> ب <input type="radio"/> الف	۳۹	<input type="radio"/> ه <input type="radio"/> د <input type="radio"/> ج <input type="radio"/> ب <input type="radio"/> الف	۵۹	<input type="radio"/> ه <input type="radio"/> د <input type="radio"/> ج <input type="radio"/> ب <input type="radio"/> الف
۲۰	<input type="radio"/> ه <input type="radio"/> د <input type="radio"/> ج <input type="radio"/> ب <input type="radio"/> الف	۴۰	<input type="radio"/> ه <input type="radio"/> د <input type="radio"/> ج <input type="radio"/> ب <input type="radio"/> الف	۶۰	<input type="radio"/> ه <input type="radio"/> د <input type="radio"/> ج <input type="radio"/> ب <input type="radio"/> الف