



دفترچه سؤالات مرحله اول پهاردهمین دوره‌ی المپیاد فیزیک سال ۱۳۹۹

مدت آزمون (دقیقه)	تعداد سؤالات	
	مسأله‌های تشریحی	سؤالات چند گزینه‌ای
۱۸۰	۴	۳۴

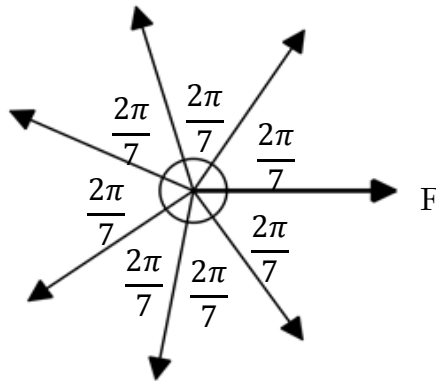
استفاده از ماشین حساب ممنوع است.

توضیحات مهم

تذکرات آزمون:

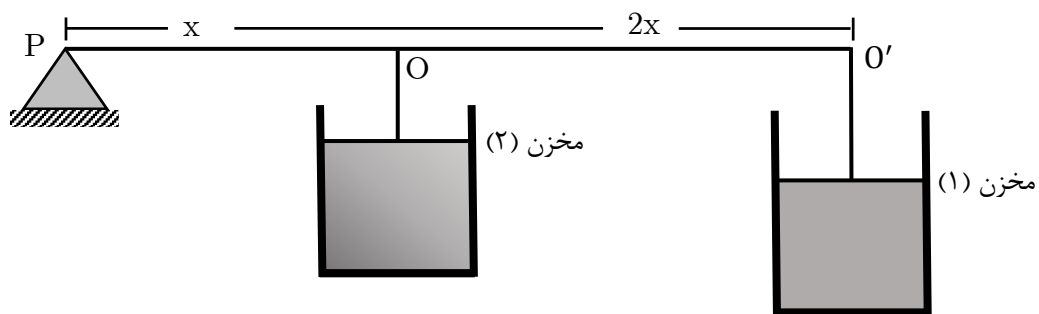
- ضمن آرزوی موفقیت برای شما دانش‌پژوه گرامی، خواهشمند است قبل از پاسخ به سؤالات آزمون به موارد زیر توجه کنید:
- این آزمون شامل ۳۴ سوال تستی و ۴ مسأله‌های تشریحی و وقت آن ۱۸۰ دقیقه است.
- نمره‌ی هر سوال در ابتدای آن نوشته شده است.
- استفاده از ماشین حساب در این آزمون مجاز است.
- همراه داشتن تلفن همراه (حتی خاموش) در طول زمان آزمون مجاز نیست.
- فقط داوطلبانی می‌توانند دفترچه‌ی سؤالات را با خود ببرند که تا پایان آزمون در جلسه حضور داشته باشند.
- جمع‌آوری و آماده‌سازی دفترچه‌ی سؤالات این آزمون توسط کمیته‌ی علمی ماخ انجام شده است.

۱- مطابق شکل جسمی به جرم ۲ kg تحت تأثیر هفت نیروی مساوی که در یک صفحه واقع‌اند. در حالت تعادل قرار دارد. اندازه هریک از نیروها ۱۰ N است. اگر نیروی F_1 را ناگهان حذف کنیم، اندازه شتاب چند متر بر مجذور ثانیه است؟



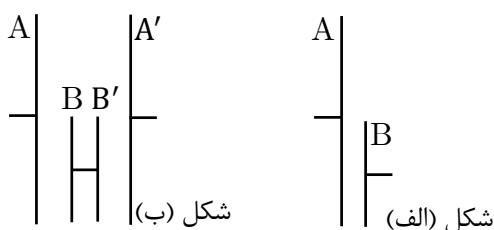
- (الف) $۱۰ \cos\left(\frac{۲\pi}{۷}\right)$ (ب) $۱۰ \cos\left(\frac{۴\pi}{۷}\right)$ (ج) $۱۰ \sin\left(\frac{۴\pi}{۷}\right)$ (د) صفر (ه) ۵

۲- در شکل مقداری گاز کامل در دما و فشار یکسان درون مخزن‌های ۱ و ۲ در زیر پیستون‌های سبک محبوس است. میله‌ای در نقطه‌ای O و O' به پیستون‌ها متصل است و می‌تواند حول تکیه‌گاه P بچرخد. اگر دمای مخزن ۱ را ۶۰° درجه اضافه کنیم دمای مخزن ۲ چقدر باید تغییر کند تا میله افقی بماند؟ از جرم میله چشم‌پوشید.



- (الف) ۲۰° درجه افزایش یابد. (ب) ۲۰° درجه کاهش یابد.
(ج) ۶۰° درجه کاهش یابد. (د) ۴۰° درجه کاهش یابد.

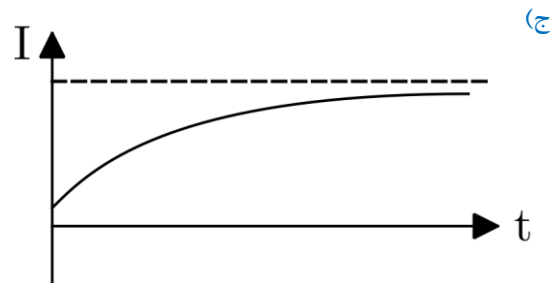
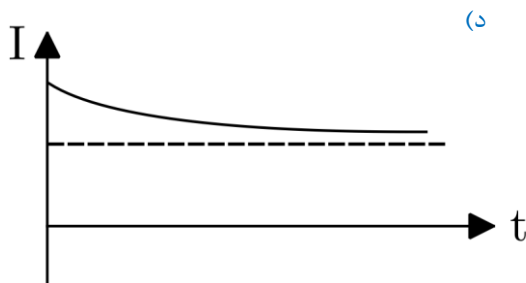
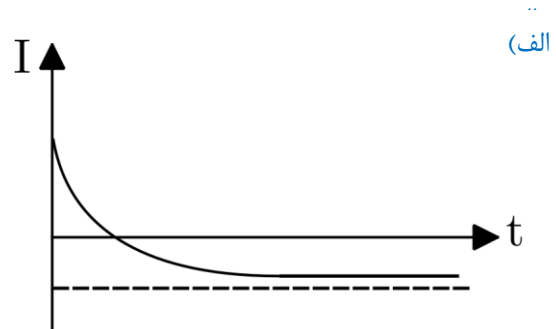
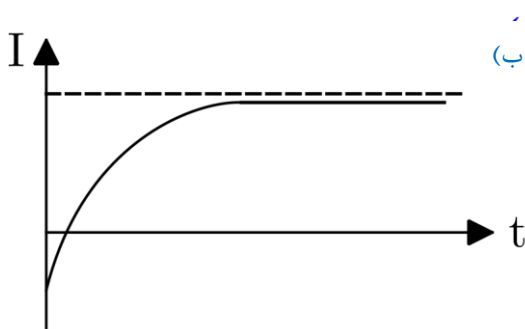
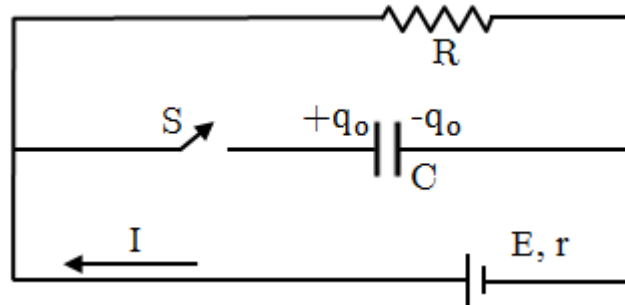
۳- دو صفحه رسانای تخت A و B با مساحت‌های نامساوی، مطابق شکل (الف) قرار دارند. فاصله این دو صفحه از هم بسیار کم است. ظرفیت این خازن C است. در شکل (ب) دو تا از این خازن‌ها را باهم سری بسته‌ایم. صفحه‌های A, A', B و B' با یکدیگر موازی هستند. فاصله صفحه‌های A و A' بسیار کم است. ظرفیت کل در شکل (ب)، C_r است. کدام گزینه درست است؟



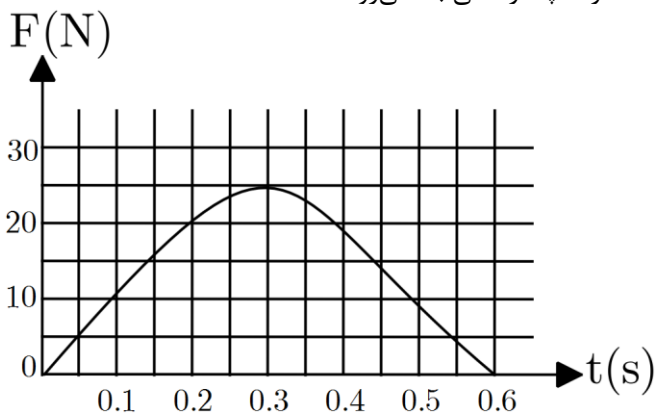
- (الف) $C_r = \frac{C}{۲}$ (ب) $C_r > \frac{C}{۲}$ (ج) $C_r < \frac{C}{۲}$

۴- مطابق شکل، هنگامی که کلید S باز است باز خازن q_0 است. فرض کنید $CE > q_0 > \frac{C \times E}{1 + \frac{r}{R}}$ در $t = 0$ کلید را می بندیم.

نمودار جریان I بر حسب t کدام است؟



۵- تویی به جرم 5 kg در راستای قائم به زمین می خورد. توپ با سرعت V به زمین می خورد و با سرعت $8V$ از زمین بالا می جهد. نمودار تغییرات نیروی سطح زمین بر توپ مطلق شکل است. توپ حداکثر تا چه ارتفاعی بالا می رود؟



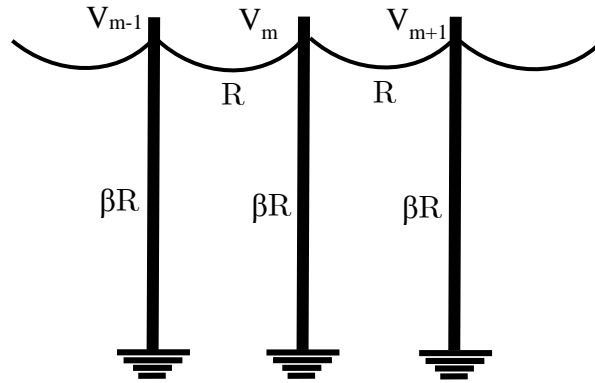
(الف) 4 m

(ب) 8 m

(ج) 2 m

(د) 2 m

۶- مطابق شکل یک خط انتقال برق روی تعدادی پایه که فاصله آن‌ها مساوی است قرار دارد. مقاومت الکتریکی این خط، میان دو پایه مجاور، R است. پایه‌ها کاملاً نارسا نیستند و مقاومت هر کدام βR است. اختلاف پتانسیل میان زمین و محل اتصال خط با پایه شماره m را V_m می‌گیریم. نسبت $\frac{V_{m+1} + V_{m-1}}{V_m}$ کدام است؟



(د) $\beta + \frac{1}{2}$

(ج) $2 + \frac{1}{\beta}$

(ب) $\frac{1}{2 + \beta}$

(الف) $\frac{\beta}{2 + \beta}$

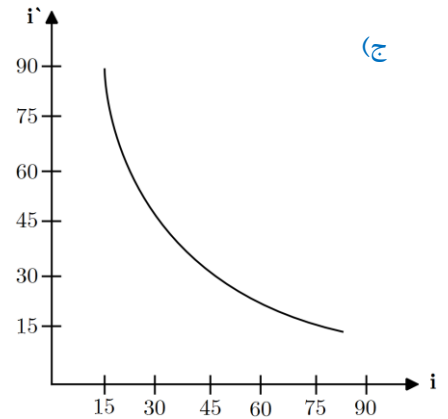
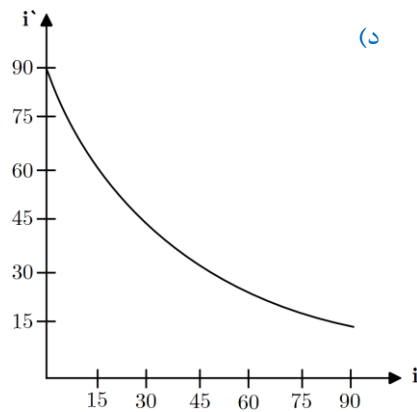
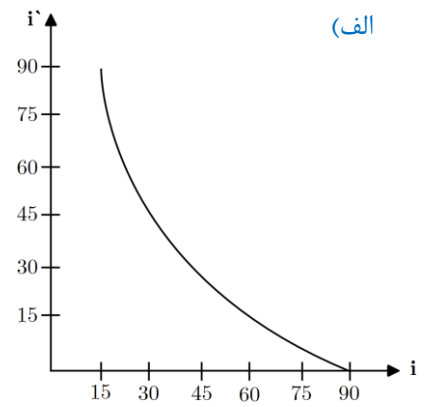
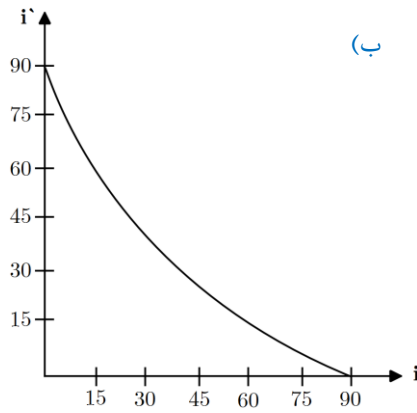
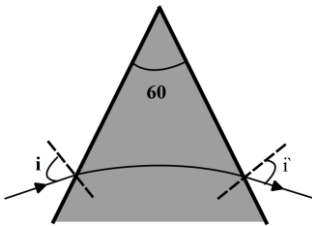
۷- شخصی به جرم $m = 60 \text{ kg}$ روی یک باسکول ایستاده است. این شخص یک سر فنر بدون جرمی را در دست دارد که سر دیگر آن به کف باسکول بسته شده است. ثابت فنر 1000 N/m است. اگر این شخص فنر را در راستای قائم نگه دارد و آن را طوری بکشد که طول آن 20 cm افزایش یابد، باسکول چند نیوتن را نشان می‌دهد؟

(ج) ۸۰۰

(ب) ۶۰۰

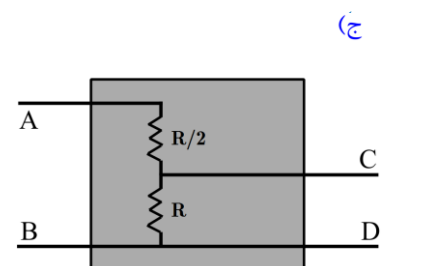
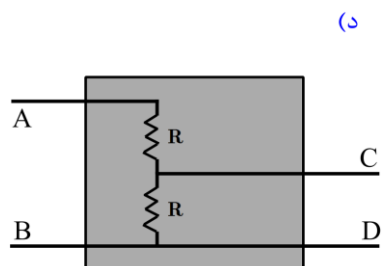
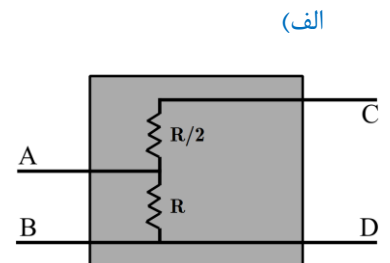
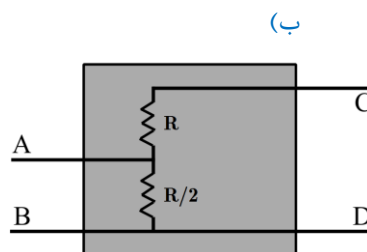
(الف) ۴۰۰

۸- ضریب شکست منشور نشان داده شده در شکل ۱/۴ است. مطابق شکل باریکه نوری را با زاویه تابش i به منشور می‌تابانیم. زاویه خروج نور از منشور i' است. زاویه i را از صفر تا 90° تغییر می‌دهیم. کدام نمودار تغییرات زاویه i' بر حسب i را نشان می‌دهد؟



۹- داخل جعبه سیاه شکل یک مدار الکتریکی است. می‌خواهیم بینیم عناصر تشخیص دهنده این مدار چیست؟ اگر یک باتری با نیروی محرکه E به دو سر AB وصل کنیم. اختلاف پتانسیل دو سر CD برابر $\frac{E}{4}$ می‌شود. اگر همان باتری را به CD وصل کنیم.

اختلاف پتانسیل AB برابر E می‌شود. کدام یک از گزینه‌های زیر می‌تواند عناصر داخل جعبه سیاه باشد؟



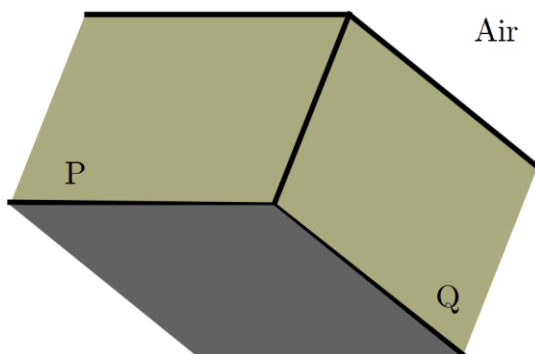
۱۰- ماه

جسمی در $t = 0$ از حال سکون شروع به حرکت می‌کند. اگر دو طول حرکت توان کل داده شده به جسم ثابت باشد، سرعت جسم:

- (الف) متناسب با زمان است. (ب) متناسب با جذر زمان است.
(ج) ثابت است. (د) متناسب با مربع زمان است.

۱۱- ماه

دو نیم صفحه P و Q مطابق شکل ۱، با یکدیگر زاویه α می‌سازند. ناحیه میان این دو نیم صفحه با ماده شفاف به ضریب شکست $n > 1$ پر شده است. یک باریکه نور از بیرون ماده شفاف به نیم صفحه P می‌تابد. صفحه تابش برنیم صفحه‌های P و Q عمود است. زاویه α در چه رابطه‌ای صدق کند تا به ازای هیچ مقداری از زاویه تابش، باریکه از نیم صفحه Q خارج نشود؟ بیرون ماده شفاف هوا است.



- (الف) $\sin \alpha \geq \frac{1}{n}$ (ب) $\sin \frac{\alpha}{2} \geq \frac{1}{n}$ (ج) $\cos \frac{\alpha}{2} \geq \frac{1}{n}$ (د) $-\cos \alpha \geq \frac{1}{n}$

۱۲- ماه

انرژی بستگی هسته ${}^A_Z X_N$ از رابطه $B = [Zm_p + Nm_n - m_X]C^2$ به دست می‌آید. m_n, m_p به ترتیب جرم پروتون و نوترون، m_x جرم هسته، C سرعت نور، و B انرژی بستگی هسته است. انرژی بستگی برای $A > 100$ تقریباً به صورت $B = (a + bA)A$ است، که در آن $a = 9/6 \text{ MeV}$ ، $b = 0.008 \text{ MeV}$ است. فرض کنید هسته‌ای با جرمی A واپاشی کند و به یک هسته با عدد جرمی $(A - 4)$ و یک هسته α با عدد جرمی ۴ تبدیل شود. حداقل عدد جرمی A چقدر باشد تا این فرآیند انجام پذیر باشد؟ انرژی بستگی ذره α برابر 28 MeV است.

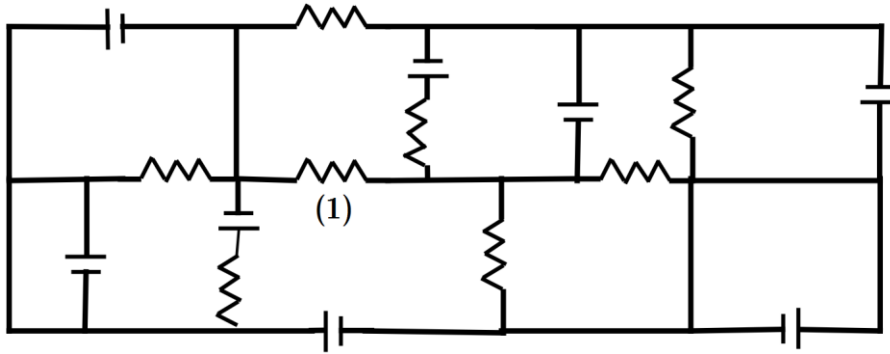
- (الف) ۱۹۰ (ب) ۲۱۱ (ج) ۲۳۵ (د) ۲۳۸

۱۳- ماه

انرژی ذره‌ای که مقید است در فاصله‌ای به طول a حرکت کند. گسسته است. انرژی تراز n م این ذره $F_n = \frac{n^2 h^2}{\lambda a^2 m}$ است. $h = 6.6 \times 10^{-34} \text{ Js}$ ثابت پلانک، m جرم ذره، و n یک عدد طبیعی است. فرض کنید الکترونی مقید است در فاصله‌ی به طول $a = 10^{-10} \text{ m}$ حرکت کند. اگر بخواهیم با تاباندن یک فوتون، این الکترون را از تراز $n = 1$ به تراز $n = 3$ برانگیخته کنیم، بسامد این فوتون چقدر باید باشد؟ جرم الکترون $9.1 \times 10^{-31} \text{ kg}$ است.

- (الف) $8/2 \times 10^{16} \text{ Hz}$ (ب) $7/3 \times 10^{16} \text{ Hz}$ (ج) $3/6 \times 10^{16} \text{ Hz}$ (د) $9/1 \times 10^{16} \text{ Hz}$

۱۴- در مدار شکل، همه مقاومت‌ها برابر با R است. نیروی محرکه همه باتری‌ها E و مقاومت درونی آن‌ها صفر است. چه جریانی از مقاومتی که با شماره ۱ نشان داده شده است می‌گذرد؟



(د) $\frac{3E}{R}$

(ج) $\frac{2E}{R}$

(ب) $\frac{E}{R}$

الف) ۰

۱۵- یک آینه در $t = 0$ از نقطه O می‌گذرد و با سرعت ثابت V به طرف راست حرکت می‌کند. یک ساعت در نقطه O است. وقتی این ساعت $t = T$ را نشان می‌دهد، یک تپ نور از نقطه O گسیل می‌شود. این تپ به آینه می‌خورد و از آن باز می‌تابد و به نقطه O برمی‌گردد. وقتی تپ به نقطه O می‌رسد، ساعت $t = T'$ را نشان می‌دهد. سرعت نور C است. رابطه T' با T چیست؟

(ج) $T' - T$

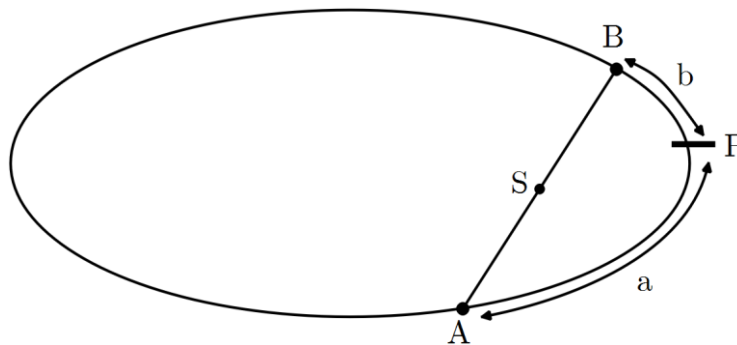
(ب) $T' = T \sqrt{\frac{C+V}{C-V}}$

(الف) $T' = T \frac{C+V}{C-V}$

(ه) $T' = T \frac{C-V}{C+V}$

(د) $T' = T \sqrt{\frac{C-V}{C+V}}$

۱۶- مدار سیاره X بیضی‌ای است که در شکل نشان داده شده است. فاصله سیاره از ستاره مرکزی (S) در نقطه P کمترین مقدار است. در نقطه A نور ستاره در قطب شمال سیاره، از هر وقت دیگری به خط عمود بر سطح سیاره نزدیک‌تر است. هنگامی که قطب شمال سیاره بیشترین توان ناشی را از ستاره دریافت می‌کند. این سیاره کجا است؟



(ج) در نقطه P

(ب) بین A و P (در ناحیه a)

(الف) در نقطه A

(ه) در نقطه B

(د) بین B و P (در ناحیه b)

۱۷- فشار هوا در سطح زمین P_0 ، در ارتفاع h_1 از سطح زمین P_1 ، و در ته چاهی که عمق آن h_2 است. P_2 است اگر دما زیاد شود و P_0 ثابت بماند:

(ب) P_1 کم می‌شود و P_2 زیاد می‌شود.

(الف) P_1 و P_2 هر دو کم می‌شوند.

(د) P_1 و P_2 هر دو زیاد می‌شوند.

(ج) P_1 زیاد می‌شود و P_2 کم می‌شود.

۱۸- ماه یک جسم کوچک در فاصله 90 cm از یک عدسی همگرا و روی محور آن است. فاصله کانونی عدسی 30 cm است. یک آینه تخت کوچک در فاصله 30 cm از عدسی و در طرف دیگر روی محور آن است. زاویه محور عدسی با خط عمود بر آینه 45° است. تصویر نهایی جسم:

- (الف) کوچکتر از جسم و حقیقی است. (ب) کوچکتر از جسم و مجازی است.
(ج) بزرگتر از جسم و حقیقی است. (د) بزرگتر از جسم و مجازی است.

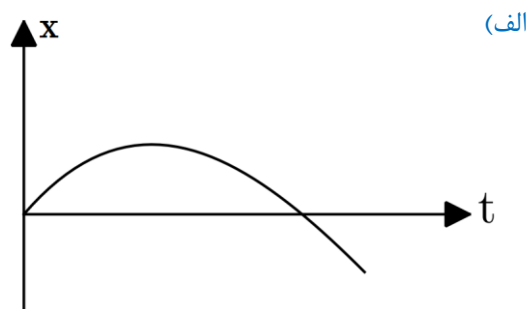
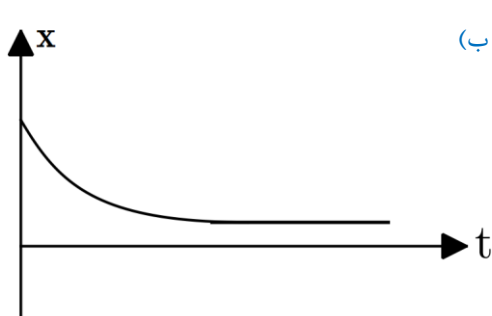
۱۹- ماه فتوسنتز در برگ گیاه انجام می‌شود و برگ بیشتر گیاهان سبز است. با توجه به این، کدام گزینه درست است؟

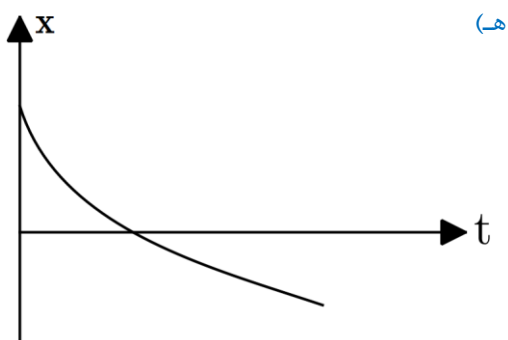
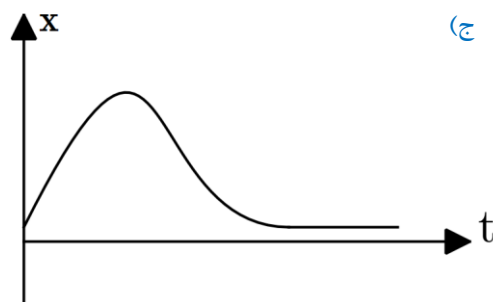
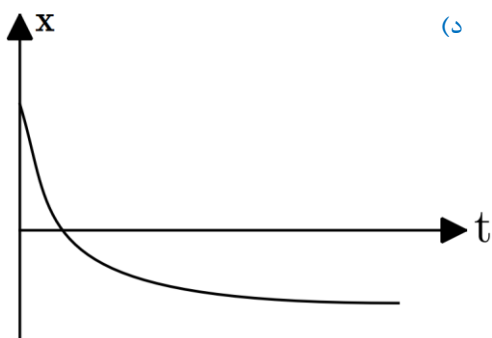
- (الف) برگ گیاهان نسبت به نور سبز شفاف است.
(ب) کمترین مقدار فتوسنتز در نور سبز ایجاد می‌شود.
(ج) ضریب شکست برگ برای نور سبز از ضریب شکست برگ برای نورهای مرئی دیگر بیشتر است.
(د) اگر به برگ گیاه نور آبی و نور قرمز (باهم) بتابانیم، برگ سفید دیده می‌شود.

۲۰- ماه با روش‌های فعلی ساخت دیسک سخت کامپیوتر (Hard Disk) به نظر می‌رسد برای اینکه فاصله بین دو نقطه متمایز حافظه (بیت) از 100 nm کمتر شود مشکلات جدی وجود دارد. فرض کنید در دیسک‌های سخت فعلی، در مربعی که طول ضلع آن 10 cm است، 10^{10} بیت وجود دارد. بنابر قاعده مور (Moore)، که در 30 سال گذشته تقریباً درست بوده است، تعداد بیت‌ها بر واحد سطح هر $1/5$ سال دو برابر شده است با فرض این که این قاعده همچنان درست بماند. حدوداً چند سال طول می‌کشد تا فاصله بیت‌های مجاور به حد 100 nm برسد؟

- (الف) ۳ سال (ب) 10 سال (ج) 30 سال (د) 100 سال

۲۱- ماه سرعت جریان یک رود v_1 است، رود به طرف شرق جریان دارد. روی این رود یک قایق با سرعت ثابت v_2 نسبت به آب به طرف شرق حرکت می‌کند. در $t = 0$ یک تکه چوب از قایق با سرعت v_3 به طرف شرق، نسبت به قایق در رود پرتاب می‌شود. جهت مثبت را رو به شرق می‌گیریم. نمودار مکان این تکه چوب نسبت به قایق (x) بر حسب زمان کدام است؟





۲۲- ماگ یک مکعب چوبی به ضلع 1 m روی آب شناور است. ارتفاع بخش بیرون از آب مکعب 20 cm است. فشار جو را 10^5 pa بگیرید. نیرویی که آب بر این مکعب وارد می‌کند چقدر است؟

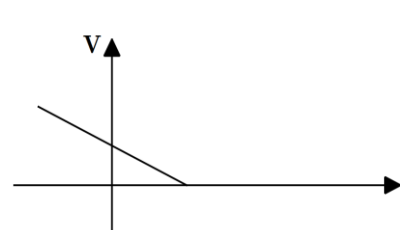
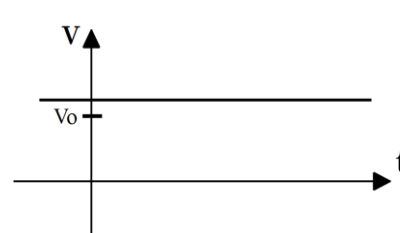
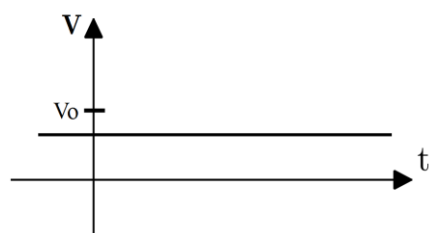
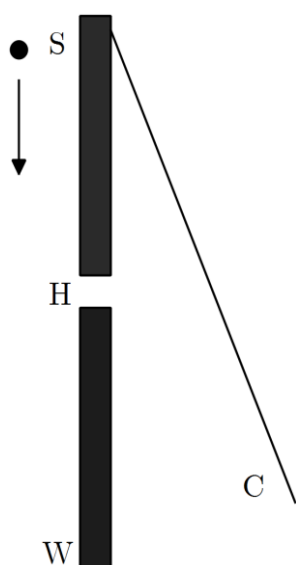
(د) 440800 N

(ج) 20800 N

(ب) 108000 N

(الف) 8000 N

۲۳- ماگ پرده C ، مطابق شکل پشت دیوار W قرار دارد. روزنه کوچک H در دیوار W است. چشمه کوچک S با سرعت ثابت v_0 به موازات دیوار به طرف پایین حرکت می‌کند و در لحظه $t = 0$ درست رویه‌روی H است. (طوری که SH بر دیوار عمود است) نور چشمه S لکه کوچکی روی پرده C درست می‌کند. نمودار سرعت این لکه روی پرده چگونه است؟



۲۴- ماه v با سرعت ۱ به طرف راست حرکت می‌کند و با ذره مشابه دیگری (ذره ۲) برخورد می‌کند. ذره ۲ ساکن است. از دید یک دستگاه مختصات دیگر، ذره ۱ با سرعت v^1 به طرف راست و ذره ۲ با سرعت v^2 حرکت می‌کنند. پس از برخورد، سرعت ذره ۱ در این دستگاه مختصات $\frac{v}{4}$ و سرعت ذره ۲ در همین دستگاه مختصات $\frac{v}{2}$ می‌شود. سرعت ذره ۱ پس از برخورد از دید دستگاه مختصات اول چقدر است؟

(راهنمایی: فرض کنید سرعت یک ذره در یک دستگاه مختصات v باشد. فرض کنید دستگاه مختصات دیگری با سرعت V نسبت به دستگاه مختصات اول حرکت کند. در این صورت سرعت ذره نسبت به دستگاه مختصات دوم $v^1 = v - V$ می‌شود)

- الف) صفر ب) $\frac{v}{4}$ ج) $\frac{v}{3}$ د) $\frac{v}{2}$ ه) $\frac{-v}{4}$

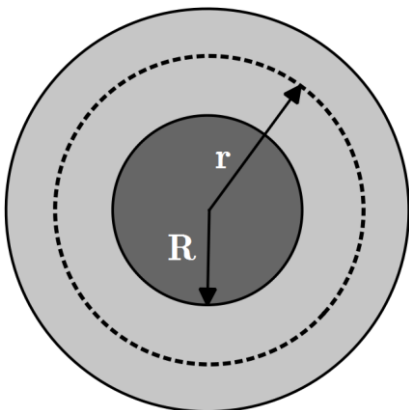
۲۵- ماه شد تابش خورشید (توان بر واحد سطح و عمود بر جهت تابش) در بالای جو زمین $1/4 kW/m^2$ است. جرم خورشید $2 \times 10^{30} kg$ است. نور فاصله خورشید تا زمین را در ۸ دقیقه و ۲۰ ثانیه می‌پیماید. فرض کنید عمر خورشید 10^7 سال است و شدت تابش خورشید در این مدت را ثابت بگیرید. در طول عمر خورشید چه کسری از جرم خورشید به انرژی تبدیل می‌شود؟

الف) 10^{-1} ب) 10^{-2} ج) 10^{-5} د) 10^{-7}

۲۶- ماه طول جغرافیایی چابهار تقریباً 61° شرقی، و طول جغرافیایی تبریز تقریباً 46° شرقی است. عرض جغرافیایی چابهار تقریباً 25° شمالی، و عرض جغرافیایی تبریز تقریباً 38° شمالی است. در یک روز زمستانی، خورشید در چابهار ساعت ۵ به وقت تهران غروب می‌کند. همان روز، خورشید در تبریز کی غروب می‌کند؟

الف) ساعت ۶ به وقت تهران ب) پیش از ساعت ۶ به وقت تهران ج) پس از ساعت ۶ به وقت تهران

۲۷- ماه مطابق شکل، فرض کنید یک سیاره از دو بخش تشکیل شده است: یک هسته کروی به شعاع R و یک لایه بیرونی، چگالی در هریک از این دو بخش ثابت است. چگالی در هسته بیش از چگالی در لایه بیرونی است. چگالی متوسط سیاره (جرم کل آن تقسیم بر حجم کل آن) ρ_0 و چگالی در لایه بیرونی ρ_1 است. شتاب سقوط آزاد در نقطه‌ای به فاصله r از مرکز سیاره $g = \frac{GM(r)}{r^2}$ است، که در آن G ثابت گرانش و $M(r)$ جرمی است که در کره‌ای به مرکز سیاره و شعاع r موجود است. چه رابطه‌ای بین ρ_0 و ρ_1 باشد تا با پایین رفتن از سطح سیاره مثلاً فرو رفتن در یک چاه، g زیاد شود. (یعنی $\frac{dg}{dr}$ در سطح این سیاره منفی باشد)؟



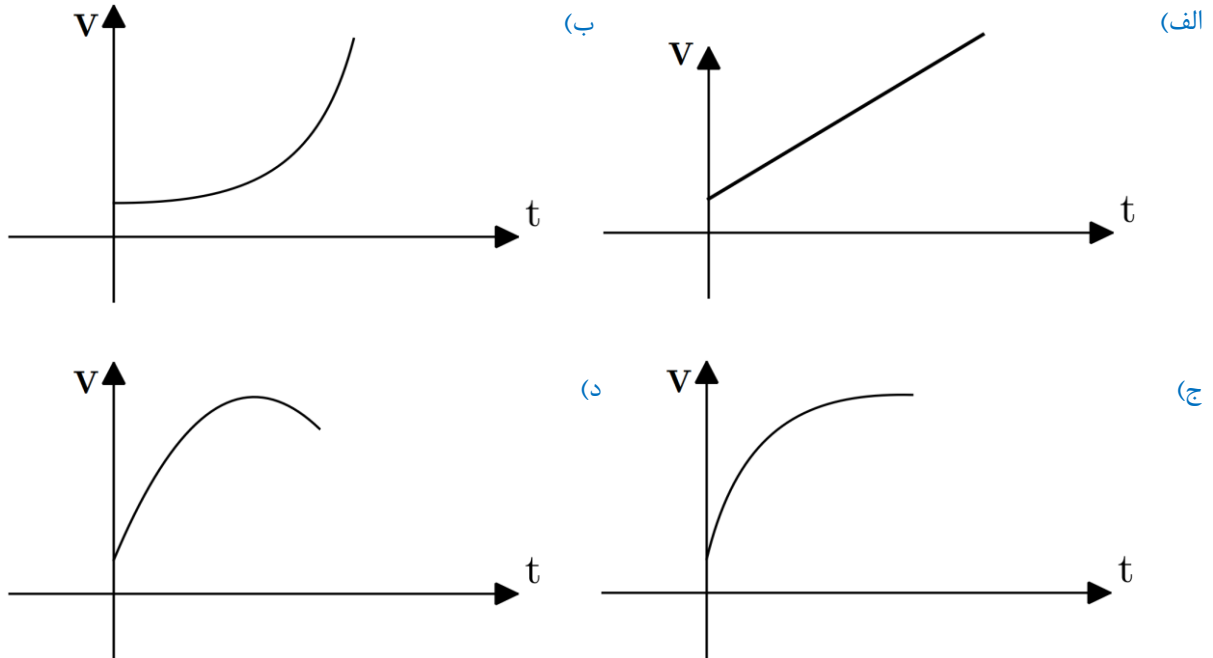
الف) $\rho_1 < \rho_0$

ب) $\rho_1 < \frac{2}{3} \rho_0$

ج) $\rho_1 < \frac{1}{2} \rho_0$

د) $\rho_1 < \frac{1}{3} \rho_0$

۲۸- ماه فرض کنید بیشینه توان مفید یک ماشین (P) در سرعت‌های کم فقط تابع سرعت آن (v) است. فرض کنید این بستگی به شکل $P = \alpha v^2$ است، که α مقدار ثابتی است. این ماشین با سرعت اولیه v_1 از شیبی با زاویه شیب ثابت بالا می‌رود ماشین با توان بیشینه بالا می‌رود. نمودار سرعت بر حسب زمان (t) برای این ماشین کدام است؟

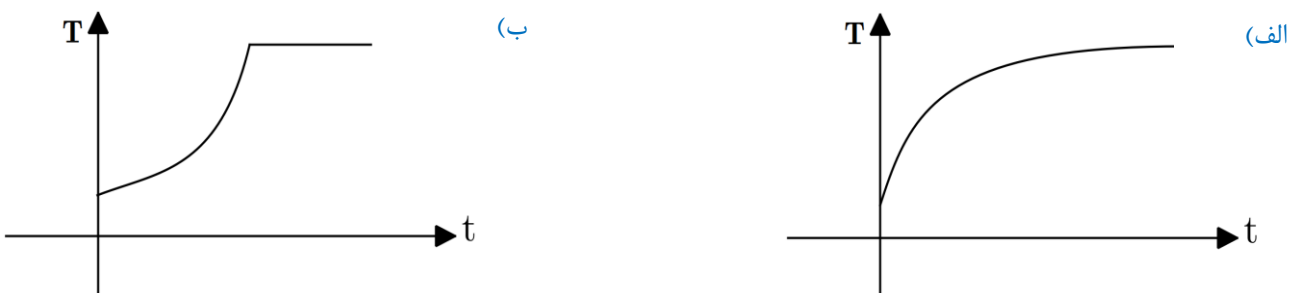


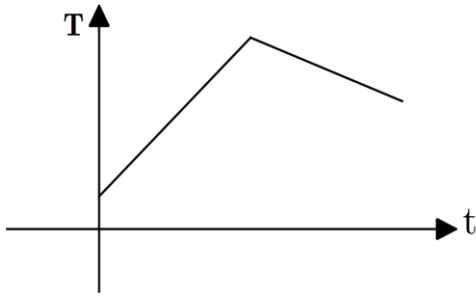
۲۹- ماه یک دو قطبی الکتریکی عبارت است از یک بار مثبت (q) و یک بار منفی ($-q$) که به فاصله کوچکی از هم قرار دارند. این دو قطبی را، مطابق شکل، روی محور x می‌گذاریم. در فضا میدان الکتریکی وجود دارد که روی محور x به شکل $\vec{E} = E \vec{i}$ است. E یک تابع صعودی از x است. حرکت دو قطبی چگونه است؟



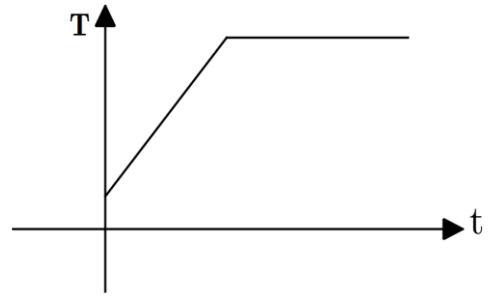
- (الف) حتماً در جهت مثبت محور x حرکت می‌کند.
- (ب) حتماً در جهت منفی محور x حرکت می‌کند.
- (ج) اگر E در محل دو قطبی مثبت باشد در جهت مثبت محور x ، و اگر E در آن جا منفی باشد در جهت منفی محور x حرکت می‌کند.
- (د) اگر E در محل دو قطبی مثبت باشد در جهت منفی محور x ، و اگر E در آن جا منفی باشد در جهت مثبت محور x حرکت می‌کند.
- (ه) از محور x خارج می‌شود.

۳۰- ماه یک کتری آب را روی اجاق می‌گذاریم. شعله اجاق تقریباً ثابت است. با فرض اینکه مقدار آبی که قبل از جوشیدن آب تبخیر می‌شود ناچیز باشد، کدامیک از این نمودارها به نمودار دمای آب (T) بر حسب زمان (t) نزدیک‌تر است؟

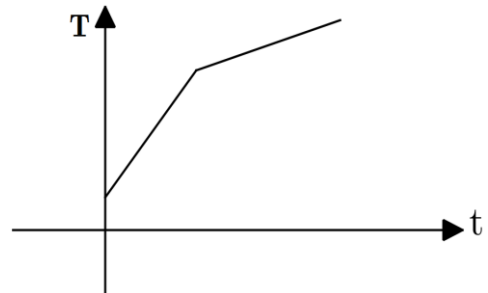




(د)

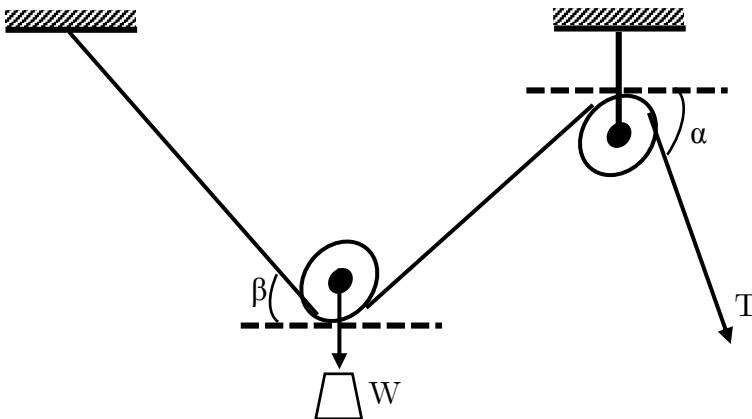


(ج)



(ه)

۳۱- ماگ در شکل قرقره‌ها سبک‌اند و اتلاف اصطکاکی‌شان ناچیز است. مجموعه در میدان گرانشی زمین است. نیروی کشش T چنان است که دستگاه در حال تعادل باشد. رابطه T با دو زاویه α و β چگونه است؟



- (الف) T نسبت به β نزولی است و به α بستگی ندارد.
- (ب) T نسبت به α و β هر دو صعودی است.
- (ج) T نسبت به β صعودی و نسبت به α نزولی است.
- (د) T نسبت به β نزولی و نسبت به α صعودی است.
- (ه) T نسبت به β صعودی است و به α بستگی ندارد.
- (و) T نسبت به β و α هر دو نزولی است.

۳۲- ماگ فنری با ثابت کشسانی $\frac{200}{m} N$ یک وزنه یک کیلوگرمی آویزان می‌کنیم و آن را به نوسان وا می‌داریم. مبدأ محور قائم (y) را نقطه تعادل وزنه می‌گیریم. معادله حرکت وزنه در واحدهای SI ، $y = 0.08 \sin(\omega t + \frac{\pi}{4})$ است. انرژی پتانسیل کشسانی فنر در بالاترین نقطه از مسیر حرکت وزنه، نسبت به حالت کشیده نشده فنر چند میلی‌ژول است؟

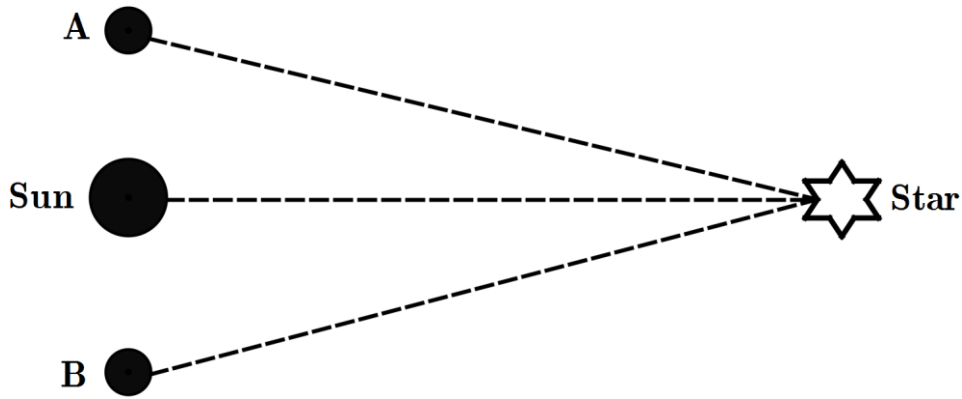
(د) ۳۲۰

(ج) ۲۵۰

(ب) ۹۰

(الف) ۶۴۰

۳۳- ماه اخترشناسان برای اندازه‌گیری فاصله ستاره‌ای تا زمین با دوربین نجومی دوبار آن را به فاصله ۶ ماه از زمین رصد می‌کنند. در دو رصد یک ستاره، محور دوربین ۰/۰۵ ثانیه قوسی می‌چرخد. زمین در زمان‌های رصد ستاره، در نقطه‌های A و B است. فرض کنید خطی که خورشید را به ستاره وصل می‌کند، بر خط AB عمود است. فاصله ستاره تا زمین تقریباً چند برابر فاصله زمین تا خورشید است؟ (هر درجه ۳۶۰۰ ثانیه قوسی است)



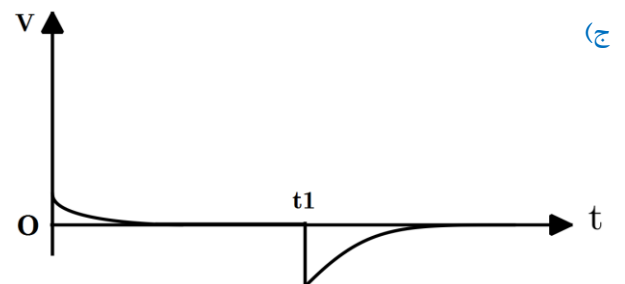
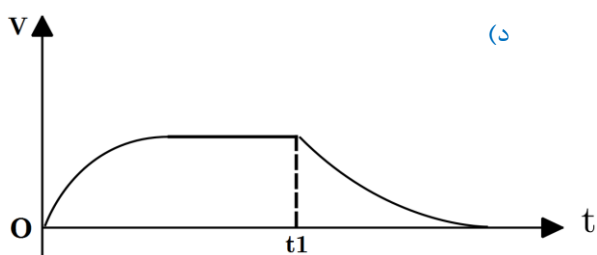
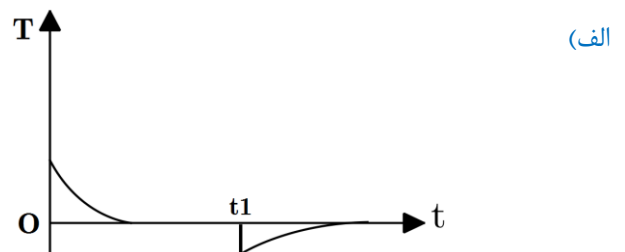
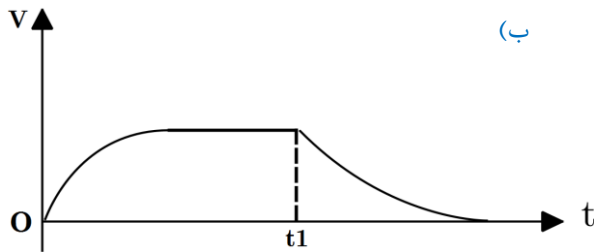
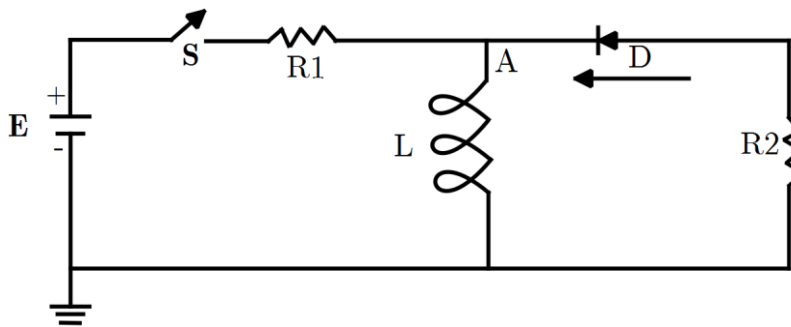
(د) 10^{11} برابر

(ج) 10^9 برابر

(ب) 10^7 برابر

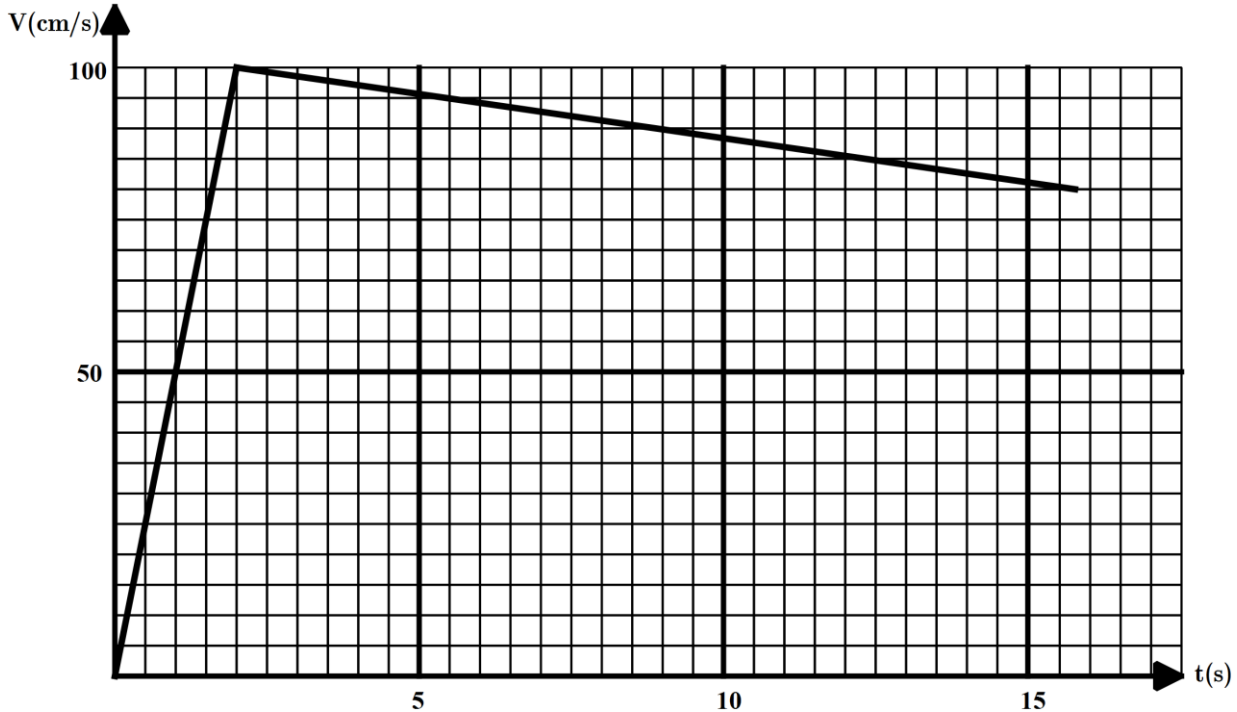
(الف) 10^5 برابر

۳۴- ماه در شکل $R_2 = 3R_1$ و باتری با نیروی محرکه E و بدون مقاومت داخلی است. قطعه سیاه رنگی که نشان داده شده دیود است، که فقط اجازه عبور جریان از راست به چپ (در جهت فلش مشخص شده) را می‌دهد. دیود وقتی جریان از آن می‌گذرد شبیه یک مقاومت صفر اهم است در $t = 0$ کلید S را می‌بندیم و مدت زیادی صبر می‌کنیم. در زمان t_1 کلید را باز می‌کنیم. کدام شکل نمودار پتانسیل نقطه A بر حسب زمان است؟

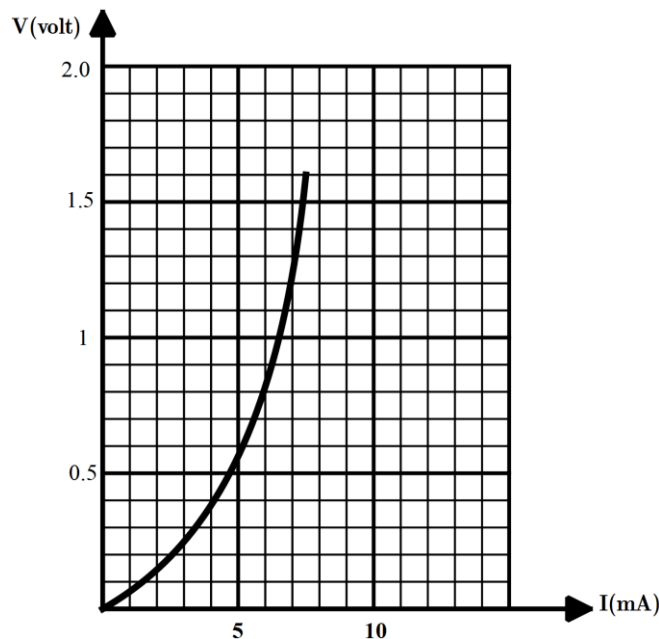


«بخش مسائل کوتاه»

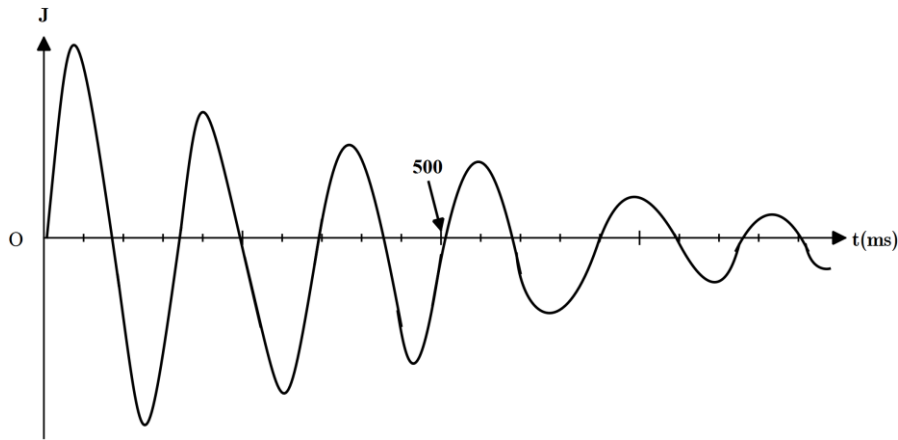
۱- نمودار سرعت - زمان یک شناگر مطابق شکل است. سرعت متوسط در بازه زمانی صفر تا t را $\bar{v}(t)$ می‌نامیم. بیشینه $\bar{v}(t)$ برای این شناگر چند سانتی‌متر بر ثانیه است؟



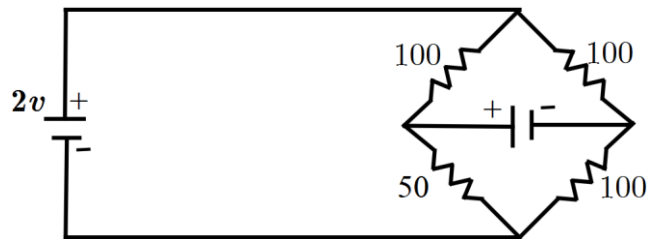
۲- یک مقاومت غیرخطی عنصری است که ولتاژ دو سر آن به جریانی که از آن می‌گذرد بستگی دارد. اما این بستگی به شکل قانون اهم نیست. نمودار ولتاژ دو سر یک مقاومت غیرخطی بر حسب جریان مطابق شکل است. این مقاومت را به دو سر یک باتری می‌بندیم که نیروی محرکه آن $5V/1$ ، و مقاومت درونی آن 10Ω است. نسبت گرمای تلف شده در مقاومت غیرخطی به مجموع گرماهای تلف شده در مقاومت غیرخطی و باتری را بازده می‌نامیم. این بازده چند درصد است؟



۳- نمودار جریانی که از یک مدار می‌گذرد برحسب زمان مطابق شکل است. فاصله بین دو زمان متوالی که جریان صفر می‌شود چند میلی ثانیه است؟ جواب با دقت میلی‌ثانیه مورد نظر است. یعنی اگر جواب درست مثلاً $37ms$ باشد، جواب‌های $36ms$ و $38ms$ هم نادرست به حساب خواهند آمد.



۴- جریانی که از مقاومت 50Ω در شکل می‌گذرد چند میلی‌آمپر است؟ مقاومت داخلی باتری‌ها را ناچیز فرض کنید.



«کلید سؤالات»

۱	ه د ج ب الف	۲۱	ه د ج ب	۴۱	ه د ج ب الف
۲	ه د ج ب الف	۲۲	ه د ج ب الف	۴۲	ه د ج ب الف
۳	ه د ج ب الف	۲۳	ه د ج ب الف	۴۳	ه د ج ب الف
۴	ه د ج ب الف	۲۴	ه د ج ب الف	۴۴	ه د ج ب الف
۵	ه د ج ب الف	۲۵	ه د ج ب الف	۴۵	ه د ج ب الف
۶	ه د ج ب الف	۲۶	ه د ج ب الف	۴۶	ه د ج ب الف
۷	ه د ج ب الف	۲۷	ه د ج ب الف	۴۷	ه د ج ب الف
۸	ه د ج ب الف	۲۸	ه د ج ب الف	۴۸	ه د ج ب الف
۹	ه د ج ب الف	۲۹	ه د ج ب الف	۴۹	ه د ج ب الف
۱۰	ه د ج ب الف	۳۰	ه د ج ب الف	۵۰	ه د ج ب الف
۱۱	ه د ج ب الف	۳۱	ه د ج ب الف	۵۱	ه د ج ب الف
۱۲	ه د ج ب الف	۳۲	ه د ج ب الف	۵۲	ه د ج ب الف
۱۳	ه د ج ب الف	۳۳	ه د ج ب الف	۵۳	ه د ج ب الف
۱۴	ه د ج ب الف	۳۴	ه د ج ب الف	۵۴	ه د ج ب الف
۱۵	ه د ج ب الف	۳۵	ه د ج ب الف	۵۵	ه د ج ب الف
۱۶	ه د ج ب الف	۳۶	ه د ج ب الف	۵۶	ه د ج ب الف
۱۷	ه د ج ب الف	۳۷	ه د ج ب الف	۵۷	ه د ج ب الف
۱۸	ه د ج ب الف	۳۸	ه د ج ب الف	۵۸	ه د ج ب الف
۱۹	ه د ج ب الف	۳۹	ه د ج ب الف	۵۹	ه د ج ب الف
۲۰	ه د ج ب الف	۴۰	ه د ج ب الف	۶۰	ه د ج ب الف